

نام و نام خانوادگی :

به نام خداوند دانایبها

نام درس :

پایه : دوم

نام آموزگار :



تاریخ : / /

موضوع :



۱- برای جمع بکشید . جمع را انجام دهید و روی شکل نشان دهید .

$$\begin{array}{r} 3 \\ 8 \\ 2 \\ + \\ 1 \\ \hline \end{array}$$

۲- برای تفریق شکل بکشید . تفریق را انجام دهید . و روی شکل نشان دهید .

$$\begin{array}{r} 6 \\ 0 \\ 5 \\ - \\ 1 \\ \hline \end{array}$$

۳- ارزش سکه های هر قسمت را بنویسید .

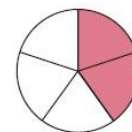
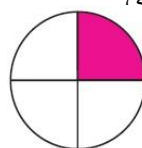
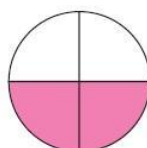
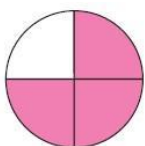


۴- با توجه به عبارت ها شکل مناسب بکشید .

۳ قسمت از ۷ قسمت قرمز است .

۵ قسمت از ۱۰ قسمت زرد است .

۴- کدام یک از شکل های زیر نیم را نشان می دهد .



۵- مریم با پولش یک مداد ۲۰۰ تومانی و دو پاک کن ۳۰۰ تومانی خرید و ۵۹ تومان برایش باقی ماند پول مریم چند تومان بوده است .

۶- شماره آتش نشانی و اورژانس را بنویسید سپس آنها را داخل جدول ارزش مکانی قرار دهید زوج و فرد بودن هر کدام را مشخص کنید.

صد تایی	ده تایی	یکی



صد تایی	ده تایی	یکی



۷- مقایسه کنید و علامت مناسب بگذارید. ( $<$   $=$   $>$ )

$200 + 40 + 60 + 5 + 500$    $40 + 50 + 200 + 20 + 10 + 100 + 5$   
 $845$    $584$        $96$    $691$        $118 + 100$    $318 - 100$

۸- با توجه به الگو نوشتن عدد ها را ادامه دهید.



۹- هر دو عدد را زیر هم بنویسید و جمع کنید.

۳, ۱۴۷	۴۶۸, ۵۹
--------	---------

۱۰- هر دو عدد را زیر هم بنویسید و تفریق کنید.

۱۴ و ۶۰۵	۹۵۹, ۳۸۴
----------	----------

۱۱- در جای خالی عدد مناسب بنویس.

۹۸۱ ..... ده تایی و ..... صد تایی ..... یکی  
 ۶ صد تایی و ۷ ده تایی می شود .....  
 ۵ یکی و ۹ صد تایی می شود .....  
 ۳ ده تایی و ۲ یکی و ۱ صد تایی می شود .....