




..... دسته ..... تایی



فرزند با هوشم با توجه به شکل کامل کن .

..... دسته ..... تایی



ربع دایره را رنگ کن .



۳ قسمت از ۴ قسمت مساوی



۲ قسمت از ۶ قسمت مساوی

به اندازه ای که در هر جمله خواسته شده از شکل ها رنگ کن.



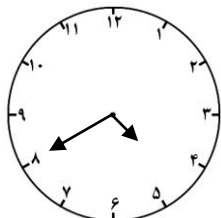
در یک سبد ۵ تا توپ صورتی و ۳ تا توپ آبی است .

..... توپ از ..... توپ آبی است .

..... توپ از ..... توپ صورتی است .

اگر بخواهیم یک توپ به طور شانسی از سبد برداریم احتمال توپ چه رنگی بیشتر است؟ چرا؟

.....



ساعت ..... و ..... دقیقه است .

یعنی ..... دقیقه مانده به ..... است .

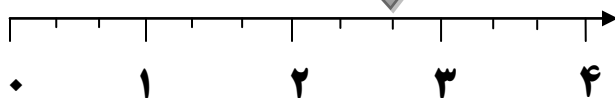
ده دقیقه قبل ساعت ..... و ..... بود .

با سه رقم ۸ ، ۵ و ۳ بزرگ ترین عدد سه رقمی را بنویس که دهگان آن کمترین یکانش باشد .



هر واحد این محور به ..... قسمت مساوی تقسیم شده است .

یعنی نقطه ی مشخص شده ..... واحد و ..... قسمت از ..... قسمت مساوی است .



جمع و تفریق های زیر را انجام بده .

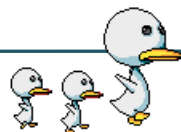
$263$	$692$	$318$	$407$	$614$
$+ 59$	$- 7$	$+ 298$	$- 314$	$- 185$
_____	_____	_____	_____	_____

به علامت ها توجه کن !

زینب ۱۲۸ ریال عیدی گرفته بود . حدیث ۴۵ ریال بیش تر عیدی دارد . عیدی های زینب و حدیث چند ریال است ؟

حدیث ..... ریال عیدی دارد .

عیدی های زینب و حدیث ..... ریال است .



در جای خالی عدد مناسب بنویس .

۳۹ میلی متر یعنی ..... سانتی متر و ..... میلی متر


۱۸ میلی متر یعنی ..... سانتی متر و ..... میلی متر

۷ سانتی متر یعنی ..... میلی متر .

۶ سانتی متر و ۸ میلی متر یعنی ..... میلی متر .

درسا ۳ سکه ۱۰ ریالی و ۲ سکه ۵ ریالی و ۶ سکه ۱ ریالی دارد . او یک مداد به قیمت ۱۸ ریال خرید . چند ریال

برای درسا باقی مانده است ؟



احساس دانش آموز از آزمون :

نظر آموزگار.....

مواردی که احتیاج به تمرین بیشتر داری.....