



نام و نام خانوادگی :

به نام خداوند داناییها

نام درس : ریاضی

پایه : سوم

نام آموزگار : سرکار کرباسی صالح



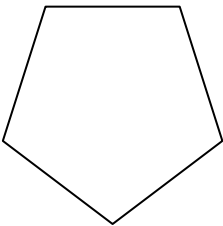
تاریخ : ۲ / ۱۲ / ۹۴

موضوع : تمرین

۱- محیط شکل مقابل ۳۲ سانتی متر است . اندازه هر ضلع آن چند سانتی متر است ؟

۲- در یک سالن برای هر ۷ نفر یک میز گذاشته اند . برای ۶۳ نفر چند متر باید گذاشت ؟

۳- با توجه به شکل زیر به سوال های زیر پاسخ بده و قطر شکل را رسم کن .



نام شکل :

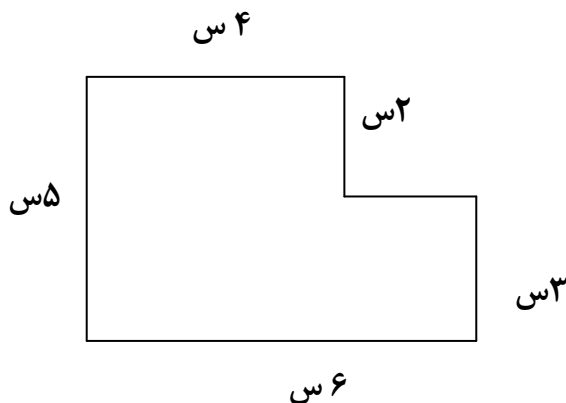
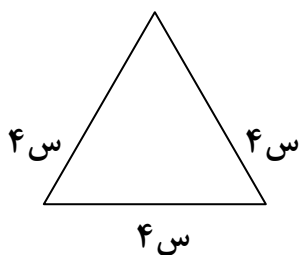
تعداد ضلع :

تعداد قطر :

تعداد پاره خط :


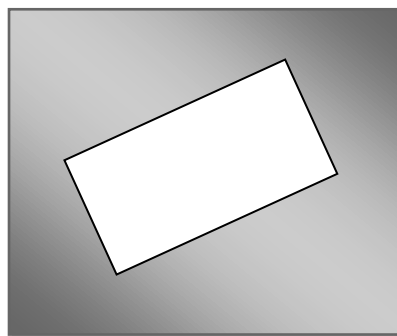
۴- دو چرخه سواری در یک مسابقه ۵ کیلومتری شرکت کرد . اما دوچرخه ی او ۷۰۰ متر مانده به خط پایان پنجر شد . او چند کیلومتر و چند متر راه پیوده است ؟

۵- محیط شکل های زیر را بدست آورید .



۶- مساحت شکل های زیر را بدست آورید .

۵ س



جمع و تفریق های زیر را از راه طولانی بدست آورید .

$$\begin{array}{r} 9 \\ 4 \\ 7 \\ 3 \\ - 1 \\ \hline \end{array}$$

$$\begin{array}{r} 2 \\ 1 \\ 5 \\ 4 \\ + 9 \\ \hline \end{array}$$



نیاز به تلاش	قابل قبول	خوب	خیلی خوب	امضا معلم :	امضا ولی :