



نام و نام خانوادگی :

به نام خداوند داناییها

نام درس : ریاضی

پایه : سوم

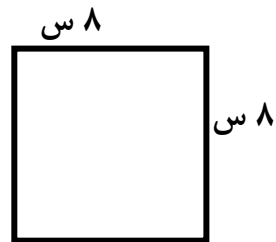
نام آموزگار : سرکار خانم کرباسی صالح



تاریخ : ۱۱ / ۲ / ۹۵

موضوع : ارزشیابی

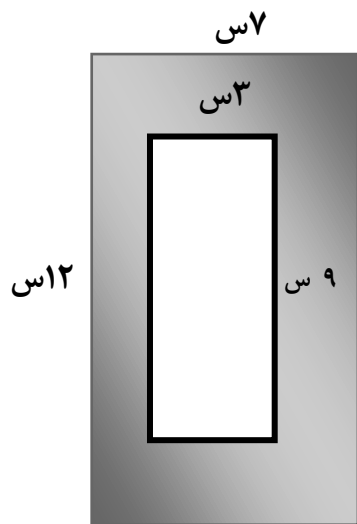
۱- محیط شکل های زیر را با نوشتن فرمول بدست آورید .



۲- مساحت شکل زیر بدست آورید . (نوشتن فرمول)



۳- مساحت قسمت رنگ شده را بدست آورید . (نوشتن فرمول)



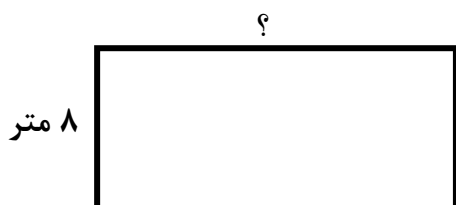
۴- مساحت مستطیلی ۳۶ سانتی متر مربع است . اگر طول آن ۹ سانتی متر باشد عرض آن چند سانتی متر است .

۵- جمع و تفریق های زیر را از راه طولانی بدست آورید .

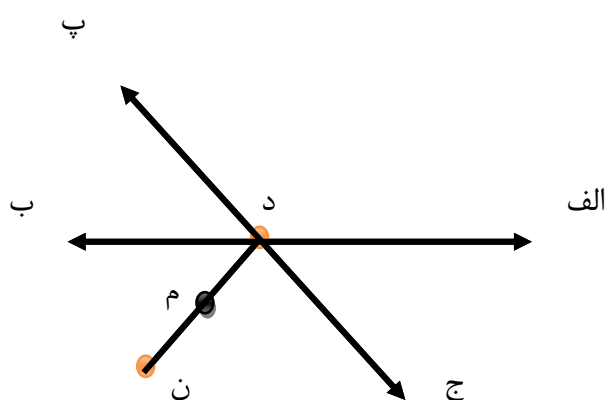
$$\begin{array}{r} 3 \quad 8 \quad 9 \quad 1 \\ + 2 \quad 2 \quad 2 \quad 3 \\ \hline \end{array}$$

$$\begin{array}{r} 6 \quad 7 \quad 3 \quad 1 \\ - 2 \quad 5 \quad 2 \quad 7 \\ \hline \end{array}$$

۶- محیط زمینی را بدست آور که عرض آن ۸ متر و طول آن ۲ برابر عرض باشد .



۷- با توجه به شکل تعداد خط راست ، پاره خط و نیم خط را مشخص کن و نام ببر .



خط راست :

پاره خط :

نیم خط :



تلگرام معلم یار
Telegram.me/MoallemYarir

به ما بپیوندید | Join To Telegram

امضا ولی :	امضا معلم :	خیلی خوب	خوب	قابل قبول	نیاز به تلاش