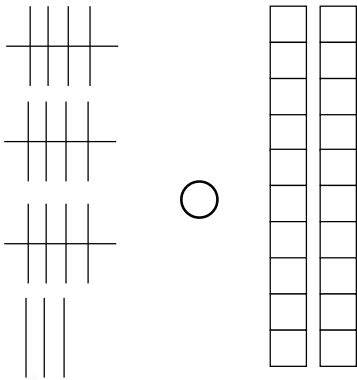


۱. به عدد یا حروف بنویس.

۶۵	
----	--

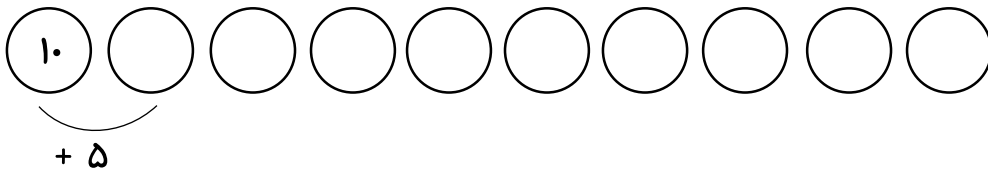
	پنجاه و چهار
--	--------------

۲. علامت مناسب  $< = >$  قرار بده.

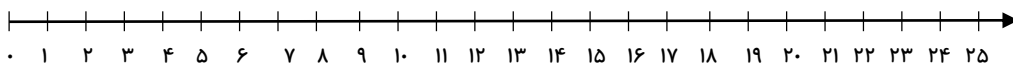


$۴۰ + ۴۰ = \dots\dots\dots$   $\bigcirc$   $۵۰ + ۳۰ = \dots\dots\dots$

۳. الگو را ادامه بده.



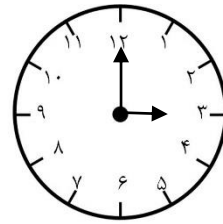

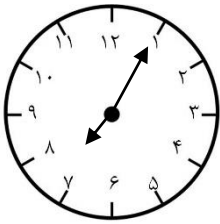
۴. مسئله را یک بار با محور اعداد و بار دوم با چوب خط (هر عدد یک رنگ) کامل کن.  
 حسین ۱۴ بادکنک داشت، پدرش هم به او ۸ بادکنک دیگر داد حالا او چند بادکنک دارد؟ (جلو نویسی فراموش نشود)



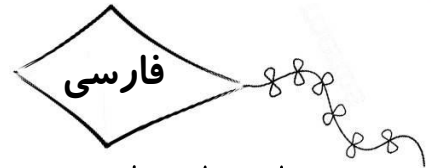
--




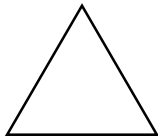

۵. ساعت را مشخص کن.




ساعت: ..... ساعت بین ..... و ..... ساعت کمی از ..... گذشته



۱. نام تصاویر را بنویس.



.....



۲. برای تصویر رو به رو دو جمله بنویس.

.....  
.....

۳. مرتب کن.

را - با - حوله ی - صورت - مخصوص - حمید - خود - خشک کرد.

.....



دوست - دعا کردن - دارد - مادرم - را .

.....

۴. جمله های زیر را با کلمه ی مناسب کامل کن.

الف) من هر روز در مدرسه درس .....

ب) تو هر روز صبح، صبحانه .....

ج) ما در نوروز، به عید دیدنی .....

۵. با هر دو کلمه یک جمله بنویس .

خواهر - برادر

.....

شیشه - شاگرد

.....

