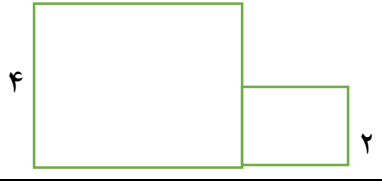
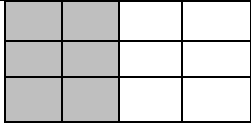




نام و نام خانوادگی.....
به نام خالق آسمانها و زمین
آزمون پیشرفت کلاس هفتم دبستان..... - فروردین ماه

۱	در چه مواقعی می توانیم از آتش نشانی کمک بخواهیم؟ کسی در آسانسور گیر کرده باشد <input type="radio"/> ساختمانی فرو ریخته باشد <input type="radio"/> انگشت کودکی در چرخ گوشت گیر کرده باشد <input type="radio"/> همه ی موارد <input type="radio"/>
۲	در کدام مورد نکات ایمنی رعایت نشده است؟ وقتی کسی در خانه نیست ، در خانه را باز نمی گذاریم <input type="radio"/> وسایل برقی را دست کاری نمی کنیم <input type="radio"/> ترقه ها را در کمد یا کیف نگهداری می کنیم <input type="radio"/> هیچ وقت از گاز مسافرتی برای گرم کردن حمام استفاده نمی کنیم <input type="radio"/>
۳	چه کسانی در ساختن خانه با هم همکاری می کنند؟ مهندس ساختمان و بنا <input type="radio"/> لوله کش و برق کار <input type="radio"/> گچ کار و کاشی کار <input type="radio"/> همه ی موارد <input type="radio"/>
۴	مأموران زحمتکش شهرداری در چه ساعتی زباله ها را جمع آوری می کنند؟ ۹ شب <input type="radio"/> ۱۲ ظهر <input type="radio"/> ۵ بعد از ظهر <input type="radio"/> صبح زود <input type="radio"/>
۵	در کدام مناطق آب و هوایی سقف خانه ها را گنبدی شکل می سازند و برای خنک کردن آن از بادگیر استفاده می کنند؟ مناطق سرد <input type="radio"/> مناطق پر باران <input type="radio"/> مناطق گرم <input type="radio"/> هیچکدام <input type="radio"/>
۶	شغل اصلی عشایر چیست و در کجا زندگی می کنند؟ باغداری - خانه <input type="radio"/> دامپروری - چادر <input type="radio"/> کشاورزی - چادر <input type="radio"/> کشاورزی - باغ <input type="radio"/>
۷	خانه کدام نیاز های ما را برطرف می کند؟ محبت <input type="radio"/> پوشاک و خوراک <input type="radio"/> امنیت و آرامش <input type="radio"/> همه ی موارد <input type="radio"/>
۸	شماره تلفن ندای امداد (هلال احمر) و آتش نشانی به ترتیب کدامند؟ ۱۲۵ - ۱۱۸ <input type="radio"/> ۱۱۲ - ۱۱۵ <input type="radio"/> ۱۲۵ - ۱۱۵ <input type="radio"/> ۱۲۵ - ۱۱۲ <input type="radio"/>
۹ یعنی از موادی که قبلا استفاده شده است ، دو باره مواد جدیدی بسازیم. منابع طبیعی <input type="radio"/> باز یافت <input type="radio"/> اسراف <input type="radio"/> هیچکدام <input type="radio"/>
۱۰	وقتی خورشید طلوع می کند وقت نماز به پایان می رسد. نماز صبح <input type="radio"/> نماز ظهر <input type="radio"/> نماز مغرب <input type="radio"/> نماز عشا <input type="radio"/>
۱۱	وقتی که روزه هستیم کدام ورزش را نباید انجام دهیم؟ والیبال <input type="radio"/> فوتبال <input type="radio"/> شنا <input type="radio"/> دو <input type="radio"/>
۱۲	روز ولادت حضرت فاطمه (س) را چه روزی نامیده اند؟ روز پدر <input type="radio"/> روز پسر <input type="radio"/> روز مادر <input type="radio"/> روز دختر <input type="radio"/>
۱۳	کدام مورد از لقب های حضرت فاطمه (س) نمی باشد؟ بتول <input type="radio"/> زکیه <input type="radio"/> هانیه <input type="radio"/> کبری <input type="radio"/>

۱۴	کدام یک از ماه های زیر ، ماه مهمانی خدا است؟ <input type="radio"/> ماه محرم <input type="radio"/> ماه رجب <input type="radio"/> ماه رمضان <input type="radio"/> همه ی موارد
۱۵	دانه های یک قسمتی ریشه ی و برگ های دارند . <input type="radio"/> افشان - پهن <input type="radio"/> افشان - دراز و باریک <input type="radio"/> راست - پهن <input type="radio"/> راست - دراز و باریک
۱۶	کدام گیاه به جای گل ، مخروط دارد ؟ <input type="radio"/> گیلاس <input type="radio"/> آفتابگردان <input type="radio"/> کاج <input type="radio"/> لوبیا
۱۷	اگر دو سر همنام دو آهن ربا را به یکدیگر نزدیک کنیم ، چه اتفاقی می آفتد؟ <input type="radio"/> همدیگر را جذب می کنند <input type="radio"/> همدیگر را دفع می کنند <input type="radio"/> هیچ اتفاقی نمی افتد <input type="radio"/> همه ی موارد
۱۸	نیروی کشش زمین در چه جهتی می باشد؟ <input type="radio"/> رو به بالا <input type="radio"/> رو به راست <input type="radio"/> رو به پایین <input type="radio"/> رو با چپ
۱۹	وقتی به جسمی نیرو وارد شود،ممکن است باعث چه چیز هایی شود؟ <input type="radio"/> تغییر شکل جسم <input type="radio"/> تغییر جهت جسم <input type="radio"/> حرکت جسم <input type="radio"/> همه ی موارد
۲۰	کدام دانه ، از دانه های دو قسمتی است ؟ جو <input type="radio"/> گندم <input type="radio"/> برنج <input type="radio"/> نخود
۲۱	تصویر در آینه برآمده چگونه دیده می شود و در کجاها از آن استفاده می شود؟ <input type="radio"/> بزرگ تر و دورتر - داخل ماشین ها <input type="radio"/> کوچک تر و دورتر - بغل ماشین ها و سر پیچ جاده ها <input type="radio"/> کوچک تر و دورتر - آرایشگاه ها <input type="radio"/> بزرگ تر و وارونه - دندان پزشکی ها
۲۲	فاصله ی شهر خوی تا سلماس ۴۵ کیلومتر و فاصله ی سلماس تا ارومیه ۱۰۴ کیلو متر است . با حذف رقم یکان ، فاصله ی خوی تا ارومیه چند کیلومتر است؟ <input type="radio"/> ۱۰۰ کیلومتر <input type="radio"/> ۱۲۰ کیلومتر <input type="radio"/> ۱۴۰ کیلومتر <input type="radio"/> ۱۶۰ کیلومتر
۲۳	برای اندازه گیری سطح و مساحت شکل ها از چه واحدی استفاده می شود ؟ <input type="radio"/> مستطیل <input type="radio"/> مربع <input type="radio"/> مثلث <input type="radio"/> دایره
۲۴	محیط شکل مقابل چند سانتی متر است ؟ <input type="radio"/> ۱۵ سانتی متر <input type="radio"/> ۱۸ سانتی متر <input type="radio"/> ۲۰ سانتی متر <input type="radio"/> ۲۲ سانتی متر 
۲۵	هر مثلثی که دو ضلع هم اندازه داشته باشد ، چه نامیده می شود ؟ <input type="radio"/> مثلث متساوی الاضلاع <input type="radio"/> مثلث متساوی الساقین <input type="radio"/> مثلث قائم الزاویه <input type="radio"/> هیچکدام
۲۶	یک اسکناس ۱۰۰۰ تومانی را با چند اسکناس ۱۰۰ تومانی می توان عوض کرد؟ <input type="radio"/> ۸ تا <input type="radio"/> ۶ تا <input type="radio"/> ۱۰ تا <input type="radio"/> ۱۲ تا
۲۷	رضا ۴ بسته ۵ تایی شکلات قهوه ای و ۲ بسته ی ۵ تایی شکلات شیری دارد . رضا چند شکلات دارد ؟ <input type="radio"/> ۳۰ شکلات <input type="radio"/> ۲۵ شکلات <input type="radio"/> ۲۰ شکلات <input type="radio"/> ۳۵ شکلات

۲۸	کدام عدد ((هشت هزار و هفت را نشان می دهد؟ <input type="radio"/> ۸۰۷ <input type="radio"/> ۸۰۰۷ <input type="radio"/> ۷۰۰۸ <input type="radio"/> ۸۰۰۰۷
۲۹	شکل روبرو چه کسری را نشان می دهد؟  <input type="radio"/> $\frac{1}{2}$ <input type="radio"/> $\frac{3}{6}$ <input type="radio"/> $\frac{6}{12}$ <input type="radio"/> همه ی موارد
۳۰	اگر محیط مربعی ۲۴ سانتی متر باشد ، مساحت آن چند سانتی متر مربع است؟ <input type="radio"/> ۳۲ س.م <input type="radio"/> ۳۶ س.م <input type="radio"/> ۴۰ س.م <input type="radio"/> ۲۴ س.م
۳۱	اگر روی خط راست مقابل با فاصله دلخواه چهار تا نقطه بگذاریم ، چند پاره خط تشکیل می شود؟ <input type="radio"/> ۲ پاره خط <input type="radio"/> ۳ پاره خط <input type="radio"/> ۵ پاره خط <input type="radio"/> ۶ پاره خط
۳۲	در مقایسه ی دو کسری که صورت های مساوی دارند، کسری بزرگتر است که <input type="radio"/> مخرج بزرگتری داشته باشد <input type="radio"/> مخرج کوچکتری داشته باشد <input type="radio"/> هر دو مورد صحیح است <input type="radio"/> هیچکدام
۳۳	به کسی که نان می پزد می گویند و محل کار اوست. <input type="radio"/> نانوا - نانوا <input type="radio"/> نانوا - نانوایی <input type="radio"/> نانوا - نانوایی <input type="radio"/> نانوایی - نانوایی
۳۴	کدام گزینه فعل است؟ <input type="radio"/> الف : دل نشین <input type="radio"/> ب : کوشا <input type="radio"/> ج : هفته <input type="radio"/> د : رسید
۳۵	خوش حال کسی است که <input type="radio"/> خوش بخت است <input type="radio"/> روحیه ی خوبی دارد <input type="radio"/> حال خوشی دارد <input type="radio"/> مهربان است
۳۶	در جمله ی ((آب آینه ای است پهناور)) شاعر آب را به چه چیزی تشبیه کرده است؟ <input type="radio"/> آینه <input type="radio"/> آسمان <input type="radio"/> زمین <input type="radio"/> هیچکدام
۳۷	کدام مورد با بقیه تفاوت دارد؟ <input type="radio"/> علم - علوم <input type="radio"/> درس - مدرسه <input type="radio"/> ظلم - ظالم <input type="radio"/> شب - روز
۳۸	در درس * ایران عزیز * شاعر برای توصیف کشور از چه کلماتی استفاده کرده است؟ <input type="radio"/> فریبا <input type="radio"/> زیبا <input type="radio"/> زرخیز <input type="radio"/> همه ی موارد
۳۹	کلمه ی * برخاست * در جمله ی مقابل به چه معنا است؟ ناگهان صدای غرش ترسناکی از کوه برخاست. <input type="radio"/> میل داشت <input type="radio"/> بلند شد <input type="radio"/> خواست <input type="radio"/> می خواست
۴۰	داستان کوتاهی است که از روزگار گذشته بر جای مانده است و با پند و اندرز و نصیحت همراه است و تجربه ای از زندگی را بازگو می کند. <input type="radio"/> مثل <input type="radio"/> حکایت <input type="radio"/> نمایش <input type="radio"/> هیچکدام

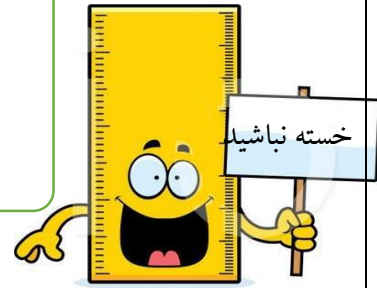
موفق باشید

با آرزوی بهترین ها برای شما

تعداد پاسخ صحیح :

تعداد پاسخ غلط :

بازخورد آموزگار:



زندگی ریاضی است !

بدی ها را کم کنیم - خوبی ها را جمع کنیم + شادی ها را ضرب کنیم × غصه ها را تقسیم کنیم ÷