



یک آدینه



شماره: هفته سوم اسفند

پایه: اول

نام و نام خانوادگی:

شهادت حضرت فاطمه (س) تسلیت باد



دستان و پیش دستان غیر دولتی و احترام صدر ا

نام هر تصویر را بنویس.



اول کلمات را بخوان و بعد وصل کن.



عقرب

عنكبوت

عقاب

زنبور عسل

عزیز

بعداز

جمع

\* بچه ی با آدب پیشِ همه ..... است.

\* علی کتاب های خود را ..... کرد.

\* من ..... خوردن ناهار خدا را شکر می کنم.

معصومه / روشن / دیروز / شمع های / کرد / را / سفید

۴ مرتب کن.

می کند / شروع / سلام / بعداز / درس / معلّم / را

۵ بخش های هر کلمه را بنویس.

\* دلپذیر: ..... + ..... + .....

\* لذیذ: ..... + .....

\* گذشته: ..... + ..... + .....

۶ برای تصویر روبه رو ۲ جمله بنویس.



۷ هر ردیف مربوط به چه کاری است؟

.....

.....

.....

آتش    آرد    تور    نان

میز    تخته    میخ    ارّه

شکلات    یک    خاله    شیرینی

۱) در اعداد زیر دور ده تایی ها خط بکش.

۴۴

۶۹

۵۹

۱۲

۵۴

۲۶

۲) از ۲۳ تا ۳۱ به ترتیب بنویس.

۳) به هر عدد ۵ تا اضافه کن و بنویس.



+۵



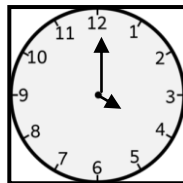

+۵



+۵



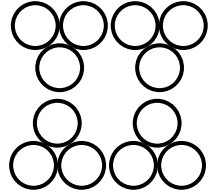
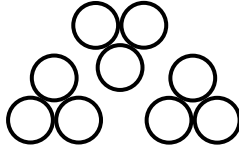
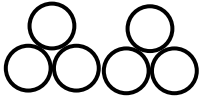

۴) زمانی را که ساعت ها نشان می دهند را بنویس.



ساعت بین ..... و ..... است.

ساعت ..... است.

۵) جاهای خالی را با عدد مناسب کامل کنید.



-----


\* ۳ تا بعد از ۶ می شود .....

\* ۳ تا بعد از ۱۵ می شود .....



۶) با شکل ها دسته های ده تایی درست کن، جدول را کامل کن و عدد مربوط به

آن را بنویس.



| ده تایی | یکی   |
|---------|-------|
| -----   | ----- |
| -----   | ----- |

به عدد: .....

به حروف: .....



۷) حاصل جمع را به صورت ذهنی پیدا کن.


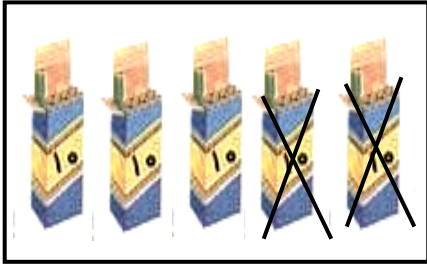
$$۴۰ + ۱۰ = \dots\dots\dots$$

$$۲۰ + ۵۰ = \dots\dots\dots$$

$$۱۰ + ۱۰ + ۱۰ = \dots\dots\dots$$

$$۲۰ + ۲۰ + ۱۰ + ۵ = \dots\dots\dots$$

۸) کامل کن.



$$5000 - \dots = 3000$$

$$\dots - \dots = \dots$$

۹) بشمار و بنویس.

$$\dots - \dots - \dots - \dots - 5000 - 5500$$

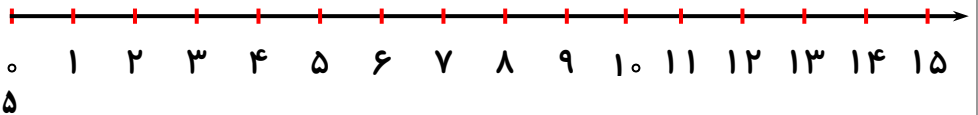
$\swarrow$        $\swarrow$   
 $-5000$      $-5000$

$$\dots - \dots - \dots - \dots - \dots - 9000 - 8000 - 7000$$

$\swarrow$        $\swarrow$        $\swarrow$   
 $-1000$      $-1000$      $-1000$

۱۰) به کمک محور حل کن.

صادق ۱۵ عدد یک داشت. دیروز ۷ کی یک را فروخت. حالا چند کی یک دارد؟




۱۱) با کمک شکل حل کن.

الف) ۳ دسته ی ده تایی ماهی در آب شنا می کردند. ۵ ماهی دیگر هم اضافه شدند. حالا چند ماهی در حال شنا هستند؟



..... ماهی شنا می کنند.

ب) صبا برای آموزگارش ۲ دسته ی ده تایی گل آماده کرد. او چند عدد گل تهیه کرده است؟



۱۲) با کشیدن چوب خط حل کن.

سامان یک کتاب داستان ۱۵ صفحه ای دارد. او دیروز ۵ صفحه و امروز هم ۵ صفحه خواند. چند صفحه را نخوانده است؟

۱) کدام گزینه برای زنده ماندن به هوا نیاز دارد؟



۲) در کدام تصویر از هوا استفاده نمی شود؟



۳) چه چیزی باعث حرکت ابرها می شود؟



ابرها خودشان حرکت می کنند.

۴) به کمک بزرگ ترها پرس و جو کن:

در کدام شهرهای ایران باد زیادی می وزد و از باد آن چه استفاده ای می کنند؟


.....

.....

.....



ولی محترم لطفاً نظر خود را در رابطه با پیک این هفته برایمان بنویسید.



**ارزشیابی آموزگار:**

**قابل قبول:**

**خوب:**

**خیلی خوب:**

-----

-----

-----

# افراد برتر هفته ...

