



## ریاضی

جمع دو عدد  $۷+۹=۱۶$  با کدام عبارت زیر یکی است ؟

- الف)  $۹+۸$       ب)  $۸+۹$       ج)  $۸+۸$
- اگر عقربه بزرگ روی ۲ و عقربه کوچک روی ۴ باشد ساعت چند است ؟
- است ؟

- الف)  $۴:۱۰$       ب)  $۴:۲۰$       ج)  $۲:۴۰$

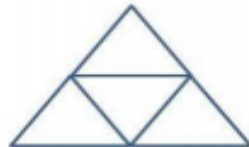
شبهات مثلث و مربع در چیست ؟

الف) هر دو ضلع و گوشه دارند.

ب) هر دو ، ضلع و گوشه مساوی دارند.

ج) هر دو فقط گوشه مساوی دارند.

در شکل زیر چند مثلث می بینید ؟



- الف) ۵ تا      ب) ۴ تا      ج) ۳ تا

با رقم های  $۷-۰-۵$  چند عدد سه رقمی می توان نوشت ؟

- الف) ۲ تا      ب) ۴ تا      ج) ۶ تا

بدون حساب کردن جواب، علامت ( $<=>$ ) بگذار.

$$۴۰۰ + ۳۰۰ + ۵۰ + ۵ \quad \square \quad ۱۵۰ + ۱۵۰ + ۴۰۰ + ۵$$

$$۶۰۰ + ۲۵۰ + ۱۰ \quad \square \quad ۱۵۰ + ۱۰۰ + ۳۰۰ + ۳۰۰ + ۱۰$$

$$۵۰ + ۲۰۰ + ۱۱ \quad \square \quad ۲۵۰ + ۵۰ + ۱ + ۱۰$$

ابتدا حاصل جمعها و تفریقهای زیر را به دست آور و سپس فقط خانههای جواب را در جدول صفحهی بعد رنگ کن.

$$\begin{array}{r} ۶۸۶ \\ + ۱۸۶ \\ \hline \end{array}$$

$$\begin{array}{r} ۱۳۳ \\ - ۱۴ \\ \hline \end{array}$$

$$\begin{array}{r} ۴۰ \\ - ۳۱ \\ \hline \end{array}$$

$$\begin{array}{r} ۱۴۰ \\ - ۱۴ \\ \hline \end{array}$$

$$\begin{array}{r} ۳۰۴ \\ + ۹ \\ \hline \end{array}$$

$$\begin{array}{r} ۹۰ \\ - ۵۴ \\ \hline \end{array}$$


نگار و ریحانه در تعطیلات عید نوروز می خواهند به شهر مشهد سفر کنند. آن ها می خواهند برای پدر بزرگ و مادر بزرگ خود سوغاتی بخرند. پول آن دو، ۹۹۰ تومان است. آن ها را راهنمایی کن که چه چیزهایی را می توانند انتخاب کنند.




۵۰ تومان



۳۳۰ تومان




۶۰۰ تومان



۵۷۰ تومان



۱۷۰ تومان



۱۲۵ تومان



۶۷۰ تومان



۴۵۰ تومان



۱۱۰ تومان



۲۲۰ تومان



۴۵۰ تومان



انتخاب دوم:



انتخاب اول:



انتخاب چهارم:



انتخاب سوم: