

به نام یاور مهربانم

ارزیابی درس ریاضی

نام و نام خانوادگی:

اسفند ۹۴

پایه ی دوم

دبستان شهید صفوری

ساعت های زیر را به دو روش بخوان و بنویس



----- گذشته از -----
----- مانده به -----

جمع های زیر را در جدول ارزش مکانی انجام دهید .

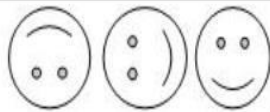
	ص	د	ی		ص	د	ی
۴۸۶	۴	۸	۶	۵۶۲	۵	۶	۲
+۲۴۱	+ ۲	۴	۱	+۳۷۹	+ ۳	۷	۹

دختر خوبم در جای خالی عدد مناسب بنویس .

4 صد تایی یعنی ----- یکی

1 صدتایی یعنی ----- ده تایی

3 یکی و 6 صد تایی می شود -----
4 ده تایی ، 3 یکی و 7 صد تایی می شود -----

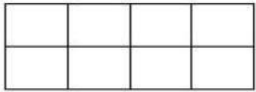


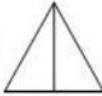




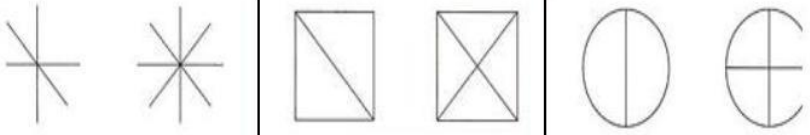


شکل بعدی روی نقطه چین، کدام شکل می شود؟



در داخل یک جعبه ، ۳۵ شکلات به رنگ قرمز و ۱۵ شکلات به رنگ زرد وجود دارد . اگر بدون

نگاه کردن به داخل جعبه ، یک شکلات در بیاوریم ، شانس اینکه قرمز باشد بیشتر است یا زرد ؟ چرا ؟

<p>به اندازه ای که در هر جمله نوشته شده از شکل ها رنگ کنید .</p>  <p>۲ قسمت از ۸ قسمت مساوی</p>	<p>۶ قسمت از ۱۲ قسمت مساوی</p> 
<p>۷ در شکل مقابل چند نیم خط و چند پاره خط وجود دارد؟</p> <p>نیم خط ⇐ پاره خط ⇐</p> 	
<p>۹ در کدام شکل خط تقارن، دُرُست کشیده شده است؟</p> <p>الف -  ب -  پ -  ت - </p>	
<p>۱۰ اعداد را با هم مقایسه کنید و در دایره علامت مناسب (<=>) بگذارید .</p> <p>۲۰۰ ○ ۳۰۰ ۴۰۰ ○ ۴۳۲ ۶۰۰ ○ ۵۹۹</p> <p>۳۴۰ ○ ۳۳۰ ۵۱۱ ○ ۴۸۹ ۹۰۰ ○ ۱۹۹</p>	
<p>۱۱ بزرگ ترین عدد دو رقمی که جمع دو رقم آن ۱۵ می شود کدام است؟</p> <p>الف) ۹۹ ب) ۸۷ ج) ۹۶ د) ۶۹</p>	
<p>۱۲ الگوی زیر را با استفاده از مداد رنگی و رنگ کردن خانه ها ادامه دهید .</p> 	
<p>۱۳ در تصاویر زیر ، خطی را که رسم نشده پیدا کنید و با خط کش رسم کنید</p> 	

خسته نباشی دانش آموز کوشای من

محمودی - عزیززاده

نیازمند به تلاش بیشتر	قابل قبول	خوب	خیلی خوب

خواستن توانستن است