



نام و نام خانوادگی:

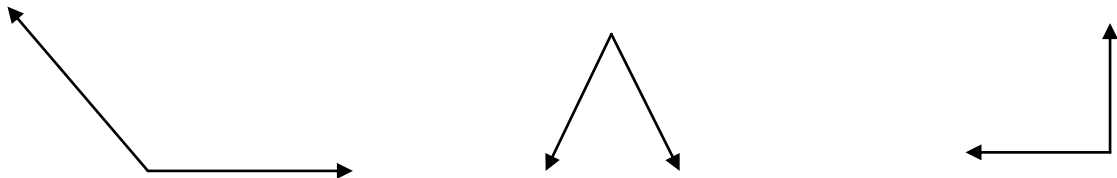
دبستان:

تاریخ:

حضرت امام علی (علیه السلام): عقل، حفظ تجربیات زندگی است.


س.ن.

زاویه های زیر را نام گذاری کنید و به سه صورت بنویسید.



۱

اندازه ی زاویه های روبه رو را بنویسید.



۲

زاویه ی راست یا نیم صفحه درجه

زاویه راست درجه

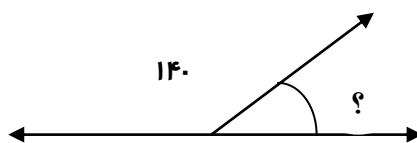
جمله های زیر را با عدد مناسب کامل کنید.

اندازه ی هر زاویه ی تند از درجه کمتر است.

اندازه ی هر زاویه ی باز از درجه بیشتر و از درجه کمتر است.

۳

اندازه ی زاویه ی مورد نظر را به دست آورید.



۴

از ساعت ۳:۳۰ تا ۴:۱۰ چند دقیقه فاصله است؟

۵

۱۸۰ ثانیه چند دقیقه است؟

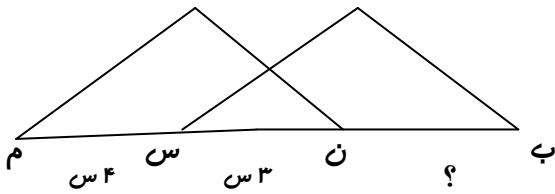
۶

۲ دقیقه چند ثانیه است؟

۷

۸	<p>هریک از زمانها را به صورت تقریبی بنویسید.</p> <p>۴ ساعت و ۵ دقیقه به طور تقریبی برابر است با: _____ ساعت</p> <p>۱ دقیقه و ۵۵ ثانیه به طور تقریبی برابر است با: _____ دقیقه</p> <p>۷ ساعت و ۵۳ دقیقه به طور تقریبی برابر است با: _____ ساعت</p> <p>۳ دقیقه و ۳ ثانیه به طور تقریبی برابر است با: _____ دقیقه</p>
---	--

۹	<p>در شکل روبه رو طول پاره خط (ب ن) را پیدا کنید.</p> <p>ضلع های ((ب س)) و ((ن م)) با هم برابرند.</p>
---	---



۱۰	<p>قطار تهران شاهرود در ساعت ۸:۲۵ از تهران حرکت کرد و در ساعت ۱۲:۵۵ دقیقه به شاهرود رسید. زمان سفر این قطار چقدر بوده است؟</p>
----	--

باز خورد آموزگار :

مهدی لطفی آموزگار پایه چهارم (آ)

