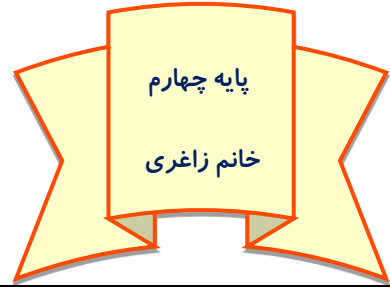


به نام یگانه آفریننده ی زیبایی ها

دستان غیر دولتی آرمان دانش



پایه چهارم

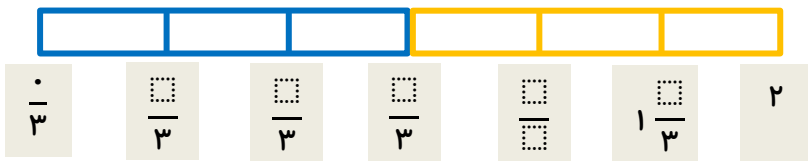
خانم زاغری

تاریخ: ۹۵/۱۲/۱۳

نام و نام خانوادگی:

۱. دو نوار کاغذی به طول ۱ متر را به هم متصل کرده ایم و هر کدام را به قسمت های مساوی تقسیم کرده ایم. برای هر قسمت یک کسر یا عدد مخلوط بنویسید.

قسمت هایی از این نوار که از یک متر بزرگ تر هستند و به ۲ متر نرسیده اند را بنویسید.



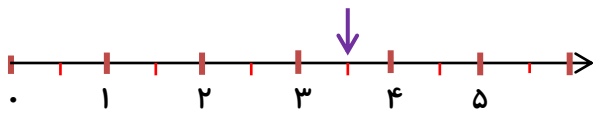
۲. عدد $3\frac{1}{4}$ را روی محور زیر نشان دهید.



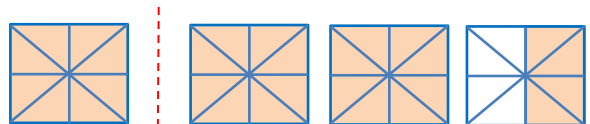
این عدد بین کدام دو عدد قرار دارد؟

این عدد به کدام یک از عددهای گفته شده نزدیک تر است؟

۳. شکل های زیر چه عدد مخلوطی را نشان می دهد؟



(ب)



(الف)

۴. در جاهای خالی یکی از علامت های $<$ $=$ $>$ قرار دهید.

$3\frac{24}{5}$ ○ $2\frac{34}{5}$ (ب)

$9\frac{2}{7}$ ○ $9\frac{2}{6}$ (ت)

$\frac{4}{6}$ ○ $\frac{1}{2}$ (الف)

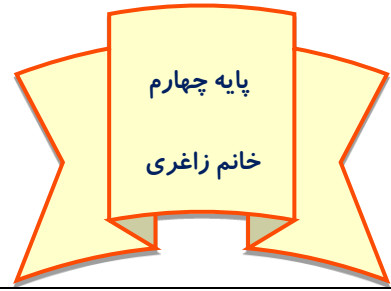
$4/5$ ○ $3/9$ (پ)

به نام یگانه آفریننده ی زیبایی ها

دستان غیر دولتی آرمان دانش

تاریخ: ۹۵/۱۲/۱۳

نام و نام خانوادگی:



۵. عددهای مخلوط زیر را به صورت اعشار و اعداد اعشاری را به صورت عدد مخلوط بنویسید.

$$۳۰۱ / ۸ = \quad ۲ \frac{۷}{۱۰} = \quad ۱۲ / ۳ = \quad ۱ \frac{۵}{۱۰} = \quad ۹ \frac{۶}{۱۰} =$$

۶. جاهای خالی را پر کنید.

(ب) $۵/۸$ لیتر یعنی تا، یک دهم لیتر

(الف) ۱۳ تا یک دهم سانتی متر یعنی سانتی متر

(ت) ۹ تا یک دهم لیتر برابر است با لیتر

(پ) سانتی متر یعنی ۳۴ تا یک دهم سانتی متر

۷. اعداد اعشاری زیر را روی محور نشان دهید.

$$۳/۵ - ۲ - ۱/۷ - ۰/۳ - ۴/۸ - ۳/۱$$



۸. هر یک از عددهای زیر را با رقم و حروف بنویسید.

..... $۲۳/۸$

..... $۴/۶$

..... سی و سه و سه دهم

..... صد و دوازده و پنج دهم

موفق باشید