


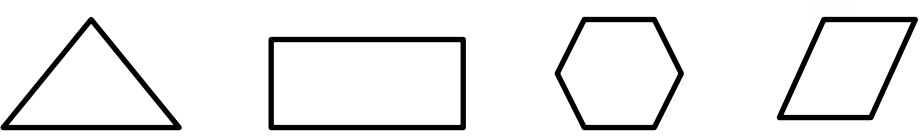
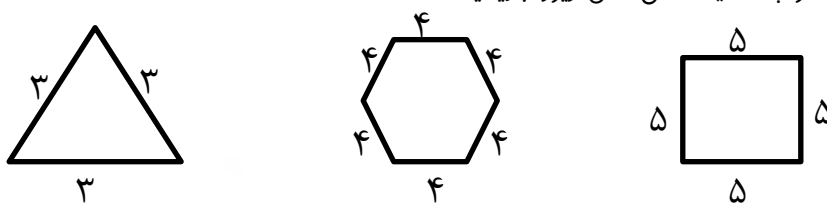


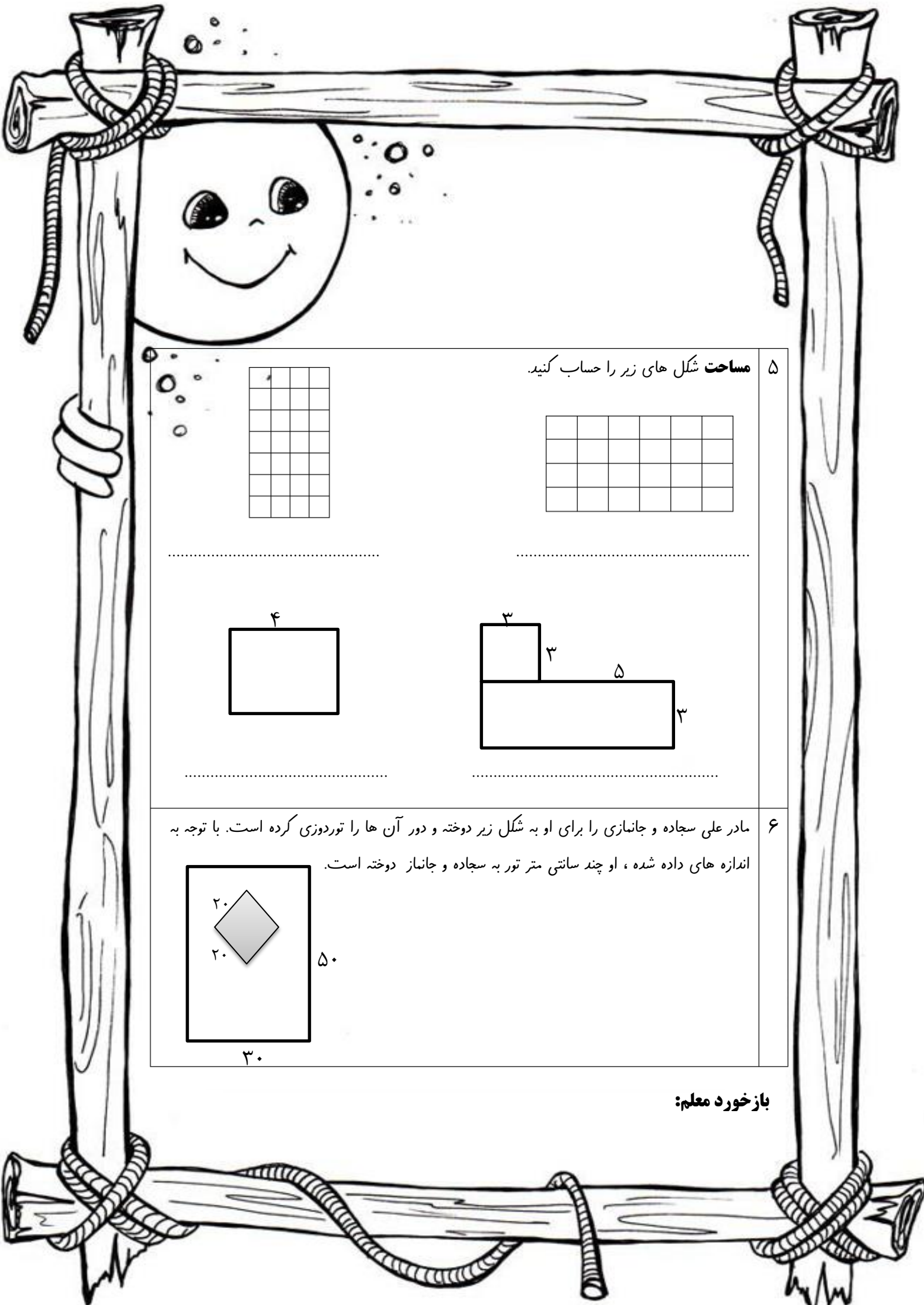
نام و نام خانوادگی: \_\_\_\_\_

کلاس سوم ابتدایی

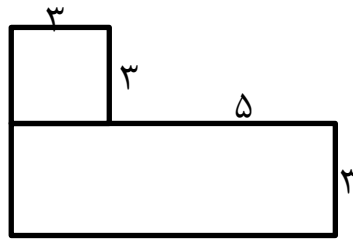
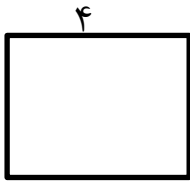
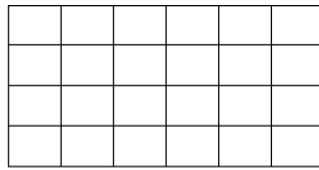
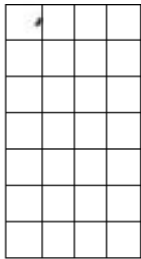
آزمون ریاضی: فصل محیط و مساحت

تاریخ: ۱۳۹۵/۱۲/۰۳

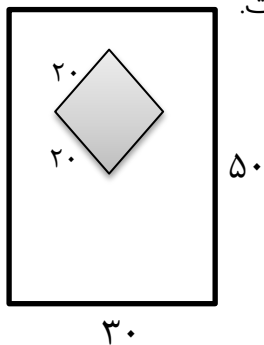
<p>۱ رضا ۴ بسته ی ۶ تایی شکلات قهوه ای و ۳ بسته ی ۴ تایی شکلات شیری دارد. رضا چند شکلات دارد؟</p> <p>۱- تعداد شکلات های قهوه ای را پیدا کنید.</p> <p>۲- تعداد شکلات های شیری را پیدا کنید.</p> <p>۳- تعداد کل شکلات های رضا را پیدا کنید.</p>
<p>۲ کدام یک از شکل های زیر یک <b>پاره خط</b> را نشان می دهد.</p> 
<p>۳ شکل های زیر را <b>نام گذاری</b> کنید و <b>قطرهای</b> هر یک را رسم کنید.</p>  <p>.....</p>
<p>۴ به کمک ضرب <b>محیط</b> شکل های زیر را بنویسید.</p> 



۵ مساحت شکل های زیر را حساب کنید.



۶ مادر علی سجاده و جانمازی را برای او به شکل زیر دوخته و دور آن ها را توردوزی کرده است. با توجه به اندازه های داده شده ، او چند سانتی متر تور به سجاده و جانماز دوخته است.



باز خورد معلم: