



دبستان پسرانه باقرالعلوم ۲

پیک نوروز ۹۵ - پایه دوم

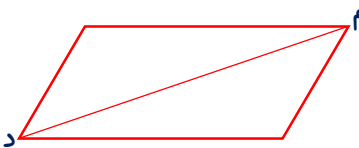
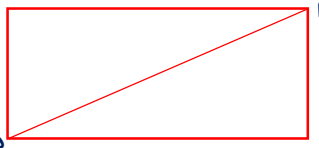
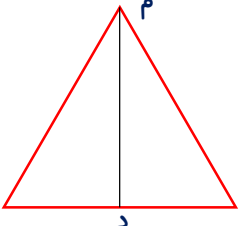
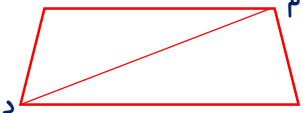


به نام خدای بهار آفرین / بهار آفرین را هزار آفرین* به جمشید و آیین پاکش درود / که نوروز از او مانده در یادبود

نوروز مبارک

ریاضی

۱	باتوجه به الگو عدد مناسب جای خالی کدام است؟	۱۱۳(۱)	۱۱۵(۲)	۱۱۴(۳)	۱۱۰(۴)
	<input type="text" value="..... - ۱۲۱ - ۱۲۸ - ۱۳۵"/>				
۲	کوچکترین عدد سه رقمی غیر تکراری را به ماشین داده ایم. عددی که از ماشین خارج شد ۴ واحد از آن بیشتر بود، آن عدد کدام است؟	۱۴۲(۱)	۵۰۴(۲)	۱۰۶(۳)	۱۲۷(۴)
۳	نیمادریف خود ۳ سکه ی ۱۰۰ ریالی و ۷ سکه ی ۵۰ ریالی دارد. او چند ریال دارد؟	۱۵۰(۱) ریال	۴۰۰(۲) ریال	۲۵۰(۳) ریال	۶۵۰(۴) ریال
۴	فاصله ی خانه ی مریم تا مدرسه ۳۵ دقیقه است. او ۷:۴۵ دقیقه از خانه خارج شد. او چه ساعتی به مدرسه می رسد؟	۸:۰۵(۱)	۸:۰۰(۲)	۸:۲۰(۳)	۸:۱۵(۴)
۵	دو ساعت و پانزده دقیقه، روی هم چند دقیقه است؟	۱۳۵(۱)	۹۵(۲)	۷۵(۳)	۹۰(۴)
۶	شکل زیر دارای چند خط تقارن است؟	۲(۱)	۳(۲)	۱(۳)	۴(خط تقارن ندارد)
۷	با سه رقم ۶ و ۰ و ۳ بزرگترین عدد سه رقمی فرد کدام است؟	۶۳۰(۱)	۳۰۲(۲)	۶۰۳(۳)	۳۶۰(۴)

<p>۱۲۳ - ۱۴۵ - ۱۸۰</p>	<p>کدام گزینه عددهای تقریبی زیر را به ترتیب نشان می دهد؟</p> <p>(۱) ۱۳۰ - ۱۴۵ - ۱۹۰ (۲) ۱۲۰ - ۱۵۰ - ۱۸۰ (۳) ۱۲۵ - ۱۴۵ - ۱۸۰ (۴) ۱۲۰ - ۱۴۰ - ۱۸۰</p>	<p>۸</p>
<p>(۱)</p>  <p>(۳)</p>  <p>(۲) گزینه ۲</p> <p>(۳) گزینه ۳</p> <p>(۴) گزینه ۴</p>	<p>در کدام شکل پاره خط ((م د)) خط تقارن است؟</p> <p>(۱)</p>  <p>(۲)</p>  <p>(۱) گزینه ۱</p> <p>(۲) گزینه ۲</p>	<p>۹</p>
<p>(۲) ۱۳ یکی ، ۵ ده تایی ، ۲ صدتایی می شود ۲۶۳</p> <p>(۴) ۱۲ یکی ، ۴ ده تایی ، ۳ صدتایی می شود ۳۴۲</p>	<p>به غیر از گزینه ی بقیه گزینه ها درست است.</p> <p>(۱) ۴ یکی ، ۱۵ ده تایی ، ۶ صدتایی می شود ۷۵۴</p> <p>(۳) ۳ ده تایی و ۱۴ یکی برابر است با ۴۴</p>	<p>۱۰</p>
<p>(۴) ۹۰۰</p> <p>(۳) ۱۳۷</p>	<p>کدام عدد را می توان با حروف بدون نقطه نوشت؟</p> <p>(۱) ۱۳۳</p> <p>(۲) ۱۰۱</p>	<p>۱۱</p>
<p>(۴) ۷۳۵</p> <p>(۳) ۷۳۰</p>	<p>کیما برای خرید یک کتاب ۸۳۵ ریالی، ۱۰۵ ریال کم دارد. پول او با حذف یکان و دهگان چه عددی است؟</p> <p>(۱) ۷۰۰</p> <p>(۲) ۷۲۵</p>	<p>۱۲</p>
<p>(۴) ۷۹۰</p> <p>(۳) ۷۸۰</p>	<p>دانش آموزان مدرسه باقرالعلوم ۴۸۲ نفر هستند. مدرسه شاهد ۱۷۹ نفر کم تر از مدرسه باقرالعلوم دانش آموز دارد. مجموع دانش آموزان این دو مدرسه تقریباً چه عددی است؟</p> <p>(۱) ۳۰۳</p> <p>(۲) ۷۸۵</p>	<p>۱۳</p>
<p>(۴) ۴۸۰</p> <p>(۳) ۳۲۰</p>	<p>از یک نوار ۴ متری، ۸۰ سانتی متر را بریدیم. چند سانتی متر از نوار باقی مانده است؟</p> <p>(۱) ۴۰</p> <p>(۲) ۱۲۰</p>	<p>۱۴</p>
<p>(۲) ۱ متر بیشتر از ۹۹ سانتی متر است</p> <p>(۴) واحد اندازه گیری طول حیاط سانتی متر است</p>	<p>کدام عبارت درست نیست؟</p> <p>(۱) هر ۸۰۰ سانتی متر برابر ۸ متر است</p> <p>(۳) ۴ سانتی متر و ۱۵ میلی متر می شود ۵۵ میلی متر</p>	<p>۱۵</p>
<h3>فارسی</h3>		
<p>(۴) نگه داری از جانوران</p>	<p>برای دانشمند شدن چه باید کرد؟</p> <p>(۱) بلند صحبت کردن</p> <p>(۲) گردش کردن</p> <p>(۳) نگاه بادقت</p>	<p>۱۶</p>
<p>(۴) یاور</p>	<p>اگر کلمه های زیر به ترتیب حروف الفبا مرتب شده باشند، کدام کلمه به جای ((*)) قرار می گیرد؟</p> <p>((پرچم - جهاد - * - ذرت - گرفتار - نادر))</p> <p>(۱) شمال</p> <p>(۲) درخت</p> <p>(۳) غار</p>	<p>۱۷</p>

۱۸	دیروز حال مادرم خوب نبود.	(۱) معمولاً (۲) فعلاً (۳) حتماً (۴) اصلاً				
۱۹	گل لاله نشانه ی است.	(۱) سرسبزی (۲) خون شهیدان (۳) صلح و دوستی (۴) هر سه مورد				
۲۰	باخواندن کلمه مترو به یاد چه چیزی می افتید؟	(۱) کم شدن ترافیک (۲) سوخت (۳) کمتر شدن آلودگی هوا (۴) گزینه ۳ و ۱				
۲۱	به کدام کلمه می توان ((گر)) اضافه کرد؟	(۱) آهنگ (۲) آهن (۳) سبزی (۴) دست				
۲۲	به کدام کلمه می توان ((تر و ترین)) اضافه کرد؟	(۱) آرامگاه (۲) خوش اخلاق (۳) بزرگی (۴) تلاش				
۲۳	به جای کلمه ای که در زیر آن خط کشیده ایم کدام کلمه را می توان قرار داد؟	(۱) خواهی رفت (۲) خواهی رفتند (۳) خواهند رفت (۴) خواهند رفتند				
<div style="border: 1px solid orange; border-radius: 50%; padding: 10px; display: inline-block;"> <p>دانش آموزان به مرکز بازی های فکری می روند.</p> </div>						
۲۴	این سخن از کیست؟ تاگر سنه نشده اید چیزی نخورید.	(۱) حضرت علی (ع) (۲) امام حسین (ع) (۳) امام صادق (ع) (۴) حضرت محمد (ص)				
۲۵	کدام گزینه می تواند قبل از کلمه ی ((آمدید)) قرار بگیرد؟	(۱) ما (۲) شما (۳) آن ها (۴) ما و شما				
۲۶	من سعی می کنم با بچه های کوچک تر از مهربان باشم.	(۱) خودت (۲) خودشان (۳) خودم (۴) خودش				
۲۷	روز سیزده فروردین چه می کنیم ؟	<table border="1" style="width: 100%;"> <tr> <td>(۱) سفره هفت سین پهن می کنیم .</td> <td>(۳) موقع تحویل سال است.</td> </tr> <tr> <td>(۲) به طبیعت می رویم.</td> <td>(۴) تلویزیون می بینیم.</td> </tr> </table>	(۱) سفره هفت سین پهن می کنیم .	(۳) موقع تحویل سال است.	(۲) به طبیعت می رویم.	(۴) تلویزیون می بینیم.
(۱) سفره هفت سین پهن می کنیم .	(۳) موقع تحویل سال است.					
(۲) به طبیعت می رویم.	(۴) تلویزیون می بینیم.					
۲۸	نوروز یعنی چه ؟	(۱) روز زیبا (۲) روز اول (۳) روز شاد (۴) روز نو				
علوم						
۲۹	کدام جمله درست است؟ (۱) به جانوری که هم در آب و هم در خشکی زندگی می کند ((دوزیست)) می گویند. (۲) مورچه ها روی سنگ ها لانه می سازند (۳) غذای کرم ابریشم، شیره ی درخت توت است (۴) مهم ترین شباهت چرخ ریسک با خرگوش ((ساختن لانه)) است.					
۳۰	کدام جمله نادرست است؟ (۱) شتر لانه ندارد (۳) از خاکشیر استفاده ی دارویی می کنند	(۲) نوزاد قرباغه آبشش دارد (۴) مهم ترین کاردانه استفاده از آن برای ماده ی غذایی است				

۳۱	<p>کدام جمله درست است؟</p> <p>(۱) تمام شدن سوخت ها، تغییری در زندگی انسان به وجود نمی آورد.</p> <p>(۲) زمانی که نور از جسم شفاف عبور کند در پشت آن جسم سایه به وجود می آید</p> <p>(۳) صدادر اثر سرد و گرم شدن اجسام به وجود می آید</p> <p>(۴) گرم ابریشم درون پيله به پروانه تبدیل می شود</p>
۳۲	<p>کدام جمله نادرست است؟</p> <p>(۱) سایه ی تمام اجسام به یک اندازه تیره است.</p> <p>(۲) صدای پیام رسان گاهی هم آزاردهنده است</p> <p>(۳) به جانوری که در دوران نوزادی فقط می تواند در آب زنده بماند وهنگام بلوغ به خشکی می آید دوزیست می گویند.</p> <p>(۴) دانه از گیاهک تغذیه می کند و بزرگ می شود.</p>
۳۳	<p>کدام جمله درست است؟</p> <p>(۱) سوخت ها از آلودگی هوا، جلوگیری می کنند</p> <p>(۲) بادنما، سرعت باد را نشان می دهد</p> <p>(۳) اردک دوزیست است</p> <p>(۴) ماه، چشمه ی نور مصنوعی است</p>
۳۴	<p>کدام جمله نادرست است؟</p> <p>(۱) هویج ریشه ی گیاه است.</p> <p>(۲) وقتی نور از بالابرجسمی بتابد سایه ی آن از خود جسم کوچکتر می شود</p> <p>(۳) از تخم کرم ابریشم، پروانه به وجود می آید</p> <p>(۴) ۲۴ ساعت طول می کشد تا زمین به دور خودش بچرخد</p>
۳۵	<p>کدام جمله درست است؟</p> <p>(۱) تپه های ماسه ای بیابان در اثر زلزله به وجود می آیند</p> <p>(۲) صدا از شیشه راحت تر از هوا عبور می کند</p> <p>(۳) فقط با کشت دانه، می شود گیاهان را زیاد کرد</p> <p>(۴) خفاش ها برای پیدا کردن راه خود به جای نور، از صدا استفاده می کنند</p>
۳۶	<p>کدام جمله نادرست است؟</p> <p>(۱) به جسمی که از خود صداتولید کند ((چشمه ی صوت)) می گویند</p> <p>(۲) چرخ ریسک ، باچوب ضخیم درختان لانه می سازد</p> <p>(۳) از حرکت زمین به دور خورشید ، فصل ها به وجود می آیند</p> <p>(۴) تغییرات دما در شب و روز به تدریج (کم کم) اتفاق می افتد</p>
۳۷	<p>چرا پرندگان ، آشیانه ی خود را گود و فنجانی شکل می سازند؟</p> <p>(۱) برای این که راحت در آن بخوابند</p> <p>(۲) برای این که راحت در آن تکان بخورند</p> <p>(۳) برای فرار از دشمن</p> <p>(۴) برای این که تخم هایشان از لانه بیرون بیفتند</p>
۳۸	<p>کدام جمله نادرست است؟</p> <p>(۱) مراحل تصفیه ی آب به ترتیب جمع شدن آب پشت سد- گرفتن گل و لای و میکروب کشی است</p> <p>(۲) ریختن نفت در دریا، تاثیری روی جانوران ساکن آب ندارد</p> <p>(۳) بهتر است انسان به جای استفاده از سوخت ها ، از انرژی خورشید استفاده کند</p> <p>(۴) یادداشت برداری می تواند به شکل نقاشی کردن باشد</p>

	<p>کدام جمله درست است؟</p> <p>۱) کتاب خواندن روشی برای جمع آوری اطلاعات است</p> <p>۲) مشاهده یعنی با دقت دیدن</p> <p>۳) تنفس هوای آلوده، ارتباطی با طول عمر انسان ندارد</p> <p>۴) هنگام ظهر به علت مایل تابیدن نور خورشید، گرما بیش تر است</p>	۳۹
	<p>کدام جمله درست است؟</p> <p>۱) یک سال طول می کشد تا زمین به دور خودش بچرخد</p> <p>۲) خورشید از غرب طلوع می کند</p> <p>۳) فیل، شب ها فعالیت دارد</p> <p>۴) آبی که ما مصرف میکنیم از تصفیه خانه می آید.</p>	۴۰
 <p>یکی از فرق های انسان با خدا این است که: انسان تمام خوبیها را با یک بدی فراموش می کند ولی خدا تمام بدی ها را با یک خوبی فراموش می کند.</p>		