



## دبستان پسرانه باقرالعلوم ۲

پیک نوروز ۹۵ - پایه اول



به نام خدای بهار آفرین / بهار آفرین را هزار آفرین\* به جمشید و آیین پاکش درود / که نوروز از او مانده در یادبود

\*\*\*نوروز مبارک\*\*\*

### فارسی

۱ چهارنشانه ی چهارشکلی بنویس.

.....

۲ چهارکلمه بنویس که اُ استثنا داشته باشند.

.....

۳ برای هر نشانه در جدول ۲ کلمه بنویس.

ز	ذ	س س	ض ض	ع ع ع
.....	.....	.....	.....	.....
.....	.....	.....	.....	.....

۴ مرتب کن.

کشاورز - می کارد - زمین - در - ذرت

.....

دو - نرفت - بیمار - عرشیا - بود - و - به - مدرسه - روز

.....

۵ جمله بنویس.

..... دلیزیر: .....

..... خواهش: .....

..... جمع: .....

..... خوش اخلاق: .....

	<p>ترکیب کن و کلمه بساز.</p> <p>خوا ← هر          خوا ← ننده          خوا ← هش          خوا ← ست</p> <p>.....          .....          .....          .....</p>	۶																																																
	<p>جمله ها را بخوان و کلمه ی مناسب را انتخاب کن و بنویس.</p> <p>مادر از ..... پارچه ی چادری خرید.(بزّازی - نجّاری )          پدربزرگ علی ، برای او یک خروس خوش آواز .....(خریدیم - خرید )</p>	۷																																																
	<p>دور کلمه های صحیح خط بکش.</p> <p>سدا - معصومه - مخصوص - ژاله - خاهر - خواهش - منیجه</p>	۸																																																
	<p>روی هر کلمه ای که لازم است ، نشانه ی ( ّ ) را بگذار.</p> <p>اول - جمع - لذت - علی - بچه ها - فصل - معلم</p>	۹																																																
	<p>مثل نمونه بنویس.</p> <p>من می خواهم ..... ما.....          تو..... شما.....          او..... آن ها.....</p>	۱۰																																																
	<p>امروز هر کجا عیددیدنی رفتی ، یا اگر مهمان به خانه ی شما آمد. این بازی را انجام بده.</p> <table border="1" data-bbox="87 1030 1412 1411"> <thead> <tr> <th>نام حرف</th> <th>اسم</th> <th>فامیل</th> <th>اشیاء</th> <th>رنگ</th> <th>میوه</th> <th>حیوان</th> <th>شهر</th> </tr> </thead> <tbody> <tr> <td>س</td> <td></td> <td></td> <td></td> <td></td> <td></td> <td></td> <td></td> </tr> <tr> <td>م</td> <td></td> <td></td> <td></td> <td></td> <td></td> <td></td> <td></td> </tr> <tr> <td>ز</td> <td></td> <td></td> <td></td> <td></td> <td></td> <td></td> <td></td> </tr> <tr> <td>آ</td> <td></td> <td></td> <td></td> <td></td> <td></td> <td></td> <td></td> </tr> <tr> <td>ب</td> <td></td> <td></td> <td></td> <td></td> <td></td> <td></td> <td></td> </tr> </tbody> </table>	نام حرف	اسم	فامیل	اشیاء	رنگ	میوه	حیوان	شهر	س								م								ز								آ								ب								۱۱
نام حرف	اسم	فامیل	اشیاء	رنگ	میوه	حیوان	شهر																																											
س																																																		
م																																																		
ز																																																		
آ																																																		
ب																																																		
																																																		
<h2>ریاضی</h2>																																																		
<p>۳ + ۵ + ۴ = .....</p> <p>۱۰ + ۱۰ + ۵ = .....</p>	<p>جمع کن.</p> <p>۷ + ۳ + ۴ = .....</p> <p>۲۰ + ۲۰ + ۱۰ = .....</p>	۱۲																																																

۱۳ در جاهای مناسب عدد بنویس.

دهگان	یکان
۱	۹

دهگان	یکان

دهگان	یکان
۲	۰

دهگان	یکان

.....

۲۴

.....

۹۳

۱۴ از ۶۳ تا ۷۵ بنویس.

۶۳ - .....

۱۵ علامت مناسب را انتخاب کن و دور آن خط بکش.

$14 > < 17$

$12 > < 10$

$32 > < 23$

$21 > < 12$

$50 > < 70$

$70 > < 80$

۱۶ با کمک محور حاصل جمع و باقیمانده ی تفریق را پیدا کن.

$7 + 8 = \dots\dots\dots$



$18 - 6 = \dots\dots\dots$



۱۷ علی یک کتاب داستان ۵ صفحه ای دارد. او امروز ۵ صفحه از کتاب را خواند. چند صفحه از کتاب باقی مانده است؟ (با چوب خط نشان بده)..... صفحه مانده است.

۱۸ ده تا ده تا معکوس بشمار و بنویس.

$90 - 80$

$98 - 88$

۱۹ باتوجه به شکل یک مسئله طراحی کن و بنویس و به سوال مسئله پاسخ بده.

..... سیب روی درخت مانده است.



۲۰ تفریق کن.

$10 - 6 = \dots\dots\dots$

$9 - 9 = \dots\dots\dots$

$50 - 30 = \dots\dots\dots$





$15 - 10 = \dots\dots\dots$

$8 - 0 = \dots\dots\dots$

$70 - 20 = \dots\dots\dots$

باتوجه به عدد بالای هر ستون، عدد مناسب را بنویس.

۲۱

 ۷	 ۹	 ۴	 ۵
۷ + .....	۱ + .....	۹ - .....	۱۰ - .....
..... + ۴	..... + ۶	۷ - .....	۸ - .....
۵ + .....	۲ + .....	۴ - .....	۷ - .....
..... + .....	..... + .....	۶ - .....	۹ - .....

با عدد و حروف بنویس.

۲۲

۱۷	.....	۳۷	.....	۶۹	.....
.....	بیست و سه	.....	چهل و پنج	.....	نود و هشت

در جاهای خالی عدد مناسب بنویس.

۲۳

.....	۵۰ می شود..... یکی و ..... ده تایی	۲۰ ده تایی و ۵ یکی می شود.....
.....	۷۲ می شود..... یکی و ..... ده تایی	۸ ده تایی و ۸ یکی می شود.....

## علوم

کدام یک از گیاهان در تهیه ی نخ به ما کمک می کند؟

۲۴

(۱) گل رز (۲) گل پنبه (۳) گل لاله (۴) گل بنفشه

کاغذ از ..... تهیه می شود.

۲۵

(۱) گل (۲) درخت (۳) بوته (۴) دانه

کدام یک از گیاهان زیر ساقه ی خوراکی دارند؟

۲۶

(۱) هویج (۲) کرفس (۳) گوجه (۴) فلفل

کدام یک از موارد زیر از گیاهان به دست می آید؟

۲۷

(۱) عسل ، نان ، نخ ، سنگ (۲) مربا ، مداد ، عسل ، آهن (۳) روغن ، کاغذ ، نان ، مداد (۴) هیچ کدام

روغن مایع از کدام یک از گیاهان زیر به دست می آید؟

۲۸

(۱) گل آفتاب گردان (۲) گل رز (۳) گل لاله (۴) گل بنفشه

گیاهان برای رشد به چه چیزهای نیاز دارند؟

۲۹

(۱) خاک ، سنگ ، آب ، صدف (۲) آب ، خاک ، نور خورشید (۳) نور خورشید ، نمک ، آب (۴) آب ، خاک ، آتش

کدام یک از گیاهان زیر میوه ی خوراکی دارند؟







۳۰

(۱) درخت کاج (۲) درخت مو (۳) درخت سیب (۴) گزینه ی ۳ و ۲

یک گیاه به ترتیب از چه قسمت هایی تشکیل شده است؟

۳۱

(۱) برگ ، ریشه ، گل ، ساقه (۲) ساقه ، ریشه ، برگ ، گل (۳) ریشه ، ساقه ، برگ ، گل (۴) ریشه ، برگ ، گل ، ساقه

 <p>۳</p>	 <p>۲</p>	<p>کدام ابزار پیچیده است؟</p>  <p>۱</p>	<p>۳۲</p>
 <p>۳</p>	 <p>۲</p>	<p>کدام یک از جانوران زیر می جهند؟</p>  <p>۱</p>	<p>۳۳</p>