



آدینه‌ی پایه‌ی دوم دبستان.



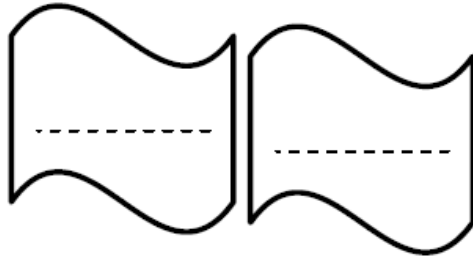
فارسی

۱) مرتب کن.

موفق      اگر      صبر      کارهایش      در

باشد      می شود      داشته      هنرمند

۲) در درس «هنرمند» دو کلمه پیدا کنید که تشدید داشته باشد و جمله ای



بسازید که آن کلمه ها در آن وجود داشته باشد.

۳) برای پاسخ زیر یک سؤال بنویسید.

سؤال: .....

پاسخ: به کسی که با گل چیزهای زیبا می سازد.

۴) املاي کدام کلمه درست است؟



ج) حوسله


ب) کلاق

الف) غصّه



(۵) این کلمات را دسته بندی کن.

می دانی - می خندم - گفته ای - خوردم - نشستی  
هستم - می بینی - رفتم



تو	من

ریاضی

(۱) عددهای هر دسته را به نزدیک ترین عددی که یکان آن « ۰ » می باشد تبدیل کن و سپس جمع و تفریق آن را بنویس.

$$\begin{array}{r}
 \dots\dots\dots \\
 ۱۷۲ \text{ و } ۳۱۹ \quad + \quad \dots\dots\dots \\
 \hline
 \end{array}$$

$$\begin{array}{r}
 \dots\dots\dots \\
 ۲۱۳ \text{ و } ۶۵۹ \quad - \quad \dots\dots\dots \\
 \hline
 \end{array}$$

(۲) الگوهای عددی زیر را ادامه بده.

۲۲۰-۳۲۰-۴۲۰- -

۴۱۵-۴۳۵- -





۳) \* با هوش خط کش شما با چه واحدی مدرج شده است؟ .....

\* خط کش شما چند سانتی متر است؟ .....

\* طول مداد قرمز خود را با چه واحدی اندازه می گیری؟ .....

\* طول انگشت اشاره شما چند سانتی متر است؟ .....

۴) با چند تا ۵۰ ریالی می شود ۴۰۰ ریال درست کرد؟ (با رسم شکل)

۵) جمع و تفریق های زیر را به صورت ذهنی حل کن.

$۸۰+۲۰=$

$۴۰+۴۰=$

$۸۰۰-۵۰=$

$۷-۴=$

$۳۰۰+۲۰۰=$

$۷۰۰-۲۰۰=$

$۴۰۰+۱۰۰=$

$۳+۳=$

۶) عددهای بسته را به صورت باز و عددهای باز را به صورت بسته بنویسید.

$۷۸۹=$

$۴۰۰+۳۰=$

$۳۰۰+۷=$

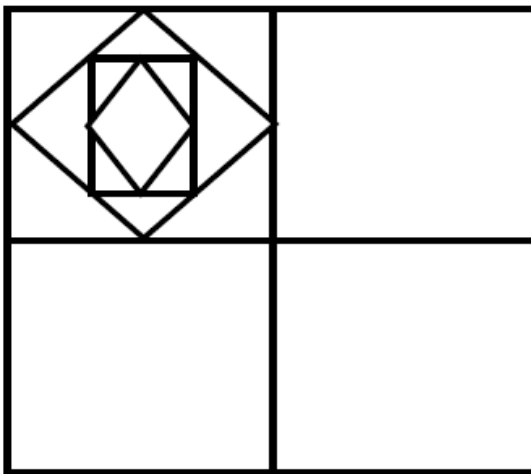
$۶۴۵=$





۷) جاهای خالی را کامل کن.

- ۱۷ سانتی متر، ..... میلی متر است.
- ۵۰۷ ریال، ..... ۱۰۰ ریالی، ..... ۱۰ ریالی و ..... ۱ ریالی است.
- ۷ صد ریالی و ۹ ده ریالی و ۲ یک ریالی می شود.....



۸) شکل را کامل کن و با سه رنگ (بنفش، صورتی، زرد) رنگ بزن.



۹) در یک پارکینگ روی هم ۶ دوچرخه و ماشین قرار دارد. آن ها روی هم ۱۸ چرخ دارند. در این پارکینگ چند ماشین و چند دوچرخه قرار دارد؟

