

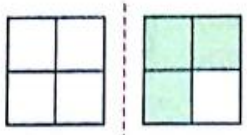
ریاضی

۱- عزیزانم!!! جاهای خالی را به طور مناسب کامل کنید.

- عدد $0/2$ به عدد 0 نزدیک تر است یا به 1 ؟
- عدد $9/6$ به عدد 9 نزدیک تر است یا به 10 ؟
- عدد $5/24$ به $5/2$ نزدیک تر است یا به $5/3$ ؟
- عدد $3/74$ به $3/7$ نزدیک تر است یا $3/8$ ؟
- عدد $1/384$ به $1/38$ نزدیک تر است یا به $1/39$ ؟

۲- اعداد اعشاری ای که هر شکل نشان می دهد را به عدد و حروف بنویسید.

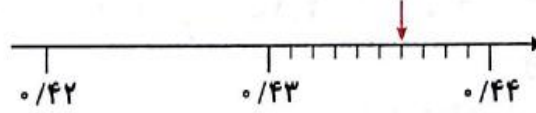
الف)



به رقم: _____

به حروف: _____

ب)



به رقم: _____

به حروف: _____

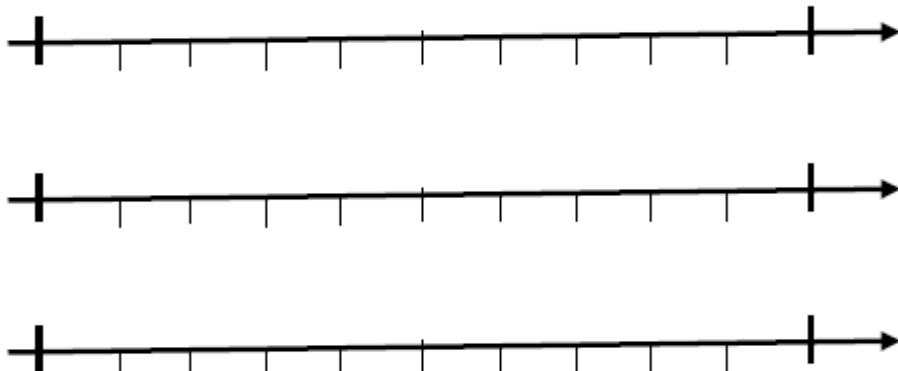
۳- کدام یک از عددهای زیر بین $0/5$ و 1 قرار دارند؟ دورشان خط بکشید.

$0/52$ $0/62$ $0/907$ $0/80$ $0/409$ $0/499$

۴- عدد $15/701$ به کدام عدد نزدیک تر است؟

۱۵ ۱۶ ۱۷ ۱۸

۵- عددهای زیر را روی محور نشان دهید.



$2/6$

$5/32$

$8/34$



۶- نمایش اعشاری کسرهای زیر را بنویسید.

$$\frac{5}{10} = 0/5$$

$$\frac{14}{100} =$$

$$\frac{8}{1000} =$$

$$\frac{207}{100} =$$

$$\frac{13}{1000} =$$

$$\frac{88}{10} =$$

$$\frac{214}{100} =$$

$$\frac{501}{10} =$$

۷- حاصل جمع‌های زیر را به صورت اعشاری بنویسید.

$$1 + \frac{5}{10} + \frac{10}{100} + \frac{4}{1000} = 1/604$$

$$5 + \frac{6}{100} + \frac{3}{1000} =$$

$$2 + 7 + \frac{3}{10} + \frac{2}{100} + \frac{6}{1000} =$$

$$3 + \frac{6}{1000} =$$

$$\frac{2}{10} + \frac{3}{100} + \frac{1}{1000} =$$

۸- هر یک از اعداد اعشاری زیر را مانند نمونه به صورت کسر بنویسید.

$$3/25 = 3 + \frac{2}{10} + \frac{5}{100}$$

$$0/567 =$$

$$7/128 =$$

$$0/020 =$$

$$0/002 =$$

$$6/021 =$$

$$0/019 =$$

۹- هر یک از عددهای زیر را به صورت اعشاری بنویسید.

الف) $4\frac{1}{3} =$

ج) $1\frac{5}{8} =$

ب) $3\frac{9}{25} =$

د) $2\frac{7}{250} =$



۱۰- جاهای خالی را با اعداد مناسب کامل کنید.

الف) ۵ سانتی‌متر = _____ متر

ب) ۴ میلی‌متر = _____ متر

ج) ۱۳۰۴ میلی‌متر = _____ متر

د) ۴۲ گرم برابر با _____ کیلوگرم است.

ه) ۴ گرم برابر با _____ کیلوگرم است.

و) ۴۳۲۱ گرم برابر با _____ کیلوگرم است.

۱۱- عددهای زیر را از کوچک به بزرگ و از چپ به راست مرتب کنید.

$$3/2, 3\frac{2}{5}, 2/75, 2\frac{4}{5}, 3/3$$

..... < < < <

۱۲- حاصل جمع و تفریق‌های زیر را به دست آورید.

$$\begin{array}{r} 30/001 \\ + 5/07 \\ \hline \end{array}$$

الف)

$$\begin{array}{r} 2/03 \\ - 0/998 \\ \hline \end{array}$$

ب)

۱۳- عدد گسترده را به صورت اعشاری و عدد اعشاری را به صورت گسترده بنویسید.

$$3/089 =$$

$$7 + 0/1 + 0/006 =$$

۱۴- اگر زاویه‌ی تند در یک لوزی ۵۵ درجه باشد، زاویه‌ی باز آن چند درجه است؟

۱ - جمله‌ی زیر را خلاصه کنید .

هر کدام از دانش آموزان با سلیقه‌ی شخصی خود و به کمک پدر و مادرشان و با راهنمایی دبیرانشان امروز از ساعت چهار تا شش خاطرات سفر خود را به مشهد با علاقه‌ی بسیار زیادی نوشتند .

.....

۲ -

 <p>فرزندم با دانشی که داری لغات را معنی کن .</p>	 <p>عزیزم دقت کن مخالف باشه .</p>	 <p>پسرم ، هم خانواده بنویس .</p>
<p>فضل : بحر : تالاب : سنگلاخ : خفت : بازرگان : قامت : خاوران : سهمگین : محاصره : مرزو بوم : متانت : گسیخت : بنگر :</p>	<p>کاهلی : پاسخ : کوتاه : اندوه : نهان : مناسب : گذشته : دلیر : زودتر : باختر : پیروزی : شجاعت : استوار : سخت کوشی :</p>	<p>غروب : معلم : جمع : فاسد : اسیر : عظیم : موفقیت : حضور : منظم : متوجه : احترام : غرور : مخصوص : شهدا :</p>

۳ - منظور از « فرزند » در بیت « چو فرزند را دید ، مویش سپید / بشد از جهان یکسره ناامید » کیست ؟

- رستم دستان سهراب زال

۴ - گام اول شجاعت چیست ؟

۵ - هر یک از واژه‌های زیر را حداقل تا سه کلمه گسترش دهید .

کتاب ورزش
 تمام دنیای



آدینه‌ی هفته‌ی اول اسفند پایه‌ی پنجم

علوم

۱- درستی یا نادرستی جملات زیر را مشخص کنید.

- ✚ هر چه طول سطح شیب دار بیش تر شود ، جرکت جسم سخت تر می شود . (.....)
- ✚ در یک اهرم هر چه جسم به تکیه گاه نزدیک شود ، برای بلند کردن آن نیروی بیشتری نیاز است . (.....)
- ✚ پله ها ، نردبان و شیروانی ها ، همگی جزء سطح شیب دار هستند . (.....)
- ✚ در فندق شکن ، نیرو بین جسم و تکیه گاه است . (.....)
- ✚ در دستگاه منگنه ، نیرو بین جسم و تکیه گاه است . (.....)
- ✚ در ساختن ساختمان های مرتفع به جای قرقره از سطح شیب دار استفاده می کنند . (.....)
- ✚ دستگیره ی در ، نمونه ای از چرخ و محور است . (.....)

۲- تفاوت سطح شیب دار و گوه را بنویسید .

مطالعات

۱- به سفر پیامبر از مکه به مدینه چه می گویند ؟

- بعثت بیعت هجرت مبدأ تاریخ

۲- ابوسفیان سردسته ی مخالفان پیامبر ، در کدام شهر بود ؟

- مدینه یثرب جده مکه

۳- پیامبر در کدام جنگ شرکت نداشتند ؟

- بدر اُحد خندق صفین

۴- اولین پیشنهاد کافران و ثروتمندان مکه به پیامبر (ص) برای بازداشتن ایشان از راه خدا چه بوده است ؟

- آزار و اذیت قطع رابطه دادن پول و مقام قتل پیامبر

۵- عهدنامه ای که کافران برای قطع رابطه با مسلمانان نوشتند ، در کجا گذاشتند ؟

- مسجدالنبی غارحرا خانه ی کعبه شعب ابی طالب

۶- با توجه به نقشه ی جهان ، خط استوا از کجا می گذرد ؟

- غرب اروپا شمال آمریکا جنوب آسیا شرق آفریقا

۷- اسکیموها در کجا زندگی می کنند ؟

- خط استوا سرزمین های مجاور سیبری بیابان های عربستان در نزدیکی قطب جنوب

۸- کدام شهر فرودگاه بین المللی ندارد ؟

- تهران بوشهر زنجان اصفهان

۹- شبه جزیره به چه سرزمینی گفته می شود ؟

۱۰- وقتی آزار و اذیت کافران زیاد شد ، پیامبر (ص) به مسلمانان چه دستوری دادند ؟ چرا ؟



آدینه‌ی هفته‌ی اول اسفند پایه‌ی پنجم