

۱- کدام یک از گزینه های زیر از ۲۴۸ بیش تر است؟

- (۱) ۲ تا صدتایی و ۵ تا یکی  (۲) ۵ تا یکی ، ۳ صدتایی و ۴ تا ده تایی
- (۳) ۲ تا صدتایی ۷ تا یکی و ۴ تا ده تایی  (۴) ۷ تا یکی ۲ صدتایی و ۳ تا ده تایی

۲- در کدام عدد، رقم ۳ بالاترین ارزش مکانی را دارد؟

- (۱) ۹۳۹  (۲) ۳۸۱
- (۳) ۹۸۳  (۴) ۹۷۳

۳- مجموع رقم های کدام یک از عددهای زیر از بقیه کم تر است؟

- (۱) ۹۹  (۲) ۱۷۳
- (۳) ۴۸۱  (۴) ۱۸۸

۴- عدد کدام گزینه از بقیه بیش تر است؟

- (۱) ۱۰۰ تا بیش تر از ۳۹۰  (۲) ۴۰۰ تا کم تر از ۸۰۰
- (۳) ۱۲۰ تا بیش تر از ۳۰۰  (۴) ۵۰۰ تا کم تر از ۹۵۰

۵- دقیقه شمار کدام ساعت زیر بیش تر حرکت کرده است؟

- (۱) دو و نیم  (۲) ۲ : ۲۰  (۳) ۲ : ۱۵  (۴) یک ربع مانده به سه

۶- کدام یک با ۷۲۰ سانتی متر برابر است؟

- (۱) ۷ متر و ۲ سانتی متر  (۲) ۶ متر و ۱۴۰ سانتی متر
- (۳) ۳ متر و ۴۲۰ سانتی متر  (۴) ۷ متر و ۲۰۰ سانتی متر

۷- پاسخ کدام عبارت زیر برابر است با ۸۲۳؟

- (۱)  $۸۰ + ۲۰ + ۳ = \dots\dots\dots$   (۲)  $۸۰۰ + ۲۰ + ۳۰ = \dots\dots\dots$
- (۳)  $۸۰۰ + ۲۰ + ۳ = \dots\dots\dots$   (۴)  $۸۰۰ + ۳۰ + ۲۳ = \dots\dots\dots$

۸- کدام جدول عدد بیش تری را نشان می دهد؟

ص	د	ی		ص	د	ی		ص	د	ی		ص	د	ی	
۸	۱	۶	(۴)	۸	۶	۱	(۳)	۸	۰	۹	(۲)	۸	۵	۹	(۱)

۹- کدام یک از گزینه های زیر از ۶۷۸ کم تر است؟

- (۱) ششصد و هشتاد و هفت  (۲) ششصد و هفتاد و هشت
- (۳) هشتصد و هفتاد و شش  (۴) ششصد و هشت

۱۰ - در جای خالی کدام یک از گزینه های زیر علامت = قرار می گیرد؟

- (۱)  $۴۰۰ + ۵۰۰ \bigcirc ۲۰۰ + ۶۰۰$   (۲)  $۵۰۰ - ۹۰۰ \bigcirc ۳۰۰ + ۱۰۰$    
 (۳)  $۲۰۰ + ۳۰۰ \bigcirc ۷۰۰ - ۳۰۰$   (۴)  $۱۰۰ + ۲۰۰ \bigcirc ۶۰۰ - ۸۰۰$

فارسی

۱ - به آخر کدام کلمه نمی توان حرف گاه را اضافه کرد؟

- (۱) وضو  (۲) آرایشگاه  (۳) پرورش  (۴) ورزش

۲ - گزینه ی متفاوت را انتخاب کنید.

- (۱) دفترخانه  (۲) کتاب خانه  (۳) نمازخانه  (۴) پناهگاه

۳ - به پایان تمام کلمه های کدام گروه نمی توان گاه اضافه کرد؟

- (۱) آموزش - دانش - آزمایش  (۲) پناه - آسایش - نمایش   
 (۳) درمان - پرورش - زیارت  (۴) گردش - روز - آرایش

۴ - پرچم هر کشور نشانه ی چیست؟

- (۱) صلح و دفاع  (۲) آزادی و سربلندی  (۳) دوستی و آزادی  (۴) سربلندی و سربلندی

۵ - رنگ سفید پرچم نشانه ی چیست؟

- (۱) آزادی  (۲) سربلندی  (۳) صلح و دوستی  (۴) سربلندی

۶ - کلمه ی الله در ..... پرچم است.

- (۱) پایین  (۲) وسط  (۳) گوشه  (۴) بالای

۷ - گل لاله نشانه ی چیست؟

- (۱) سرخی لاله  (۲) دوستی  (۳) خون شهیدان  (۴) آزادی

۸ - به کسی که اهل ( اهواز ) است چه می گویند؟


- (۱) آبادانی  (۲) ایرانی  (۳) شهری  (۴) اهوازی

۹ - به چیزی که از فلز درست شده چه می گویند؟

- (۱) چوبی  (۲) فلزی  (۳) آهنی  (۴) سنگی

۱۰ - کدام دسته از کلمه ها نقطه ندارند؟

- (۱) کدام - رنگ  (۲) سرخ - صلح   
 (۳) لاله - مثل  (۴) احساس - وسط



علوم





۱. زندگی یک پروانه ی کرم ابریشم از کجا آغاز می شود؟

- (۱) از کرم ابریشم  (۲) از داخل پیله  (۳) از تخم  (۴) از زیر خاک

۲. کدام مورد از فایده های لانه سازی برای پرندگان نیست؟

- (۱) پرندگان بچه های خود را در آن بزرگ می کنند.   
 (۲) شب ها در لانه های خود استراحت می کنند.   
 (۳) همه ی لانه ها ، پرندگان را از خطر دشمن حفظ می کنند.   
 (۴) بعضی پرندگان در لانه های خود برای زمستان آذوقه جمع می کنند.

۳. کدام جانور بچه های خود را در لانه ای که زیر خاک درست کرده، بزرگ می کند؟

- (۱)   (۲)   (۳)   (۴) 

۴. شکل نوزاد کدام جانور در زمان تولد با شکل خود جانور تفاوت زیادی دارد؟

- (۱) خرگوش  (۲) لاک پشت  (۳) قورباغه  (۴) کبوتر

۵. پس از کاشت لوبیا درون خاک، کدام بخش زودتر از خاک خارج می شود؟

- (۱) ریشه  (۲) برگ  (۳) لپه  (۴) ساقه

۶. از میان میوه های زیر، کدام یک دانه های کم تری دارد؟

- (۱) خیار  (۲) گوجه فرنگی  (۳) سیب  (۴) پرتقال

۷. کدام یک از جانوران زیر، گیاه خوار است؟

- (۱) عقاب  (۲) روباه  (۳) گربه  (۴) خرگوش

۸. نوزاد کدام جانور درون آب به دنیا می آید؟

- (۱) اردک  (۲) لاک پشت  (۳) قورباغه  (۴) پروانه

۹. کدام جانور به بچه ی خود شیر نمی دهد؟

- (۱) لاک پشت  (۲) روباه  (۳) خرگوش  (۴) کانگورو

