



بیک آدینه



شماره: هفته اول اسفند

پایه: پنجم

نام و نام خانوادگی:



دستان و پیش دستان غیر دولتی دخترانه صدر ا

۱) درباره فصل بهار چند سطر بنویسید. (همراه با مقدمه و نتیجه گیری)

۲) دو جمله بنویسید که آرایه تشبیه و تشخیص با هم در جمله باشد؟

۳) آرایه تضاد را تعریف کنید.


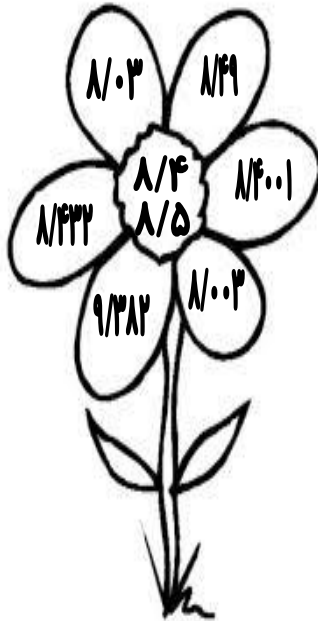

۴) واژه های جدید بسازید. نا+.....:(.....)

پاک+.....:(.....) دل+.....:(.....)

۱) نسبت تعداد خانم ها به آقایانی که در یک روز از موزه دیدن کرده اند ۲ به ۱ است. دور عددی که نمی تواند تعداد بلیط های فروخته شده ی موزه در این روز باشد خط بکشید.



۲) عددهائی که بین دو عدد وسط گل قراری گیرند را قرمز و باقی گل برگ ها را زرد کنید.



۳) هر کدام از قفل های زیر با یکی از کلیدها باز می شود آن ها را به هم وصل



$$\begin{array}{r} 5/186 \\ + 2/907 \\ \hline \end{array}$$

کنید.



$$47/078$$



$$\begin{array}{r} 28/07 \\ + 19/008 \\ \hline \end{array}$$



$$34/183$$



$$\begin{array}{r} 78/515 \\ + 28/39 \\ \hline \end{array}$$



$$8/093$$



$$\begin{array}{r} 16/98 \\ + 17/203 \\ \hline \end{array}$$

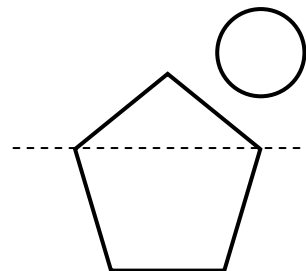
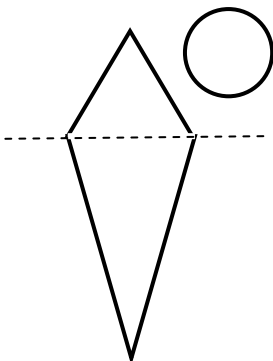
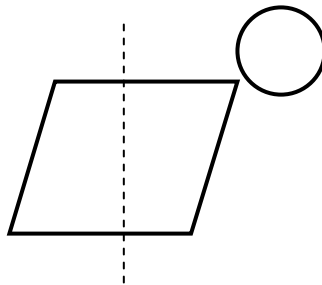
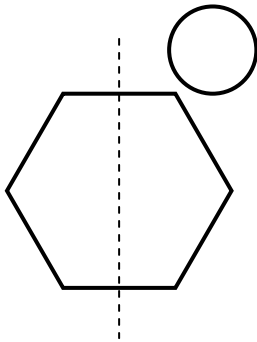
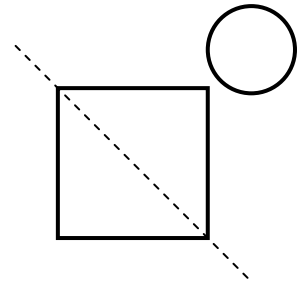
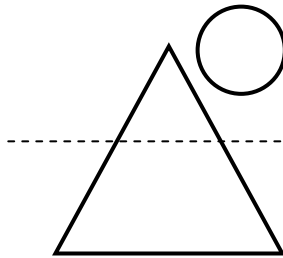
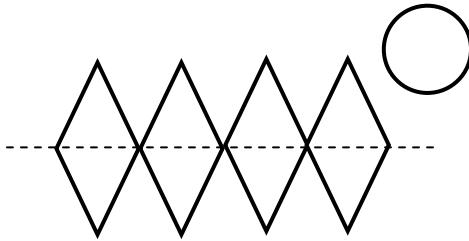
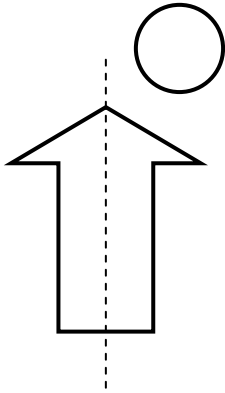


$$106/905$$

۴) در مسابقه دو میدانی مدرسه، پرش لیلیا $1/86$ اعلام شد ولی پس از بررسی نهایی هیأت داوران میزان پرش او را $1/93$ اعلام کرد. نتیجه نهائی از مقدار اولیه چه قدر بیش تر است؟

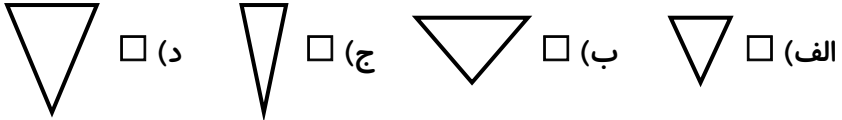
۵) زاویه نیم صفحه بیش تر است یا $\frac{3}{4}$ زاویه قائمه؟

۶) در کدام یک از شکل‌ها، خط چین محور تقارن نیست؟



۱) گزینه ی صحیح را با علامت «X» مشخص نمایید.

* استفاده از کدام گوه، راحت تر کُنده ی درخت را می شکافد؟



۲) تفاوت قرقره و سطح شیب دار در چیست؟

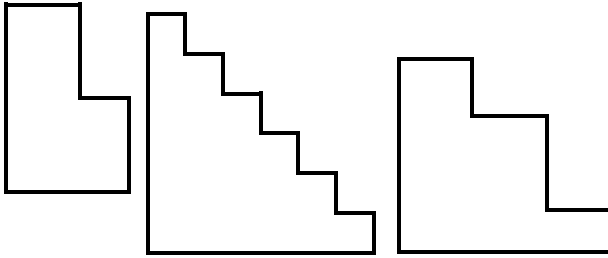
۳) تفاوت میخ و پیچ در چیست؟



۴) عبارت های صحیح و غلط را مشخص نمایید.

- انواع قیچی ها را می توان در یک گروه اهرم ها قرار داد. ()
- در گاری دستی، تکیه گاه در بین نیرو و جسم قرار نمی گیرد. ()
- رکاب دوچرخه نوعی چرخ و محور به حساب می آید. ()
- قرقره یک ماشین ساده است. ()

۵) استفاده از کدام راه پله آسان تر است؟ چرا؟



هدیه های آسمان

۱) مشهورترین لقب امام زمان (ع) می باشد.

۲) حضرت مهدی (ع) در سال هجری به دنیا آمد.

۳) چه شباهت هایی میان امام زمان (ع) و خورشید پشت ابر وجود دارد؟



۱) پاسخ دهید.

- مهم ترین و بزرگ ترین مسجد دنیا چه نام دارد؟

- غار حرا در کجا واقع شده است؟ چرا پیامبر (ص) به این غار رفتند؟

۲) چرا مسلمانان سرزمین حبشه را برای مهاجرت انتخاب کردند؟

۳) در ارتباط با شعب (درّه ی) ابی طالب به سؤالات زیر پاسخ دهید.

الف) این درّه در کدام شهر عربستان قرار دارد؟

ب) پیامبر (ص) و یارانش چند سال در این مکان زندگی کردند؟

ج) چه اتفاقی سبب شد کافران به پیامبر (ص) و یارانش اجازه دهند که به مکه برگردند؟ توضیح دهید.

۴) چرا وقتی خبر ظهور اسلام در عربستان پیچد کافران و ثروتمندان با آن


مخالفت کردند؟

۵) کامل کنید.

* سرزمینی که دین اسلام در آن ظهور کرد نام دارد.

* شهری که پیامبر در آن جا به پیامبری برگزیده شد است.

ولی محترم لطفاً نظر خود را در رابطه با پیک این هفته برایمان بنویسید.



خودارزیابی:


دختر گلم به نظر خودت این پیک را چگونه انجام دادی؟

خوب

خیلی خوب

من این پیک را در مدّت ----- انجام دادم.

نظر من:



افراد برتر هفته ...

