



پیک آدینه



شماره: هفته اول اسفند

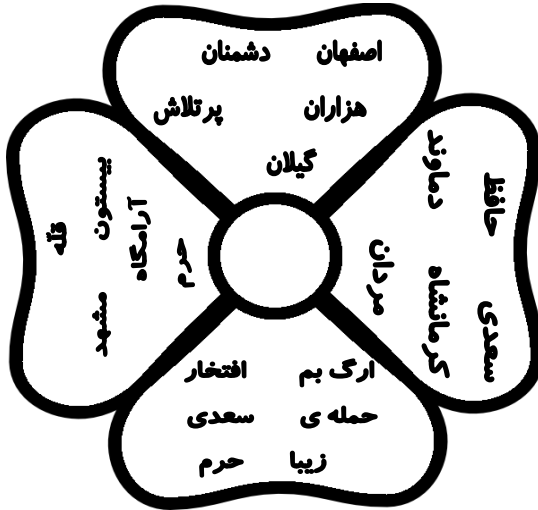
پایه: دوم

نام و نام خانوادگی:



دستان و پیش دستان غیر دولتی دخترانه صدر ا


۱) کلمه های داخل گلبرگ ها را با صدای بلند بخوان و از بین آن ها، با هر دو کلمه که انتخاب کردی جمله ی زیبا بنویس.



..... :

..... :

۲) با استفاده از حروف آخر هر کلمه، کلمه ای تازه بساز که با آن حرف آغاز شود.



۳) هنگام جمع بستن کلمات با «ان» باید توجه داشته باشید که اگر پایان کلمه ای نشانه ی «ه» با صدای «ا» یا صدای «آ»، «ی»، «او» بیاید، هنگام وصل شدن به «ان» یک حرف دیگر به کلمه اضافه شده که به آن حرف «میانجی» می گویند.

دانشجو+ان ← دانشجویان

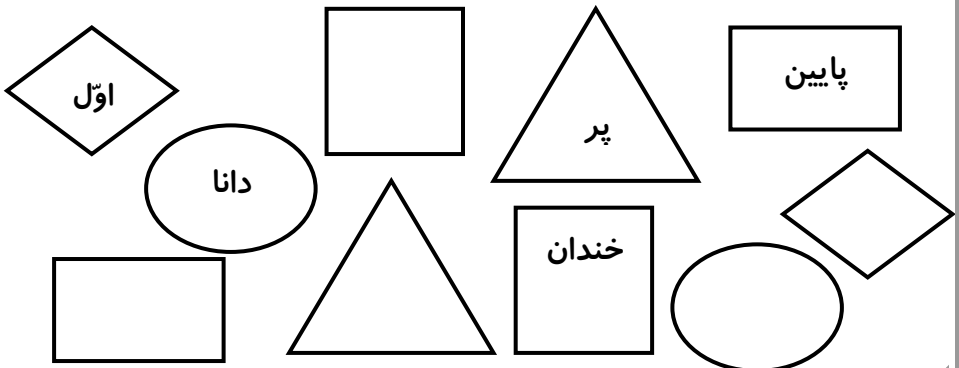
حالا چند کلمه شما بنویس.

.....+ان ←
+ان ←
+ان ←
+ان ←

۴) عبارت های مربوط به هم را با مدادهای رنگی وصل کن.

- پژوهشگاه
- آزمایشگاه
- دانشگاه
- آموزشگاه
- جایی که در آن آموزش می دهند.
- جایی که در آن پژوهش می کنند.
- محلی که در آن آزمایش می کنند.
- جایی که در آن دانش می آموزند.

۵) کلمات مخالف را در شکل شبیه به خودش بنویس.



۶) به ابتداویانتهای کلمه‌های زیریکی ازواژه‌های داخل بالن رااضافه کن وبنویس.



پالایش ←

جوش ←

ارزش ←

دلیل ←

گل ←

۷) برای جدول زیر سؤال طراحی کن.



..... (۱)

..... (۲)

..... (۳)

..... (۴)

← ۱

← ۲

← ۳

← ۴

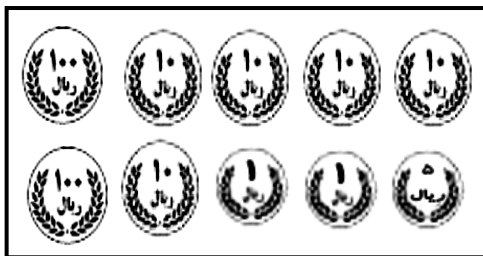
۱) ۵ کلمه که در آن‌ها عددی به کار رفته است را بنویس.

Five rounded rectangular boxes for writing, each containing a dashed horizontal line.

۲) با توجه به شکل، جمع با انتقال انجام بده و حاصل را به حروف بنویس.




.....




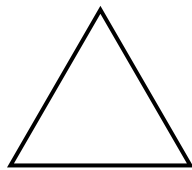
.....

۳) اگر از ۷۶ سانتی متر ۹ سانتی متر کم کنیم، چند میلی متر باقی می ماند؟


۴) اندازه ی ضلع های شکل ها را به دست بیاور و نام آن ها را بنویس.







۵) با توجه به الگو عقربه ها را بکش.



الگوها چندتا چندتا می باشد؟

۶) برای تفریق شکل بکش و حاصل را به حروف بنویس.

۸۵۳

- ۲۴۷

۷) اعداد را با هم مقایسه کنید.

$$\begin{array}{ccc} 348 & \square & 304 \\ 597 & \square & 519 \end{array}$$

$$\begin{array}{ccc} 974 & \square & 947 \\ 162 & \square & 126 \end{array}$$

۸) بچه های کلاس دوم دبستان صدرا کتابی را هدیه گرفتند، که ۳۲۶ صفحه داشت. قرار شد در یک هفته ۱۵۹ صفحه بخوانند. چند صفحه از کتاب باقی می ماند؟

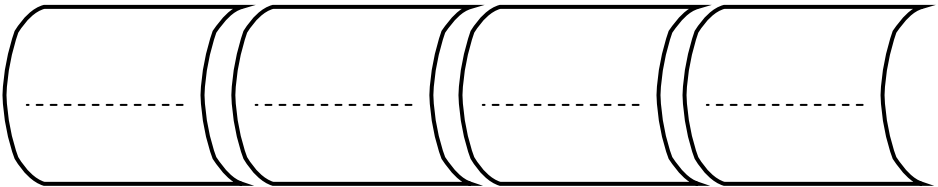
۹) من چه عددی هستم، اگر ۵۸ تا به من اضافه کنی، عدد ۱۶۵ می شوم؟

۱۰) سیصد و هفتاد و چهار به اضافه ی چهارصد و شصت و هشت را بنویس و حاصل را به دست بیاور.

۱) خصوصیات پرندگان را بنویس.

.....

۲) ۴ وسیله که با سوخت کار می کند را بنویس.



۳) چرخ ریسک چگونه لانه خود را درست می کند؟

.....

.....

۴) چهار جانور که به صورت گروهی زندگی می کنند را نام ببرید.

.....

۵) کدام یک از جانوران زیر لانه نمی سازند؟ مشخص کنید.

فیل - مورچه - عقاب - خرگوش - شانه به سر -

زرافه - قوچ کوهی - پرستو - شیر

ولی محترم لطفاً نظر خود را در رابطه با پیک این هفته برایمان بنویسید.



* در این هفته چگونه به خانواده ی خودکمک کردی؟

* به نظر خودت چه ویژگی را باید داشته باشی تا دیگران از دوست شدن با شما خوشحال باشند؟



افراد برتر هفته ...

