

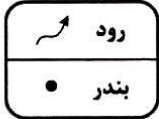
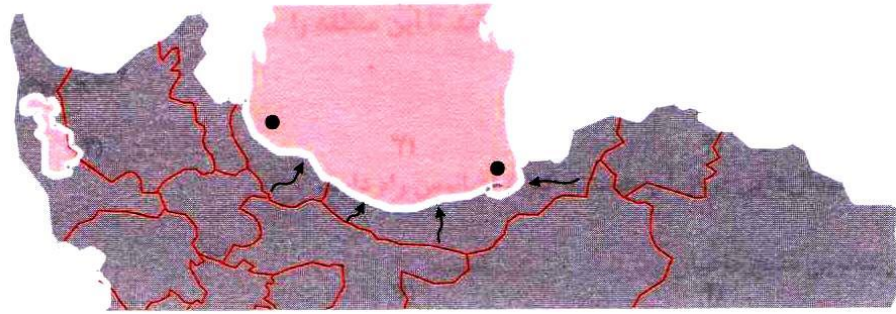


هفته نامه شماره (۱۴) اجتماعی

← پاسخ صحیح را با علامت (*) مشخص کنید.

- ۱ در اطراف کدام مناطق صنایع کشتی سازی و لنج سازی را می توان دید؟
- (۱) نکا (۲) بوشهر
(۳) چابهار (۴) در هر سه منطقه این صنایع یافت می شوند.
- ۲ کدام یک از ماهی های دریای خزر است؟
- (۱) شوریده (۲) سنگسر (۳) حلوا (۴) سوف
- ۳ بزرگ ترین جزیره ی جنوبی کشور نام دارد.
- (۱) تنب بزرگ (۲) قشم (۳) کیش (۴) خارک
- ۴ شوری کدام بخش آبی کم تر است؟
- (۱) دریای خزر (۲) خلیج فارس (۳) دریای عمان (۴) اقیانوس هند
- ۵ عمق دریای خزر در نواحی بیش تر است.
- (۱) شمالی (۲) شرقی (۳) جنوبی (۴) غربی
- ۶ بزرگ ترین تجارت امروز در جهان چیست؟
- (۱) تولید برق (۲) پرورش گیاهان توسط گل خانه
(۳) تولید ماشین آلات صنعتی (۴) واردات و صادرات نفت
- ۷ ساحل دریای عمان از بندر تا امتداد دارد.
- (۱) عباس، گوآتر (۲) عباس، آبادان
(۳) امام خمینی (ره)، گوآتر (۴) بوشهر، عباس
- ۸ کدام بندر در ساحل دریای عمان قرار ندارد؟
- (۱) چابهار (۲) گناوه
(۳) بوشهر (۴) عباس
- ۹ کشور در کنار انبار نفت جهان قرار دارد.
- (۱) عربستان (۲) آذربایجان (۳) ترکمنستان (۴) پاکستان
- ۱۰ به مروارید سیاه مشهور است.
- (۱) گاز (۲) نفت (۳) خاویار (۴) طلا

۱۸ با توجه به نقشه پاسخ دهید.

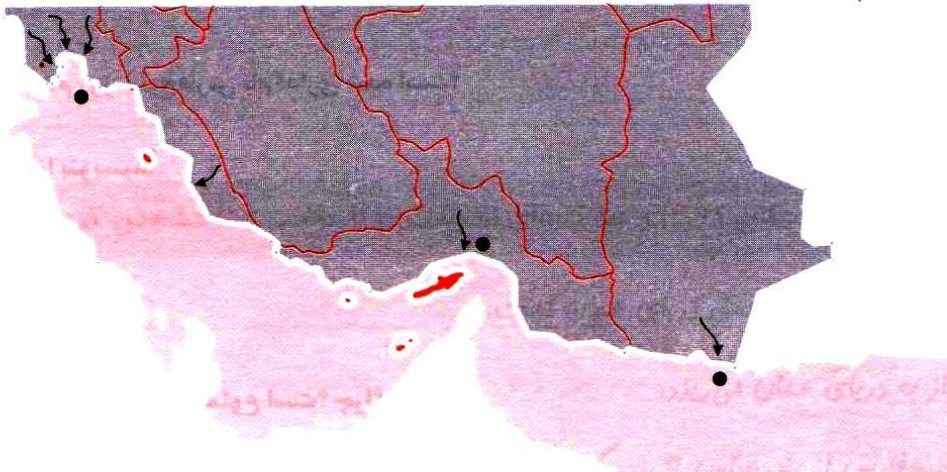


الف) استان‌های کناره‌ی دریای خزر را روی نقشه نام‌گذاری کنید.

ب) نام رودها را روی نقشه مشخص کنید.

ج) نام بندر مهم کناره‌ی دریای خزر را مشخص کنید.

۱۹ با توجه به نقشه پاسخ دهید.



الف) مکان‌های خواسته شده را روی نقشه مشخص کنید. (دریای عمان، خلیج فارس، تنگه‌ی هرمز)

ب) نام رودهایی که به خلیج فارس و دریای عمان می‌ریزند را روی نقشه بنویسید.

ج) نام استان‌های کناره‌ی دریاهای جنوبی را روی نقشه بنویسید.

د) نام بندری که روی نقشه مشخص شده‌اند را بنویسید.

ه) نام جزایر مشخص شده را روی نقشه بنویسید.