



دبستان: \_\_\_\_\_

نام و نام خانوادگی: \_\_\_\_\_

# ریاضی

چهارم دبستان

ارزیابی مداد- کاغذی

زمان ارزیابی هفته آخر بهمن الی هفته اول اسفند ماه



تاریخ آزمون: ۹۵/--/--

بهمن ماه ۹۵

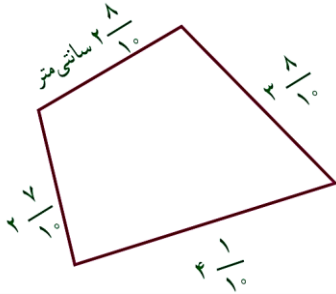
فصل ۵  
عدد مخلوط و  
عدد اعشاری

منتخبی از:

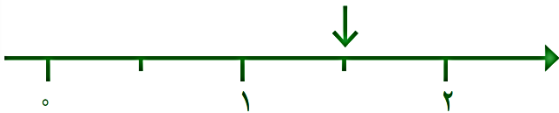
کدام یک از عددهای زیر بین ۱ و ۲ است؟

$\frac{59}{60}$  ،  $2\frac{1}{10}$  ،  $1\frac{3}{5}$  ،  $\frac{3}{4}$  ،  $1\frac{5}{10}$

اندازه‌ی ضلع‌های یک چهارضلعی را با خط کش گرفته‌اند. با نوشتن اندازه‌ی تقریبی طول ضلع‌ها، محیط تقریبی شکل را پیدا کنید.



روی محور، هر نقطه‌ی مشخص شده را با یک عدد مخلوط نشان دهید.



علامت مناسب (< یا = یا >) بگذارید.

$3\frac{1}{4} \square 3\frac{3}{4}$

$4\frac{1}{2} \square 4\frac{3}{6}$

$5\frac{1}{5} \square 4\frac{9}{10}$

عدد  $1\frac{1}{1}$  سانتی متر یعنی \_\_\_\_\_ سانتی متر و \_\_\_\_\_ سانتی متر.

عدد  $1\frac{1}{1}$  سانتی متر یعنی \_\_\_\_\_ میلی متر یا ۱۱ تا  $1\frac{1}{10}$  سانتی متر.

عدد  $1\frac{1}{7}$  سانتی متر یعنی \_\_\_\_\_ میلی متر یا \_\_\_\_\_ تا  $1\frac{1}{10}$  سانتی متر.

عددهای مخلوط  $1\frac{1}{2}$  و  $2\frac{4}{5}$  را روی محور زیر نشان دهید.

$\frac{4}{5} = \frac{\quad}{10} = \frac{\quad}{10}$

$\frac{1}{2} = \frac{\quad}{10} = \frac{\quad}{10}$



هریک از عددهای زیر را با حروف بنویسید.

$0\frac{1}{4}$  \_\_\_\_\_

$2\frac{1}{7}$  \_\_\_\_\_

$13\frac{1}{1}$  \_\_\_\_\_

هریک از عددهای زیر را با رقم بنویسید.

\_\_\_\_\_ = چهارده و یک دهم

\_\_\_\_\_ = سه و هشت دهم

\_\_\_\_\_ = دویست و پنج و پنج دهم

مانند نمونه تساوی‌ها را کامل کنید

$$2/8 = 2 + 0/8$$

$$9/9 = \underline{\quad} + \underline{\quad}$$

$$0/6 = \underline{\quad} + \underline{\quad}$$

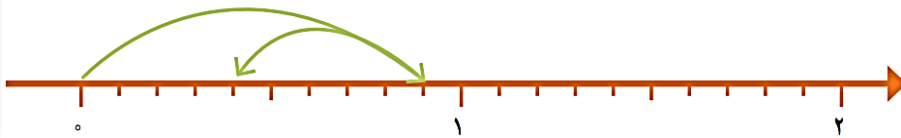
حاصل جمع‌های زیر را بنویسید.

$$0/2 + 0/7 =$$

$$0/6 + 0/3 =$$

$$0/2 + 0/5 =$$

برای هر محور یک تفریق بنویسید.



$$\underline{\quad} - \underline{\quad} = \underline{\quad}$$

عددهای زیر را به ترتیب از کوچک به بزرگ بنویسید.

$$0/1 \quad 1/2 \quad 0/8 \quad 3/2 \quad 1/4 \quad 2/9$$

در یک ظرف آب  $1/5$  لیتری،  $1/2$  لیتر آب بود. سیما  $0/4$  لیتر از آن را خورد. چقدر آب در ظرف باقی مانده است؟

عددهای زیر را به صورت اعشاری بنویسید.

$$\frac{3}{5} =$$

$$1\frac{1}{2} =$$

$$0/1 \text{ تا } 3/1 =$$

$$0/1 \text{ تا } 8 =$$

حاصل عبارت زیر را به دو صورت انجام دهید.

$$4/7 + 3/1 = \underline{\quad} \xrightarrow{\text{به طور تقریبی}} \underline{\quad}$$

$$4/7 + 3/1 = \underline{\quad} \xrightarrow{\text{به طور تقریبی}} \underline{\quad} + \underline{\quad} = \underline{\quad}$$

میزان رضایت معلم از کار شما:  بسیار خوب  خوب  قابل قبول  نیاز به تلاش و آموزش بیشتر

باز خورد توصیفی آموزگار مربوطه از نحوه پاسخگویی به سوالات:

نظر اولیای دانش آموز از فعالیت فرزند: