



پیک آدینه



شماره: هفته چهارم بهمن

پایه: اوّل

نام و نام خانوادگی:

ولادت حضرت زینب (س) و روز پرستار مبارک



دستان و پیش دستان غیر دولتی و تحرانه صدر ا

۱) نام هر تصویر را بنویس.



۲) برای هر کدام ۳ کلمه بنویس.





۳) مخالف هر کلمه را بنویس و با آن جمله بساز.

..... ≠ بزرگ :

..... ≠ راست :

۴) به هر کلمه یک کلمه اضافه کن و با آن جمله بساز.

..... : ژله

..... : چادر

۵) جمله ها را با توجه به جمله داده شده کامل کن.

من دوچرخه سواری دوست دارم.

او

شما

۶) به کلمات «ها» اضافه کن و بنویس.

شب ← کُلاه ←

ستاره ← درخت ←

۷) کامل کن.

* آموزگار با می نویسد.

* خروس با زدن دانه برمی دارد.

۸) پاسخ بده.

• به نور ماه چه می گویند؟

• به نور خورشید چه می گویند؟

• به جایی که برنج می کارند می گویند؟

• بعد از نه می آید؟

• هم معنی کشور است؟

• نام شهر ما است؟

(۹) سه خط به بزرگ ترها املا بگو

.....

.....

.....

(۱۰) با کلمات مناسب جدول را کامل کن.

و	و ← ؤ	او- و	أ- ؤ
نانوا	نوک	سوت	أردک
-----	-----	-----	-----
-----	-----	-----	-----
-----	-----	-----	-----
-----	-----	-----	-----

۱) عددهای بعد را بنویس.

۱۴		
----	--	--

۱۰	
----	--

۱۵				
----	--	--	--	--

۲) عددهای قبل را بنویس.

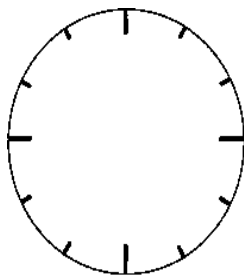
	۸
--	---

		۱۲
--	--	----

				۱۸
--	--	--	--	----

۳) روی ساعت عددها را بنویس.

برای بیشترین عددی که در ساعت می بینید شکل بکش و در جدول قرار بده.

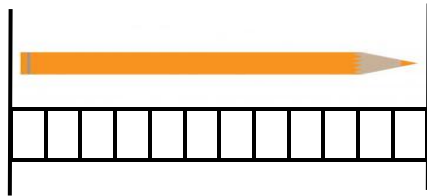
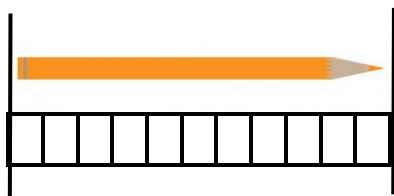


--

ده تایی	یکی

آن را به حروف بنویس.

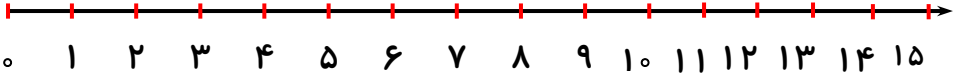
۴) اندازه ی شکل را بنویس و علامت مناسب بگذار. (< = >)



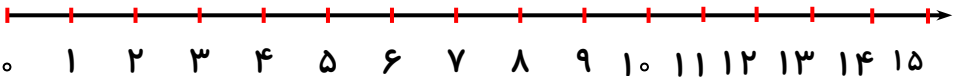
□ - - - - ○ - - - - □

۵) با کمک محور جمع و تفریق کن.

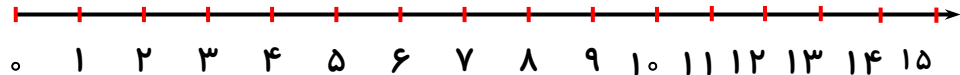
$$۱۲ - ۶ + ۱ = \dots\dots\dots$$





$$۱۰ - ۵ = \dots\dots\dots$$



$$۳ + ۴ + ۱ = \dots\dots\dots$$



۶) شکل‌ها را به ترتیب از ۱ تا ۴ مشخص کن.



۷) جاهای خالی را با اعداد مناسب کامل کن.

$$\begin{array}{cccc} ۴ - & - & - & - \\ \curvearrowright & \curvearrowright & \curvearrowright & \curvearrowright \\ +۲ & +۲ & +۲ & +۲ \end{array}$$

$$\begin{array}{cccc} ۳ - & - & - & - \\ \curvearrowright & \curvearrowright & & \\ +۳ & +۳ & & \end{array}$$

$$\begin{array}{cccc} ۵ - & - & - & - \\ \curvearrowright & \curvearrowright & & \\ +۵ & +۵ & & \end{array}$$



۱) کدام دسته از موارد زیر خاک را آلوده نمی کنند و خودشان هم از بین می روند؟

- پوست میوه - برگ های خشک
 قوطی آب میوه - پاکت چیپس



۲) ریشه ی گیاه آب را از کجا می گیرد؟

- خاک
 هوا
 ساقه

۳) به وسایلی که از خاک رس درست می کنند چه می گویند؟

- سفالی
 پلاستیکی
 خاکی

۴) کدام یک از جانوران زیر روزها در زیر خاک می ماند و شب ها به سطح خاک می آید؟




۵) کدام آثار تاریخی را می شناسی که از خاک درست شده است؟

.....

.....

ولی محترم لطفاً نظر خود را در رابطه با پیک این هفته برایمان بنویسید.



ارزشیابی آموزگار:

قابل قبول:

خوب:

خیلی خوب:

افراد برتر هفته ...

