



پیک آدینه



شماره: هفته چهارم بهمن

پایه: پنجم

نام و نام خانوادگی:

ولادت حضرت زینب (س) و روز پرستار مبارک



دستان و پیش دستان غیر دولتی و احترام صدر

۱) با توجه به درس واژه شجاعت را تعریف کنید.

۲) یک بیت به دلخواه بنویسید و قافیه و ردیف آن را مشخص کنید.

.....

۳) سه واژه مرکب و سه واژه ساده بنویسید.

.....

.....

.....

.....

.....

.....

۴) یک سؤال به دلخواه از نکته های درس طرح کنید و پاسخ دهید.

.....

.....

.....

(۱) جاهای خالی را کامل کنید.

(الف) اختلاف ۲ لیتر شیر و $1/24$ لیتر شیر برابر است با لیتر

(ب) ۲۵ تا $0/001$ می شود

(ج) 75% یعنی نسبت به ۳ به ۴

(۲) بین هر جفت از اعداد داده شده، پنج عدد اعشاری بنویسید.

(الف) $0/7$ و $0/8$

(ب) $1/03$ و $1/04$

(۳) هر یک از اعداد داده شده را در جدول ارزش مکانی نوشته و به رقم بنویسید.

سپس آن ها را مرتب کنید. (از کوچک به بزرگ)

(الف) سه و هشتاد و چهار و صدم

(ب) دو و دویست و سی و سه هزار

(ج) ششصد و نه هزارم

(د) هفتاد و یک صدم

۴) کدام از اعداد مقابل بین $0/72$ و $0/82$ قرار دارند؟

$0/799$ و $0/072$ و $0/9$ و $0/814$ و $7/2$ و $0/87$ و $0/8$

۵) حاصل جمع های زیر را به کمک محور بیابید.

الف) $63/4 + 0/3 =$

ب) $3/2 + 1/4 + 0/2 =$

۶) حاصل جمع های زیر را با نوشتن اعداد زیر هم حساب کنید.

الف) $73/241 + 4/92 =$

ب) $7/32 + 0/392 + 1/9 =$

(۱) کامل کنید.


* هنگام بریدن یک سیم با سیم چین بهتر است که سیم را به نزدیک کنیم.

* قیچی آهن بر و در یک گروه اهرم ها قرار دارند.

(۲) اهرم هایی که تکیه گاه در یک سر اهرم قرار دارند؟

(الف) (ب) (ج)

(۳) الف) کدام ابزار در این گروه قرار نمی گیرد؟



(ب) دلیل خود را شرح دهید.

(ج) ماشینهای و ابزارها چه کمکی به ما می کنند؟

۴) چرا ما از ماشین ها برای انجام کارهای خود استفاده می کنیم؟

۵) مفاهیم زیر را تعریف کنید:

الف) ماشین ساده

ب) سطح شیبدار



هدیه های آسمان

۱) از درس یک هدیه های آسمان دو سؤال طرح کنید و به آن پاسخ دهید.

.....

.....

.....

.....

.....

.....

.....

۲) امام زمان در ماه متولد شده است.

۱) بر روی شکل زیر:

الف) استوا را رسم کنید.

ب) سسه مدار در هر دو نیمکره رسم کنید.

ج) اندازه مدارها به سمت قطب ها چه تغییری می کند؟

۲) کدام قاره ها دیرتر کشف شده اند؟

۳) چرا بعضی از مردم نواحی بیابانی همیشه در حال کوچ هستند؟

۴) کامل کنید.

* در اثر حرکت انتقالی به وجود می آید.

* زمین یکی از سیاره های منظومه ی است.


* به خشکی های وسیع که در میان آب ها قرار گرفته اند می گویند.

۵) جملات نادرست را مشخص کرده و شکل درست آن را بنویسید.


- پوشش گیاهی ناحیه ی بیابانی، بیش تر از نوع درختان سوزنی برگ است.

- بیش تر وسعت کره ی زمین را اقیانوسها فرا گرفته اند.

- چین و هند پرجمعیت ترین کشورهای جهان هستند.



ولی محترم لطفاً نظر خود را در رابطه با پیک این هفته برایمان بنویسید.



خودارزیابی:


دختر گلم به نظر خودت این پیک را چگونه انجام دادی؟

خوب

خیلی خوب

من این پیک را در مدت ----- انجام دادم.

نظر من:



افراد برتر هفته ...

