



پیک آدینه



شماره: هفته چهارم بهمن

پایه: سوم

نام و نام خانوادگی:

ولادت حضرت زینب (س) و روز پرستار مبارک



دستان و پیش دستان غیر دولتی و احترام صدر

۱) پنج کلمه ی تشدیددار از کتاب فارسی پیدا کن و بنویس و با سه تای آن ها به دلخواه جمله هایی مربوط به زمان گذشته و حال و آینده بنویس.

.....

.....

.....

.....

۲) به کلماتی که دارای وزن و آهنگ باشد چه می گوئیم؟

- الف) متن     ب) شعر     ج) حکایت     د) ضرب المثل

۳) کدام کلمه با بقیه متفاوت است؟

- الف) حرص     ب) طمع     ج) طعمه     د) زیاده خواهی

۴) شاعر این بیت شعر کیست؟

«ما همه کودکان ایرانیم / میهن خویش را نگهبانیم»

- الف) قیصر امین پور     ب) محمدتقی بهار

- ج) مصطفی رحمان دوست     د) پروین اعتصامی

۵) بیت زیر از چند جمله درست شده است؟

«گفتم به گوش باد، این نقش ها از کیست؟»

پیدا است استادست، نقاشی اش عالیست؟»

(ب) سه جمله

(الف) پنج جمله

(د) چهار جمله

(ج) هفت جمله


۶) در کدام گزینه هم خانواده ها صحیح نیستند؟

(ب) معلّم، عمل

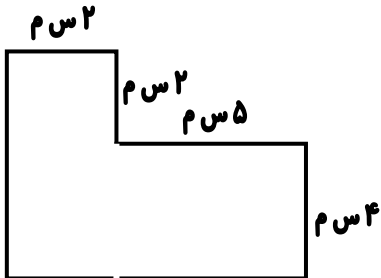

(الف) جنگجو، جنگاور

(د) تحمیل، تحمّل

(ج) شاعر، مشاعره



(۱) مساحت هر شکل را حساب کنید.



(۲) زمینی به شکل مستطیل به طول ۶ سانتی متر و عرض ۴ سانتی متر داریم. می خواهیم دورتادور این زمین را سه دور نرده بکشیم. چقدر نرده نیاز داریم؟

۳) به اندازه سطح هر شکل ..... می گوئیم و واحد اندازه گیری آن ..... و ..... است. به اندازه ی دورتادور هر شکل ..... می گوئیم.

۴) در جای خالی عدد مناسب بگذارید.


الف)  $(5 \times \dots) + (\dots \times 4) = 8 \times 4$

ب)  $(\dots \times 3) + (4 \times \dots) = 4 \times 9$

ج)  $28 \div 7 = \dots$

د)  $9 \times \dots = 63$

۵) سنّ نازنین از ۴ برابر سنّ برادرش ۲ سال کوچک تر است. اگر برادر نازنین ۹ ساله باشد، نازنین چندساله است؟




۶) محیط این مربع و مستطیل هم اندازه است.

الف) ابتدا محیط مستطیل را به دست آورید.

ب) اندازه ی ضلع های مربع را به دست آورید.

ج) مساحت مربع و مستطیل را به دست آورید.



۱) در کدام شکل حرکت دادن جسم راحت تر است؟ چرا؟



۲) مشخص کنید کدام آهن رباها یکدیگر را جذب و کدام یکدیگر را دفع می کنند. زیر هر کدام بنویس.



۳) دو نیروی غیر تماسی بنویسید.



۴) نیروی جاذبه ی زمین در انجام چه کارهایی به ما کمک می کند؟

۵) کدام مورد از اثرات نیرو بر اجسام نمی باشد؟

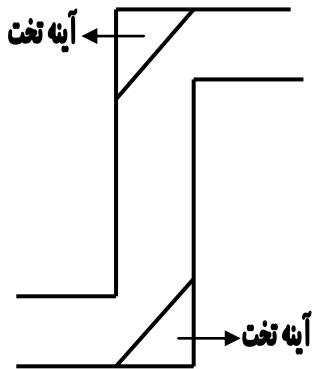
الف) به حرکت در آوردن

ب) متوقف کردن

ج) تغییر حالت دادن

د) تغییر جهت دادن

۶) دستگاهی که در تصویر می بینید برای دیدن اجسام بالاتر از سطح بیننده است، این وسیله در کدام مورد کاربرد ندارد؟



الف) زیردریایی

ب) تانک

ج) سنگرهای زیرزمینی

د) هواپیما

۱) دو نکته ی ایمنی زمانی که بوی گاز حس می کنیم را بنویسید.

۲) نقشه ی خانه چیست؟ و در آن چه چیزهایی می بینیم؟

۳) هر کلمه ای را به کلمه ی مربوط به آن وصل کن.

- |                                     |  |
|-------------------------------------|--|
| <input type="radio"/> مهندس ساختمان | <input type="radio"/> سیم کشی برق      |
| <input type="radio"/> بنا و کارگران | <input type="radio"/> لوله های آب منزل |
| <input type="radio"/> لوله کش       | <input type="radio"/> دیوارها و سقف    |
| <input type="radio"/> برق کار       | <input type="radio"/> نقشه ی خانه      |

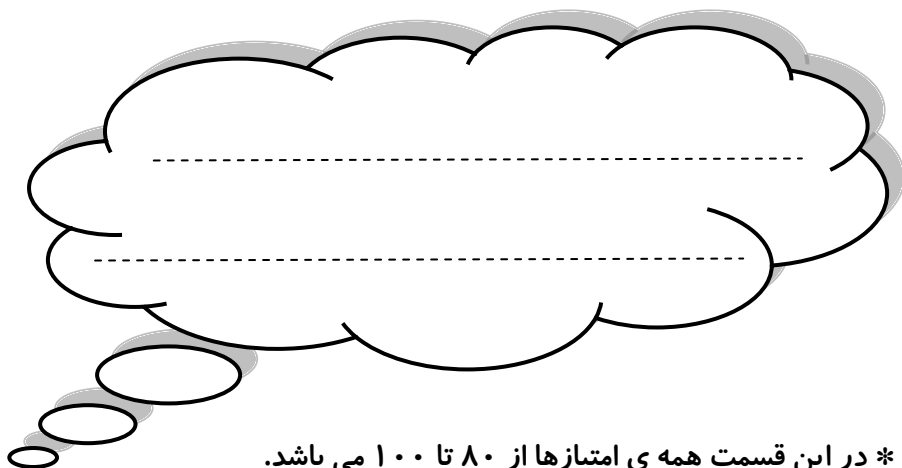
۴) مکان هایی که در خانه های روستایی وجود دارد بنویسید.

۵) چرا باید زباله ها را از محلّ زندگی فرد دور کنیم؟

۶) بازیافت چیست؟



ولی محترم لطفاً نظر خود را در رابطه با پیک این هفته برایمان بنویسید.




\* در این قسمت همی امتیازها از ۸۰ تا ۱۰۰ می باشد.

- نازنینم، به زیبانویسی خود در پیک چه امتیازی می دهی؟

- مهربونم، در حل آن به خودت چه امتیازی می دهی؟

- عزیزدلم، مطالب را به خوبی فراگرفته ای؟

\* نظرت درباره پیک:



# افراد برتر هفته ...

