



پیک آدینه

شماره: هفته سوم بهمن

پایه: چهارم

نام و نام خانوادگی:



دستان و پیش دستان غیر دولتی و احتراماً صدرا

۱) دوست باهوشم، در هر سطر که مورد با بقیه هم خانواده نیست را مشخص کن.

- * الف) مشاهیر ب) شعر ج) مشهد د) شرت
- * الف) فَعَال ب) مفعول ج) فاعل د) عرفان
- * الف) هجرت ب) حاجت ج) مهاجر د) هاجر
- * الف) گنجینه ب) گنج نامه ج) جنگاور د) گنج

۲) معنی عبارت زیر را بنویسید.

دژ تسخیرناپذیر بود.

۳) جمع کلمات زیر را بنویسید.

رزمنده ← دلاور ← بالگرد ←

۴) معنی کلمات زیر را بنویسید.

خیره ← نفوذناپذیر ←

نظاره ← ترجیح ←

۵) کلمات زیر را به صورت مفرد (غیر جمع) بنویسید.

امواج ← جملات ←

اشعار ← لحظات ←

۶) دوست باهوشم، جدول را کامل کن.

اولین	شهر	درخت یا گل	میوه	حیوان	غذا	کشور	نام پسر	نام دختر
ع								
ف								
ق								
ی								

۷) مهربانم، جدول را کامل کن.

مخالف روز ش

حیوان بیابانگرد ش

سرآینده ی شعر ش

پرنده ی شکاری ش

ماه ششم ش

محل شکار ش

۸) دلبندم در میان این کلمات چند فعل وجود دارد؟

«آمدن، نشستم، دوخت، رفتن، سوخت، است، گفتن»

الف) ۳ تا

ب) ۴ تا

ج) ۵ تا

د) ۶ تا

۱) شکلی بکشید که هر سه نوع زاویه (زاویه ی تند، زاویه ی باز، زاویه ی راست) را داشته باشد.

۲) ۳ متر و $\frac{4}{5}$ از یک متر می شود

۳) جاهای خالی را با اعداد و کلمات مناسب پر کنید.

* وسیله ای است که با آن زاویه ها را اندازه گیری می کنیم.

* نیم دایره ی نقاله به قسمت مساوی تقسیم شده است.

* به $\frac{1}{180}$ نیم دایره، می گویند.

* را به صورت 10° می نویسیم.

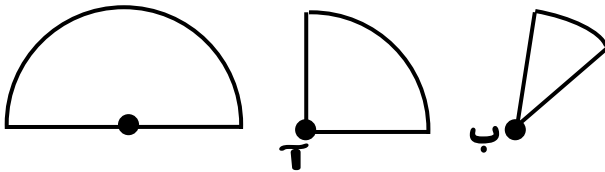
* اندازه ی هر زاویه ی تند از درجه کم تر است.

* اندازه ی هر زاویه باز از درجه بیش تر و از

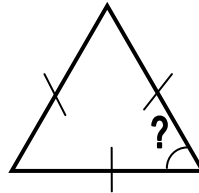
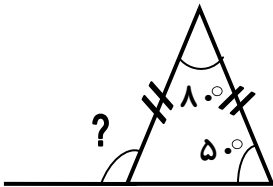
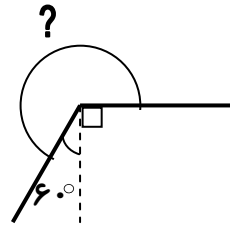
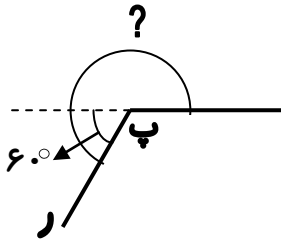
درجه کم تر است.

۴) اگر یک نیم دایره را دو بار از وسط تا کنیم، هر بار چه زاویه ای درست

می شود؟



۵) اندازه ی زاویه های خواسته شده را محاسبه کنید. (از نقاله و گونیا استفاده نشود.)



۶) نازنین زهرا امروز ۱۸ ساله شد. مشخص کنید که: (سال ها را ۳۶۵ روز در نظر بگیرید.)

(ب) چند ساعت؟

(الف) چند روز؟

(د) چند ثانیه؟

(ج) چند دقیقه؟

از عمر او گذشته است؟

۷) یک مسابقه ی فوتبال ساعت ۷:۱۵ دقیقه شروع شد و ساعت ۹:۲۲ دقیقه به پایان رسید. این مسابقه چند ساعت و چند دقیقه طول کشیده است؟

(ب) ۲ ساعت و ۱۷ دقیقه

(الف) ۲ ساعت و ۲ دقیقه

(د) ۲ ساعت و ۷ دقیقه

(ج) ۲ ساعت و ۲۲ دقیقه



۱) هر کدام از ده کلمه ی زیر را در جای مناسب خود بنویسید.

رشد، میکروسکوپ، گوارش، اندازه، تقسیم شدن، مری،
سلول، هسته، سیتوپلاسم، تقسیم شدن

* مایع غلیظی که تمام سلول را پر می کند نام دارد.

* واحد ساختمانی بدن انسان است.

* سلول ها با سلول های جدیدی را به وجود می آورند.

* لوله ای است که غذا را از دهان به طرف معده می برد.

* قابل مصرف شدن غذا در بدن را می گوئیم.

* می تواند سلول ها را به ما نشان دهد.

* سلول ها با زیاد می شوند.

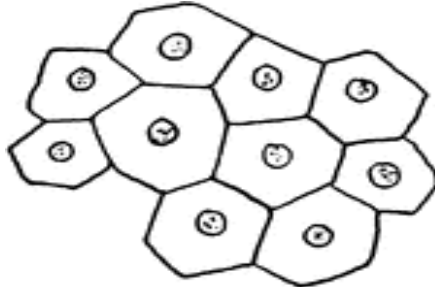
* سلول ها در داخل سیتوپلاسم قرار دارد.

* سلول ها هم می کنند و هم تقسیم می شوند.

* شکل و سلول ها با هم تفاوت دارد.

۲) از میان جملات زیر کدام یک صحیح و کدام یک غلط است؟

- غ ○ ص - همه ی جانوران یک نوع سلول دارند.
- غ ○ ص - هر سلول سه قسمت دارد.
- غ ○ ص - غذا در معده انبار می شود.
- غ ○ ص - سلول ها از غذایی که وارد آن ها می شود، استفاده می کنند.
- غ ○ ص - تعداد سلول ها با رشد کردن آن ها زیاد می شود.
- غ ○ ص - روده ی باریک غذا را به سلول ها می دهد.
- غ ○ ص - شکل همه ی سلول ها مانند هم است.
- غ ○ ص - سیتوپلاسم تمام سلول را پر می کند.
- غ ○ ص - سلول ها با تقسیم شدن زیاد می شوند.
- غ ○ ص - هسته سلول بین سیتوپلاسم و غشا قرار دارد.



۱) چرا کشور ما ایران نام گرفت؟

۲) شهری که مادها ساختند کجا بود؟

۳) جمله های زیر را کامل کنید.

الف) پادشاهان هخامنشی را به عنوان پایتخت تابستانی انتخاب کرده بودند.

ب) در موزه آثار و و از گذشته های دور به نمایش گذاشته می شود.

پ) گنج نامه به همه زبان و و نوشته شده اند.

ت) مقبره ی کوروش در قرار دارد.

ث) کوروش از قوم بود.

ج) پلکان اصلی تخت جمشید در هر طرف پله دارد.

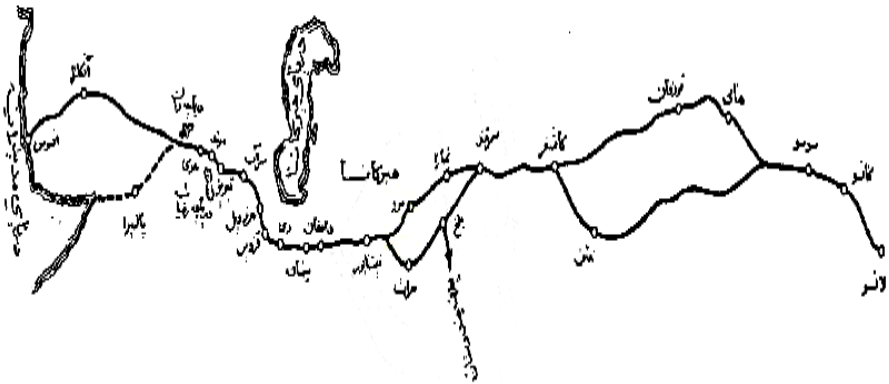
چ) کاخ تخت جمشید به فرمان ساخته شد.

ح) معماری اصلی تخت جمشید را انجام داد.

خ) یکی از شگفتی های معماری جهان است.

د) مهم ترین وسیله ی ارتباط میان شهرها و روستاها در زمان هخامنشیان بود.

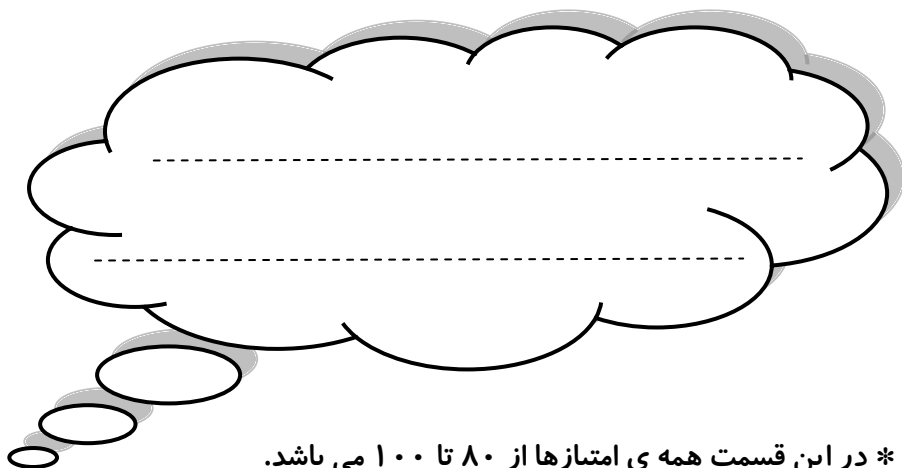
ذ) مهم ترین و طولانی ترین راه در زمان هخامنشیان راه نام داشت.



مقیاس: 0 100 150 کیلومتر

زنگنه

ولی محترم لطفاً نظر خود را در رابطه با پیک این هفته برایمان بنویسید.



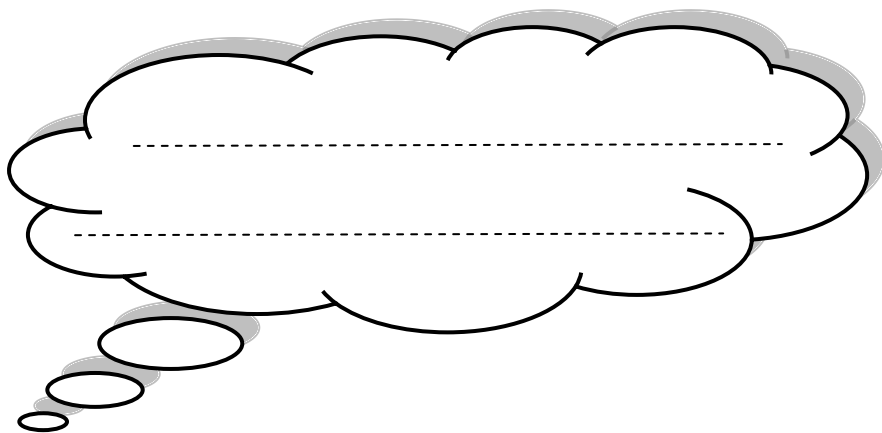
* در این قسمت همه ی امتیازها از ۸۰ تا ۱۰۰ می باشد.

- نازنینم، به زیبانویسی خود در پیک چه امتیازی می دهی؟

- مهربونم، در حل آن به خودت چه امتیازی می دهی؟

- عزیزدلم، مطالب را به خوبی فراگرفته ای؟

* نظرت درباره پیک:



افراد برتر هفته ...

