



پیک آدینه

شماره: هفته سوم بهمن




پایه: دوم

نام و نام خانوادگی:



دستان و پیش دستان غیر دولتی و احتراماً صدرا

۱) اکنون بعد از یک هفته غروب روز چهارشنبه ۲۱ بهمن ماه است و بچه ها منتظر پدرشان آقای احمدی هستند که ۲۰ دقیقه بعد از ساعت ۶:۴۰ به منزل می رسد.



۲) امین و الهام مشغول اندازه گیری قد خود می باشند که قد پدر و مادر را هم اندازه می گیرند.


قد امین: ۱۳۵ سانتی متر یعنی: ..... مترو ..... سانتی متر

قد الهام: ۱۱۹ سانتی متر یعنی: ..... مترو ..... سانتی متر

قد پدر: ۱۷۶ سانتی متر یعنی: ..... مترو ..... سانتی متر

قد مادر: ۱۶۸ سانتی متر یعنی: ..... مترو ..... سانتی متر

۳) الهام می خواهد با رقم های ۷ و ۲ و ۵ بزرگ ترین و کوچک ترین عدد سه رقمی را درست کند.



۴) مداهای رنگی امین را اندازه بگیرید.

- مداد سبز ۵۷ میلی متر است.

یعنی ..... سانتی متر و ..... میلی متر

- مداد قرمز ۲ میلی متر از مداد سبز بلندتر است.

یعنی ..... سانتی متر و ..... میلی متر

- مداد آبی ۲۰ میلی متر کوتاه تر از مداد قرمز است.

یعنی ..... سانتی متر و ..... میلی متر

- مداد نارنجی هم ۷ میلی متر کوتاه تر از مدادی آبی است.

یعنی ..... سانتی متر و ..... میلی متر

پدر به الهام و امین می گوید: مراقب گل های بنفشه ی داخل این گلدان باشید

چون برای رشد بهتر باید در برابر ..... قرار بگیرند و به اندازه ی کافی به

آن ..... بدهید.

مادر: برای این که این دانه بهتر رشد کند چه کردید؟

مادر: لازم نیست گاهی اوقات دانه ها را ما انسان ها بکاریم.

امین: چگونه؟

الهام: گاهی دانه ها به وسیله ی ..... و ..... و ..... هم  
پراکنده می شوند.

امین: مادر جان! پس با رشد دانه یک ..... جدید به وجود می آید و این گیاه  
می تواند دوباره ..... تولید کند.

الهام به گیاهی که در کنار اتاق داخل یک گلدان پراز آب بود، اشاره کرد و گفت:  
این گیاه زیبا هم با دانه زیاد می شود؟

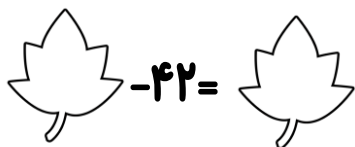
مادر: نه عزیزم! همه ی گیاهان همیشه از راه دانه اضافه نمی شوند.

مثلاً گیاه شمعدانی را از راه ..... زیاد کرده ام.

دخترم ابتدا چند ساقه از گیاه را جدا کردم و در ظرف آب قرار دادم. وقتی این  
گیاه، ریشه بدهد آن را در خاک می کارم.

امین: تقریباً چند روز طول می کشد تا ریشه بدهد؟

مادر: از مجموع روزهای دو ماه دی و بهمن ۴۲ روز کم تر.



الهام و امین: اکنون فهمیدیم که گیاهان چه قدر مفید هستند.

فایده ی گیاهان برای انسان و جانوران:

..... (۱)
..... (۲)
..... (۳)

مادر: بیش تر جانوران محل زندگی ویژه ای برای خود دارند که این محل باید برای آن ها، مناسب باشد.

پدر: جانوران برای خود و بچه هایشان، ..... درست می کنند.

مادر: آن ها لانه هایشان را در زیرزمین، روی درختان، داخل شکاف سنگ های کوهستان، بین نیزارها، بین شاخه ها و برگ ها، داخل سوراخ تنه ی درختان و ..... درست می کنند.

امین: مادر بعضی از جانوران مثل ..... و ..... در زیر خاک لانه ی خود را می سازند.

پدر: دلیل ساخت لانه برای جانوران:

(۱) .....

(۲) .....

(۳) .....

(۴) .....

مادر: بعضی از جانوران زحمت ساخت لانه را به خود نمی دهند بلکه از لانه ی قدیمی دیگر جانوران استفاده می کنند مثل روباه.

الهام و امین: مادر چه مطلب جالبی.

پدر: بعضی از جانوران تخم می گذارند، گروه دیگر بچه زا هستند و دسته دیگر در آب تخم ریزی می کنند.

امین: قورباغه و ماهی در آب ..... می کنند.

الهام: پرنده ها در لانه ی خود ..... می گذارند و روی تخم خود ..... تا جوجه ..... بیرون بیاید و بدنش بدون ..... است.

مادر: گروهی از جانوران به دلیل داشتن جثه ی بزرگ لانه ندارند.

پدر: حالا بیایید پول هفتگی خود را بگیرید و شکل آن را بکشید.


به امین ۷ صد ریالی و یک ۲۵۰ ریالی و ۳ ده ریالی و ۶ یک ریالی داد.




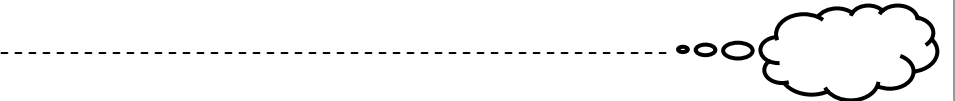

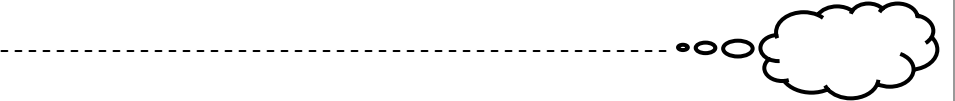
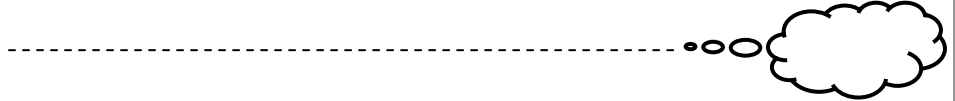
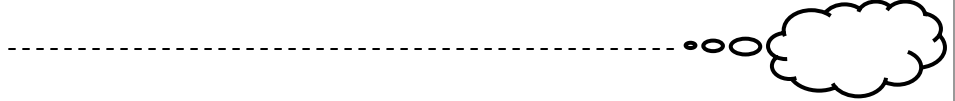
به الهام هم ۲ سکه ی ۲۵۰ ریالی، ۳ سکه ی صد ریالی و ۲ سکه ی ۵۰ ریالی و ۲ سکه ی ده ریالی و دو سکه ی ۲ ریالی داد.



حالا امین و الهام پول هایشان را با هم مقایسه کردند.



الهام و امین تصمیم گرفتند با ۶ کلمه از درس ۱۳ و ۱۲ جمله بسازند.



مادر گفت: عزیزم سوغات شهرهای مشهد، اصفهان، قم و شیراز را بنویسید.

..... امین:

پدر: نام مکان های دیدنی کرمان، تهران و کرمانشاه را بنویسید.

..... الهام:




ولی محترم لطفاً نظر خود را در رابطه با پیک این هفته برایمان بنویسید.



\* در این هفته چگونه به خانواده ی خودکمک کردی؟

\* اگر در کلاس اشتباهی داشتی چگونه متوجه آن شدی؟



# افراد برتر هفته ...

