



پیک آدینه



شماره: هفته سوم بهمن

پایه: پنجم

نام و نام خانوادگی:



دستان و پیش دستان غیر دولتی و احتراماً صدرا

۱) کدام گزینه با گزینه های دیگر تفاوت دارد؟

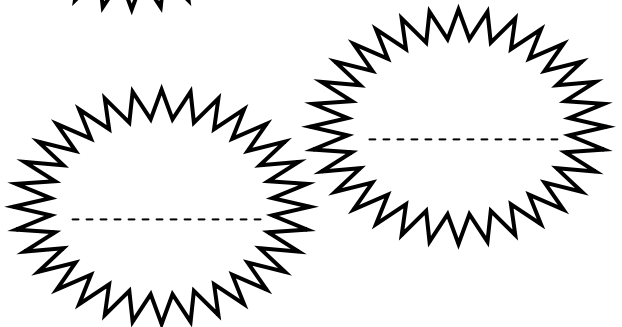
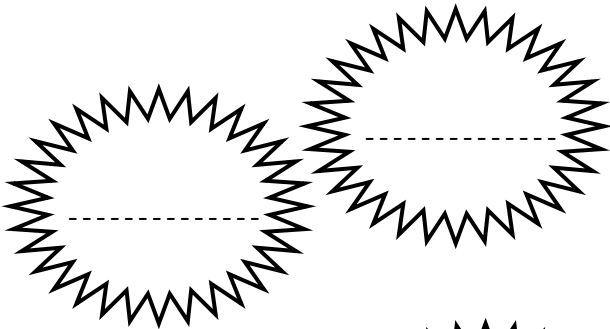
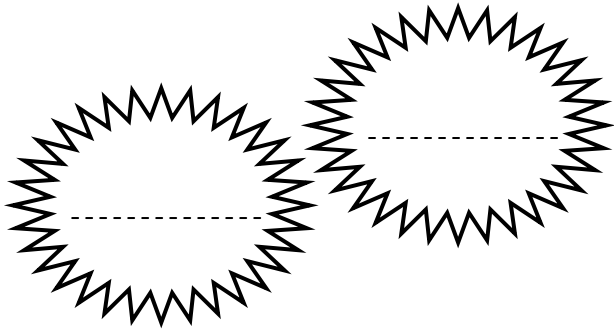
(ب) کزان: که از آن

(الف) ره: راه


(د) نگهش دار: نگاهش دار

(ج) ناگه: نا آگاه

۲) دو واژه مشتق - دو واژه ساده و دو واژه مرکب را بنویسید.



۳) درباره ی واژه ی شجاعت در حدود ده سطر به صورت انشا توضیح دهید.



۱) با توجه به جدول ارزش مکانی، اعداد را به رقم و حروف بنویسید.

الف) رقم:

هزارم	صدم	دهم	یکان	دهگان	صدگان
		۵	۰	۳	۶

..... حروف:

ب) رقم:

هزارم	صدم	دهم	یکان	دهگان
۱	۲	۵	۰	۴

..... حروف:

۲) با توجه به ارقام، عدد را به حروف بنویسید.

الف) به رقم: ۳۶۵/۰۹۴ به حروف:

ب) به رقم: ۴/۵۶ به حروف:

۳) ارزش مکانی رقم ۵ را در هریک از اعداد ستون «الف» به ستون «ب» وصل کنید.

الف)

۱۴/۱۲۵	۳۵/۱۴	۶۳/۵۲	۵۹/۸۲۱
--------	-------	-------	--------

ب)

هزارم	یکان	دهگان	دهم
-------	------	-------	-----

۴) جاهای خالی را پر کنید.

الف) در عدد $۹۰/۶۴$ رقم در مرتبه صدم و رقم ۹ در مرتبه است.

ب) عدد را می‌خواهیم ۸۶ صدم

ج) در عدد $۰/۹۵۲$ رقم در مرتبه دهم است.

۵) هر یک از اعداد اعشاری زیر را به صورت کسر بنویسید و تا حد امکان ساده کنید.

$$۷/۳ =$$

$$۰/۰۵۵ =$$

$$۱۰/۱۶ =$$

$$۰/۴۵ =$$

۶) هر یک از عددهای کسری یا اعداد مخلوط زیر را به صورت عدد اعشاری بنویسید.

$$\text{الف) } ۳\frac{۲}{۵} =$$

$$\text{ب) } ۲\frac{۴۵}{۵۰} =$$

$$\text{ج) } \frac{۴۹}{۱۰۰۰} =$$

(۱) کامل کنید.

* محل قرار گرفتن تکیه گاه در اهرم ها است.

* لایه ی رویی پوست است.

(۲) اهرم هایی را که تکیه گاه بین جسم و نیروی محرک قرار دارد را نام ببرید.

الف) ب) ج)



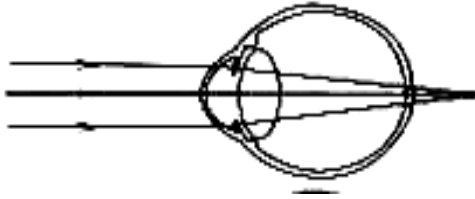
(۳) برای جابه جایی این سنگ بزرگ، چه پیشنهاداتی دارید؟

(۴) در هر یک از شغل های زیر، از چه اهرم هایی استفاده می شود؟

شغل	اهرم مورد استفاده
بنایی	
نجاری	

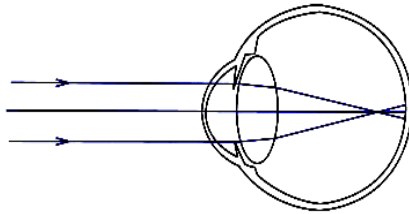
۵) هر تصویر چه عیبی از چشم را به نمایش گذاشته است. برای رفع این نقایص

چه باید بکنیم؟



عیب:

رفع عیب:



عیب:

رفع عیب:

هدیه های آسمان

۱) درباره ی شاگرد امام هادی (ع)، «عبدالعظیم حسنی» به اختصار بنویسید.




.....

.....

.....

.....

۲) در زمان غیبت امام زمان (عج) چه کسانی هدایت جامعه را برعهده دارند و جانشین امام زمان (عج) هستند؟



۱) کامل کنید.

* خورشید هر روز از طلوع و از غروب می کند.

* حرکت انتقالی همان حرکت زمین به دور است.

۲) تعریف کنید.

- مدار:

- خط استوا:

- نصف النهار:

۳) پاسخ دهید.

• گردش زمین به دور خودش چه مدت طول می کشد؟

• نصف النهار مبدأ از نزدیکی کدام شهر عبور می کند؟

• نصف النهار مبدأ چند درجه است؟

• کشور ایران در کدام دو نیمکره قرار دارد؟

۴) گزینه صحیح را با علامت «X» مشخص نمایید.

▪ کدام مورد از صادرات ایران نیست؟

الف) قالی ب) ماشین آلات ج) نفت د) خشکبار


▪ ارزان ترین حمل و نقل مربوط به کدام مورد است؟

الف) راه آهن ب) راه آبی

ج) راه هوایی د) راه جاده ای



ولی محترم لطفاً نظر خود را در رابطه با پیک این هفته برایمان بنویسید.



خودارزیابی:


دختر گلم به نظر خودت این پیک را چگونه انجام دادی؟

خوب

خیلی خوب

من این پیک را در مدّت ----- انجام دادم.

نظر من:



افراد برتر هفته ...

