



پیک آدینه



شماره: هفته سوم بهمن

پایه: سوم

نام و نام خانوادگی:



دستان و پیش دستان غیردولتی و احترامه صدره

۱) در هر ردیف کدام کلمه با بقیه فرق دارد ؟

\* سعدی - بوستان - گلستان - دریا

\* سربلندی - موفقیت - پیروزی - شکست

\* صندلی - میخ - نیمکت - ساعت

\* گلستان - بوستان - هنرستان - دستان - کوهستان

\* دبیرستان - بیمارستان - شهرستان - دوستان - نیستان

۲) مفهوم جمله های زیر را بنویس.

از دو سو بر دریا ، راه خود باز کنی.

.....

سرزمینی که مولوی، سعدی و حافظ پرورد

.....

نهراسیم برای حفظت

.....

۳) حروف به هم ریخته ی را مرتب کنید و در جای خالی بنویسید.

الف) اگر در حلّ سختی و مشکلات ..... باشیم به نتیجه ی بهتری

می رسیم. ( و ص ب ر )

ب) چیزها و افرادی که ..... هستند، برای ما مهم اند. ( ق د م س )

ج) اگر کسی به کشور ما ..... داشته باشد نمی توان به او اعتماد

کرد. ( ع م ط )

۴) فعل ها را مشخص کن و زمان آن ها را بنویس.

الف) کنار خانه ی ما خانه ای را خراب کردند و به جای آن خانه ی جدید

خواهند ساخت.

ب) صدای ماشین های ساختمان سازی و جوشکاری همه را خسته کرده است.

۵) از روی حکایت «حاتم طایی و خارکن» بدون نقطه بنویس.

The writing area is enclosed in a rounded rectangular border. It features decorative floral patterns in the top-left and bottom-right corners. The page is filled with horizontal dotted lines for writing, starting from the top and ending near the bottom. A solid horizontal line is present at the very top of the writing area, and another solid horizontal line is at the very bottom, just above the floral decorations.




۱) عرض مستطیلی ۲ سانتی متر است و طول آن ۳ برابر عرض می باشد .  
محیط مستطیل چند سانتی متر است؟

۲) مستطیلی به طول ۵ سانتی متر و عرض ۲۰ میلی متر رسم کرده و قطرهای آن را بکش و نام گذاری کن.

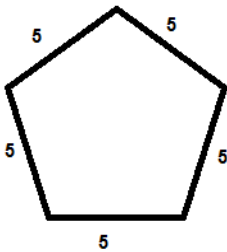
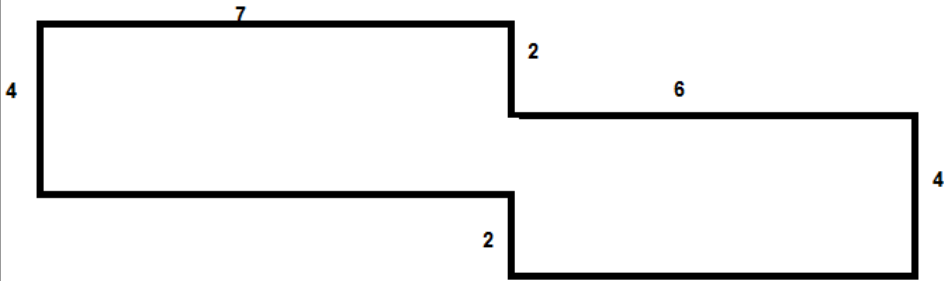
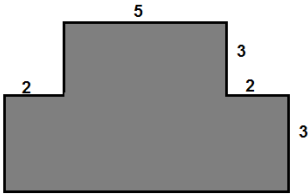
۳) برای دوخت یک دست مانتو و شلوار ۳ متر پارچه لازم است . با ۲۴ متر پارچه چند دست مانتو و شلوار می توان دوخت؟

۴) مورچه ای ۲ بار دور این باغچه را گشت . او چند متر راه رفته است؟

۱ متر .



۵) محیط شکل های زیر را به دست آورید.



۶) در یک اتوبوس ۳۲ نفر می تواند بنشینند و در یک تاکسی ۴

نفر، ظرفیت اتوبوس چند برابر تاکسی است؟

۱) در کدام یک از کارها از هل دادن و در کدام یک از کشیدن جسم برای جا به جایی آن استفاده می کنیم .

الف) بستن در :

ب) فشردن کلید برق :

ج) ورق زدن کتاب :

د) پرتاب توپ

۲) برای هر کدام یک مثال بزنید

الف) نیرو باعث تغییر جهت شود .

ب) نیرو باعث متوقف شدن جسم در حال حرکت شود .

ج) نیرو باعث به حرکت در آمدن شود .

د) نیرو باعث تغییر شکل جسم شود .

۳) زیر دریایی ها برای دیدن اجسام روی آب از چه وسیله ای استفاده می کنند؟

شکل آن را بکش.

۴) وصل کن.

گاز → گرما + مایع

ذوب

جامد → سرما + مایع

انجماد

مایع → گرما + جامد

تبخیر





۱) شعر زیر را بخوان و بگو به کدام آیه مربوط است؟

خدای خوب و مهربان	داده به ما گوش و زبان
بخشیده ما را دل و جان	چشم و سر و دست و دهان
او داده ما را عقل و هوش	او داده ما را آب و نان

آلم نَجعل لَهُ عینین و لساناً و شَفَتین

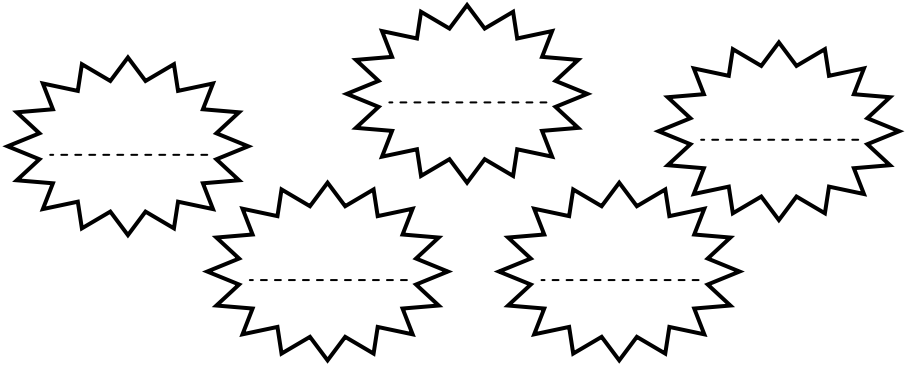
اُذکروا نعمه الله علیکم

۲) به هم وصل کن.

مادران
روز پرستار
روزه
نماز
مصلی
روز آخر ماه رمضان

عید فطر
ماه رمضان
ستون دین
محل خواندن نماز جماعت
بهشت زیر پای اوست
روز تولد حضرت زینب

۳) چند نام حضرت زهرا (س) را در زیر بنویسید.



۴) جاهای خالی را با کلمات مناسب پر کنید.

\* مجموع ای از دعاهاى زیبای امام سجّاد (ع) در کتابی به نام .....  
جمع شده است.

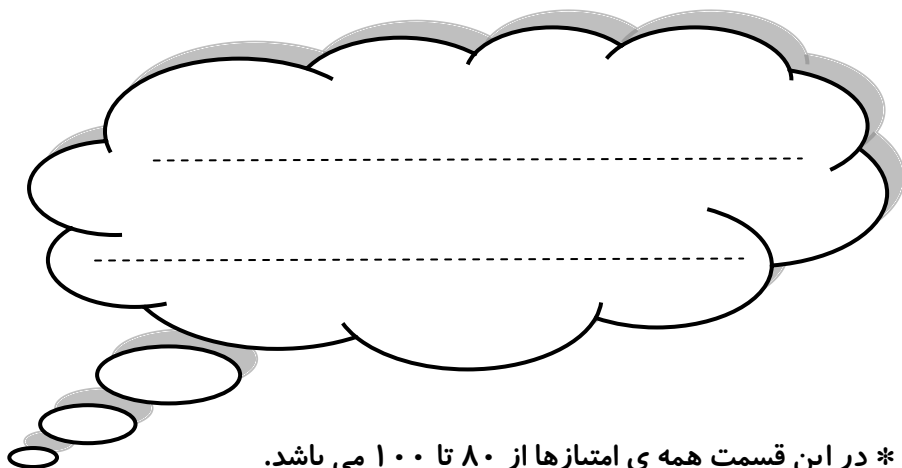
\* قبر امام سجّاد (ع) در شهر ..... و در قبرستان ..... قرار  
دارد.

\* حضرت فاطمه (س) در ..... سالگی مادرش را از دست داد.

\* خدا در قرآن راه و رسم ..... و دستورات و ..... را بیان  
کرده است.

\* نماز ..... دو رکعتی و نماز مغرب ..... رکعتی است.

ولی محترم لطفاً نظر خود را در رابطه با پیک این هفته برایمان بنویسید.



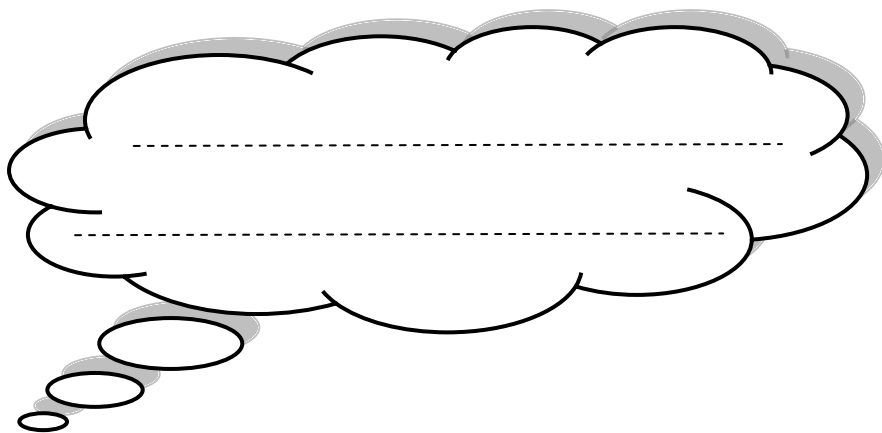
\* در این قسمت همه ی امتیازها از ۸۰ تا ۱۰۰ می باشد.

- نازنینم، به زیبانویسی خود در پیک چه امتیازی می دهی؟

- مهربونم، در حل آن به خودت چه امتیازی می دهی؟

- عزیزدلم، مطالب را به خوبی فراگرفته ای؟

\* نظرت درباره پیک:



# افراد برتر هفته ...

