



پیک آدینه



شماره: هفته سوم بهمن

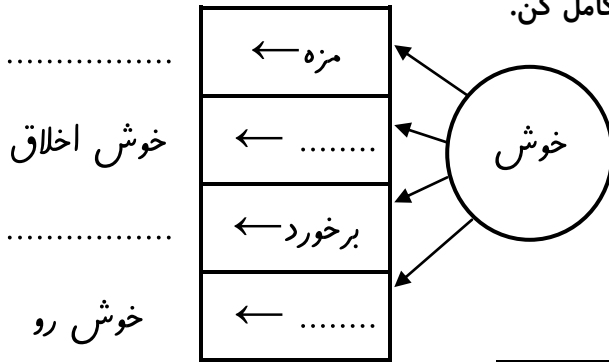
پایه: اول

نام و نام خانوادگی:



دستان و پیش دستان غیردولتی و احترامه صدرا

۱) ترکیب های زیر را کامل کن.

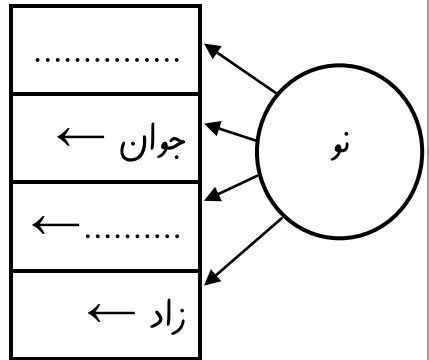


نوروز

.....

نوآوری

.....



۲) مانند نمونه ترکیب های زیر را با کلمه ی مناسب به کمک (— ربط یا ی کمکی) کامل کن.

..... کوه

لانه ی خرگوش

..... ی

روباهِ فریب کار

..... ستاره





..... ماه

۳) با هر کلمه ۲ جمله ی مختلف بساز

.....
.....
ماه

.....
.....
بهداشت

۴) اسم هر تصویر را در جای خالی بنویس و از روی متن یک بار بخوان.

مَن دانش آموزِ دبستانِ  صدرا هستم. مَن می دانم در زمستان  می بارد وقتی از کلاس خارج می شوم باید 
و  پیوشم تا  نشوم و می دانم که
باید مراقب  و 
و  باشم تا برای مَن مشکلی پیش نیاید.

۵) جمله ها را کامل کن.

۱) در روز آسمان را روشن می کند.


۲) جواد خوراکی را می خورد.

۳) در روز بیست و دوم انقلاب اسلامی ایران پیروز شد.

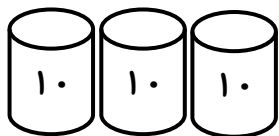
۴) به نور مهتاب می گویند.

۶) متن زیر را چند بار روان خوانی کن و بعد کلمه هایی را که نشانه «هـ ـهـ ـهـ ـه» دارند، در جای خالی بنویس.

خاله زهرا می گوید: همه ساله بسیاری از مردم ایران و جهان برای زیارت آرامگاه امام هشتم به شهر مشهد می آیند و میهمان آقا می شوند. مردم در آن جا برای همدیگر آرزوی سلامتی و خوش بختی می کنند.



۱) عدد مربوط به شکل را بنویس و جای خالی را کامل کن.



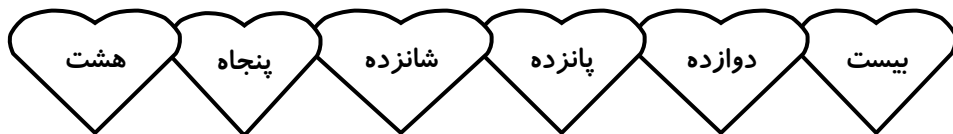
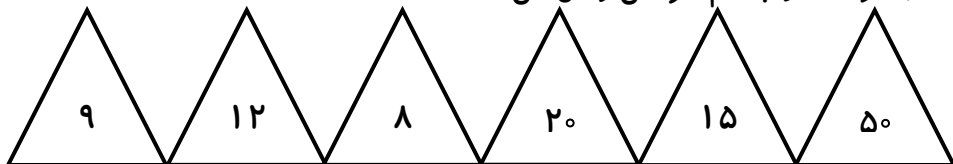
ده تایی	یکی
.....





..... دسته ی ده تایی و یکی

به عدد: به حروف:

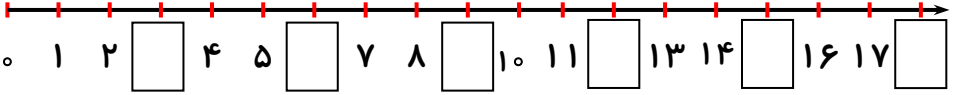
۲) هر عدد را به نام خودش وصل کن.



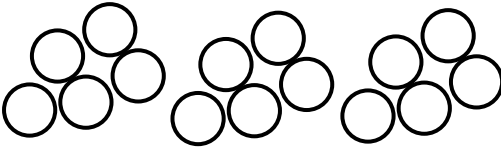
۳) قرینه ی هر کدام را بکش.



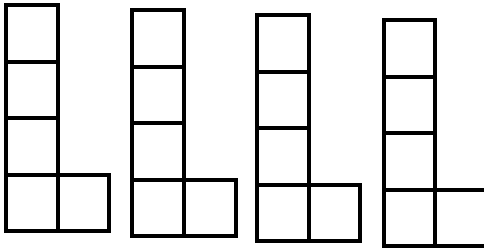
۴) جاهای خالی را با عدد مناسب کامل کن.



۵) با استفاده از دو رنگ مختلف جواب جمع را پیدا کن.

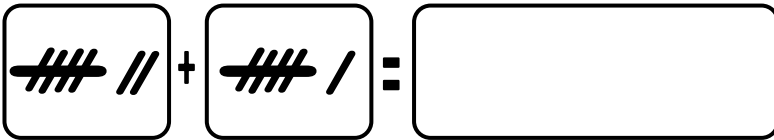


$$۸+۷ = \dots\dots\dots$$

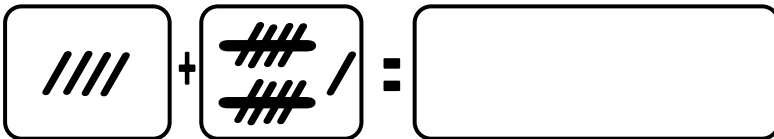


$$۱۳+۵ = \dots\dots\dots$$

۶) حاصل جمع را با چوب خط پیدا کن و عبارت جمع را بنویس.

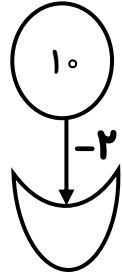
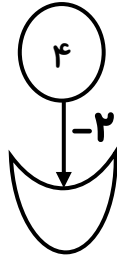
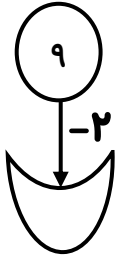


$$\dots\dots\dots + \dots\dots\dots = \dots\dots\dots$$






$$\dots\dots\dots + \dots\dots\dots = \dots\dots\dots$$

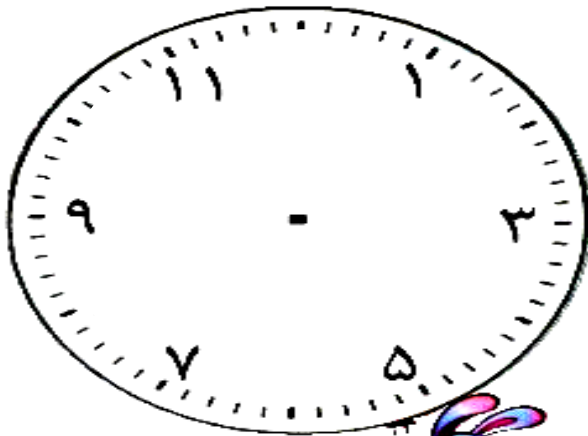
۷) زیر هر عدد ۲ تا کم تر از آن را بنویس.



۸) زیر هر عدد ۲ تا بیش تر از آن را بنویس.



۹) در ساعت زیر عددهای نوشته نشده را بنویس.



۱۰ بلندی هویج بین تا

بلندی پرچم بین تا

The image shows a worksheet for measuring height. On the left, there is a vertical pole with 10 circles stacked on top. To the right of the pole is a rectangular flag with a central emblem and decorative borders. On the right side, there is a vertical stack of 5 circles next to a cartoon carrot with a green leafy top. Dashed horizontal lines indicate the measurement levels for the flag and the carrot.

۱۱ تعداد افراد خانواده ات را بشمار آن را بنویس و بگو زوج است یا فرد؟

.....

.....

۱۲) دختر قشنگم مربع های شگفت انگیز را کامل کن.



نوک	خود		جنگل	روشن	ماه
روشن	ماه	جنگل		خود	مهربان
مهربان	نوک	روشن	ماه		خود
ماه	جنگل	خود	روشن	مهربان	
	مهربان	نوک	خود	ماه	روشن
خود		ماه	مهربان	نوک	جنگل



۱) جمله های زیر را کامل کن.


* خاک در بیش تر وجود دارد.

* از خاک استفاده های می شود.

* در خاک جانورانی مثل و زندگی می کنند.

* رنگ خاک در جاهای مختلف می کند.

۲) کدام خانه از خاک و گل درست شده؟ آن را رنگ بزن.



۳) جلوی هر جمله بنویس که درست است یا نادرست؟

۱) وجود خاک در کشاورزی مهم نیست.

۲) ریشه ی گیاهان در خاک است.


۳) خاک تنها در کوه پیدا می شود.

۴) سنگ از خرد شدن خاک به دست می آید.

۵) گِلِ رُس از خاک آماده می شود.

۶) خاک ریزتر از سنگ است.

ولی محترم لطفاً نظر خود را در رابطه با پیک این هفته برایمان بنویسید.



ارزشیابی آموزگار:

قابل قبول:

خوب:

خیلی خوب:

افراد برتر هفته ...

