

آزمون ریاضی کلاس پنجم - فصل ۶

آموزشگاه : باقر العلوم

نام و نام خانوادگی :

تاریخ : / /

آموزگار :

جاهای خالی را با عبارت مناسب کامل کنید.

۱

الف - ۱ لیتر برابر است با سانتی متر مکعب .

ب- نسبت محیط دایره به قطر آن همواره عددی ثابت است که به آن گفته می شود.

گزینه ی مناسب را با علامت × مشخص کنید.

۲

الف - کدام گزینه از بقیه بزرگ تر است ؟

۲۳۹۰ میلی لیتر

۱/۸۵ لیتر

$2\frac{1}{2}$ لیتر

۲۴۰۰ سانتی متر مکعب

ب- نام دیگر سانتی متر مکعب چه نام دارد ؟

گزینه اول و دوم صحیح است

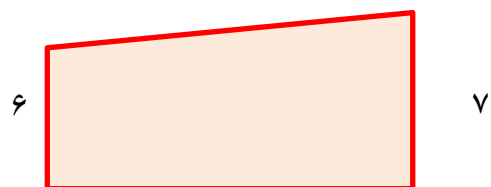
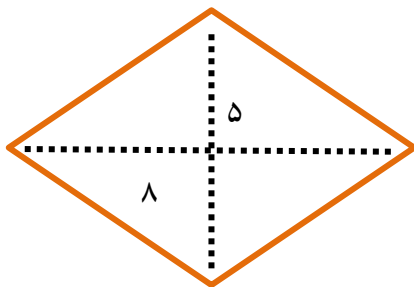
میلی متر

سی سی

میلی لیتر

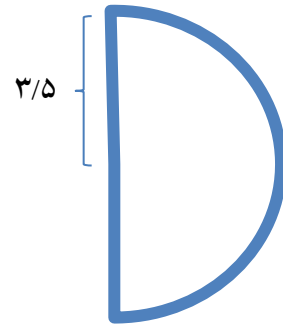
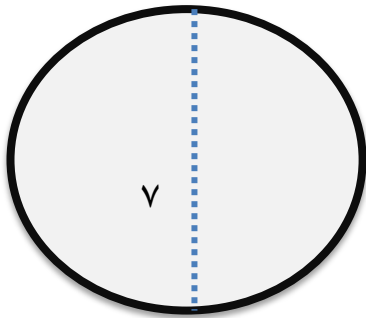
مساحت شکل های زیر را بدست آورید.

۳


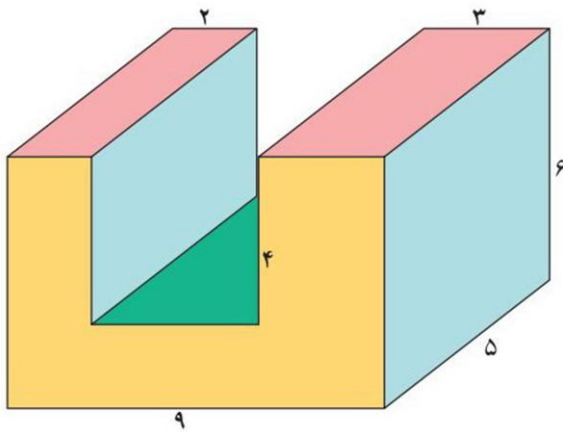


۱۲

۴ محیط شکل های زیر را پیدا کنید.



۵ حجم شکل های زیر را بدست بیاورید.



موفق و سربلند باشید