

۱- به سوالات زیر پاسخ دهید ؟

- ۴۵۰ سی سی چند لیتر است ؟
- ۳۲۸ سی سی چند لیتر است ؟
- هر سانتی متر مکعب چند لیتر است ؟

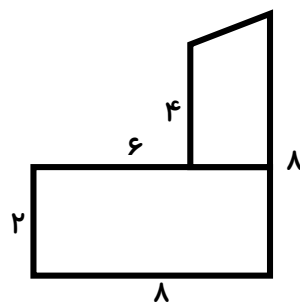
۲- جدول زیر را کامل کنید .

۵۰۰ سانتی متر مکعب	$\frac{1}{4}$ لیتر	۰/۵ لیتر
_____	_____	۰/۲۵ لیتر
_____	$\frac{3}{4}$ لیتر	_____
۲۵۰۰ سانتی متر مکعب	_____	_____
_____	$1\frac{1}{2}$ لیتر	_____

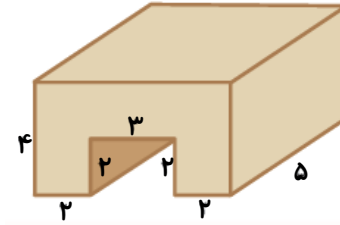
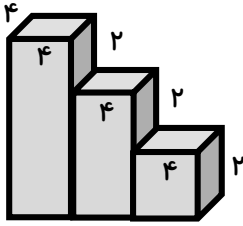
۳- دایره ای دور زمین دایره ای شکلی به قطر ۵۰ متر را سه دور پیموده است . این دایره چند متر طی کرده است ؟

۴- از شیر آبی در هر دقیقه ۲۰۰ سی سی آب وارد منبعی به گنجایش ۸۰۰ لیتر می شود . این منبع بعد از چند دقیقه پر می شود ؟

۵- مساحت شکل زیر را پیدا کنید .



۶- حجم شکل های زیر را حساب کنید .

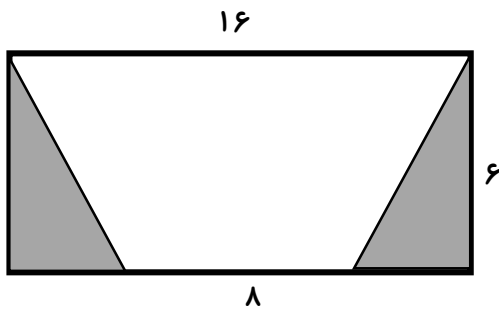


۷- با توجه به شکل ، به سوالات زیر پاسخ دهید .

الف- مساحت قسمت رنگی شکل چقدر است ؟

ج) مساحت قسمت سفید شکل چقدر است ؟

ب- مساحت کل شکل چقدر است ؟



۸- محیط شکل زیر را حساب کنید .

