



پیک آدینه



شماره: هفته دوم بهمن

پایه: اوّل

نام و نام خانوادگی:



دستان و پیش دستان غیر دولتی و تحرانه صدرا

فارسی

۱) ترکیب کن و کلمه بساز.

.....

.....

.....


۲) به هر کلمه «جا» اضافه کن تا کلمه جدید ساخته شود.


.....


.....

.....

۳) بخوان و کامل کن.

* صدای اوّل  مانند صدای اوّل است.

* صدای آخر  مانند صدای آخر است.

* صدای آخر  مانند صدای آخر است.

۴) با سه کلمه زیر جدول شگفت انگیز را کامل کن.

جوجه		
		جوراب
	تاج	

جوجه - تاج - جوراب

۵) کلمه ها را بخوان و در جای مربوط به خود در جدول بنویس.

نَخ - جُمْلَه - خُرُوس - جامدادی - سُرْخ - نارنجی - جُدا - خیار

خ خ	ج ج
-----	-----
-----	-----
-----	-----
-----	-----

۶) به آخر کلمات «خ، ج» اضافه کن تا نام هر تصویر را کامل کنی.



تا.....



شا.....

۵

پن.....

۷) مرتب کن و بنویس.

پنج جفت - روی - جوراب - بند - آست.

.....

شد - آموزگار - لبخند - با - کلاس - وارد

.....

۸) پاسخ های کوتاه بنویس.

الف) نور و گرمای زمین از چیست؟

ب) جوجه با چه وسیله ای دانه می خورد؟

ج) روز اول بهار را چه می گویند؟

۹) متن را بخوان و سپس با دقت به سؤالات زیر جواب بده.

خداوندِ دانا و توانا ما را آفریده است.

اسلام دینِ ما و قرآن کتابِ آسمانی ما است.

رسول اکرم (ص) پیامبرِ مسلمانان است.

* چه کسی ما را آفریده است؟


* پیامبرِ مسلمانان چه کسی است؟

* نام دینِ ما مسلمانان چیست؟

۱۰) مانند نمونه برای هر صدا کلمه بنویس.

و ← ـ استثناء	و	او – و
نوک	ورزش	توت
.....
.....
.....

(۱) یک املا بنویس.



۱) با توجه به عددهای جدول یکی و ده تایی چوب خط بکش و جاهای خالی را کامل کن.

ده تایی	یکی
۱	۲

..... دسته ده تایی و یکی

ده تایی	یکی
۲	۸

..... دسته ده تایی و یکی

۲) عدد ده چند دسته ی ده تایی دارد؟

(ج) ۱۰

(ب) ۱

(الف) ۰

۳) این شکل چند دسته ی ده تایی دارد؟



(الف) ۲ دسته ده تایی

(ب) ۳ دسته ده تایی

(ج) ۵ دسته ده تایی

۴) قبل از عدد ۱۷ چه عددی است؟

- الف) ۱۶ ب) ۱۸ ج) ۱۷

۵) بعد از عدد «۱۴»، چه عددی است؟

- الف) ۱۳ ب) ۱۲ ج) ۱۵

۶) جاهای خالی را کامل کن.

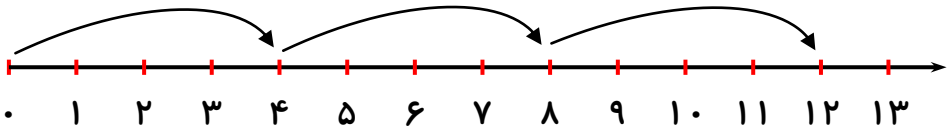
* ۱۸ می شود ده تایی و یکی

* ۱ ده تایی و ۷ یکی می شود

۷) کدام سه عدد به ترتیب پشت سر هم نوشته شده است؟

- الف) ۱۳-۱۲-۱۴ ب) ۱۴-۱۳-۱۲ ج) ۱۲-۱۳-۱۴

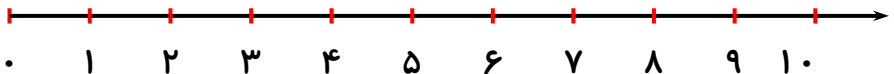
۸) * جمع مربوط به این محور را بنویس.




..... + + =

$$5 + 1 + 2 =$$

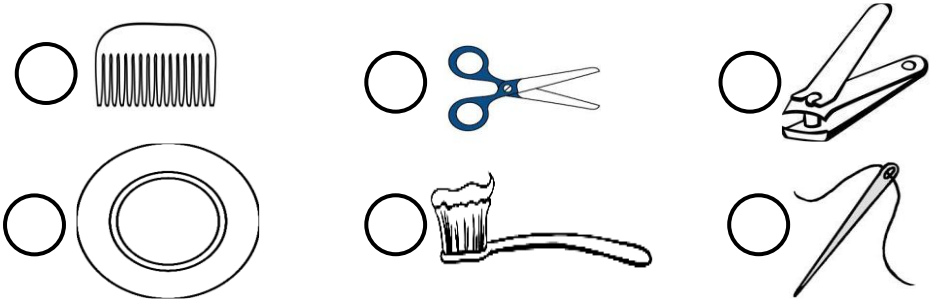
* با کمک محور جواب روبه رو را بنویس.



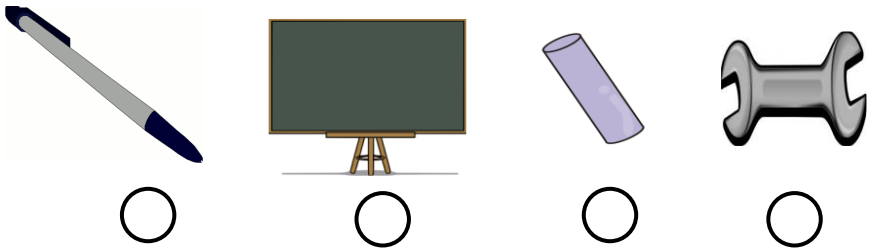
۱) دور ابزارهای پیچیده را قرمز و دور ابزارهای ساده را رنگ سبز بکش.



۲) ابزارهایی که جزء وسایل شخصی هستند را علامت بزن.



۳) کدام یک از موارد زیر ابزار کار معلم نیست؟



۴) برای رفتن به مدرسه چه ابزاری در کیف می گذاری شکل آن را بکش.



۵) اگر بخواهی تابلویی را روی دیوار بزنی و چکش نداشته باشی از چه ابزار

دیگری به جای چکش استفاده می کنی؟

.....


۶) چوب بستنی ابزاری است که بستنی را نگه می دارد وقتی بستنی را خوردی از

چوب آن چه استفاده های دیگری می توانی بکنی؟

.....

.....

ولی محترم لطفاً نظر خود را در رابطه با پیک این هفته برایمان بنویسید.



ارزشیابی آموزگار:

قابل قبول:

خوب:

خیلی خوب:

افراد برتر هفته ...

