



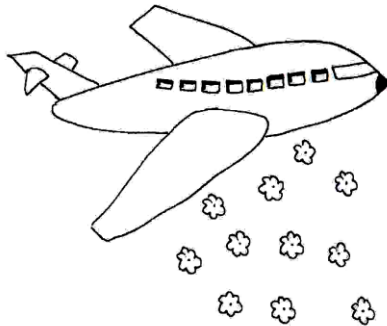
پیک آدینه




شماره: هفته دوم بهمن

پایه: چهارم

نام و نام خانوادگی:



دهه ی فجر مبارک



دستان و پیش دستان غیر دولتی و تحرانه صدرا

۱) برای هر کلمه دو صفت مناسب بنویسید.

مهمان خورشید شهر

۲) برای هر کدام از کلمه های زیر دو هم خانواده بنویسید.

نظر: ، شعار: ، جمع: ،

منظم: ، صبر: ، حضور: ،

۳) قسمت های ضرب المثل ها را به هم وصل کنید و بنویسید.

موش تو سوراخ نمی رفت • برفش بیش تر

سالی که نکوست • شریک مال مردم است

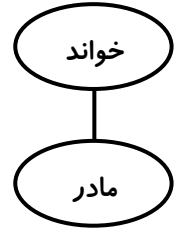
هر که بامش بیش • جارو به دمش می بست

آدم خوش معامله • از بهارش پیداست


۴) مانند نمونه نمودار جمله های زیر را رسم کن.

معلّم پذیرفت - باغچه بان توانست - کودک آموخت

مثال: مادر خواند




۵) املاي درست هر کلمه را بنویس.



اقامت گزیدم:

علاقمند شدند:



خوشنودی خدا:

قطعه زغالی:

۶) جمله های زیر را با کلمه های «چون، اما، ولی، زیرا» کامل کن و بخوان.

* انسان ممکن است چیزهایی را درست نفهمد این برای فعالیت

ذهن زمینه درست می کند.

* حرفه ی بتّایی و قنّادی را یاد گرفتم، هیچ یک از این کارها مرا

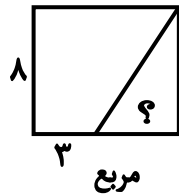
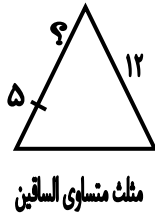
راضی نمی کرد.

* من خوب می دانم تیر از کمان رها شود، همه ی نیروی من از تن

بیرون خواهد رفت.

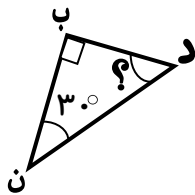
۱) از ساعت ۱۰:۵ تا ۳:۰۶ چند دقیقه فاصله است؟ راه حل خود را توضیح دهید.

- ۲) - برای اندازه گیری زمان های کوتاه از استفاده می کنند.
 - ثانیه یکی از واحدهای اندازه گیری زمان است و از آن برای اندازه گیری زمان های از استفاده می شود.
 - مجموع زاویه های داخلی یک مثلث درجه می باشد.
- ۳) با توجه به اندازه های نوشته شده طول پاره خطی را که با علامت ؟ مشخص شده است، پیدا کنید.

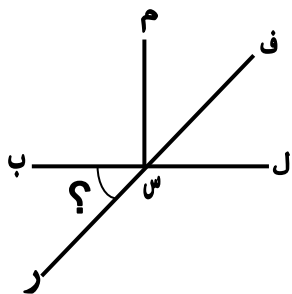


۴) قطار تهران مشهد در ساعت ۶:۳۰ از تهران حرکت کرد و در ساعت ۲:۴۵ بعد از ظهر به مشهد رسید. زمان سفر این قطار چقدر بوده است؟

۵) با توجه به اندازه های داده شده اندازه ی زاویه های خواسته شده را به دست آورید.



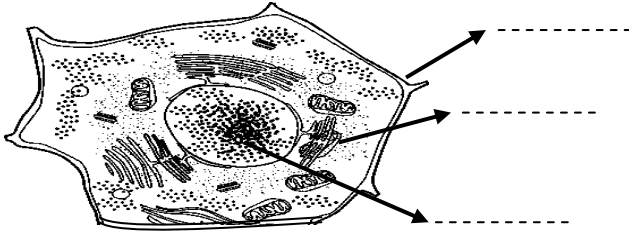
$$(ب د ن) = \boxed{}$$



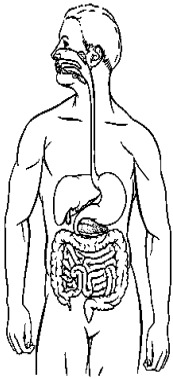
$$(ب س ر) = \boxed{}$$

$$(ف س م) = \boxed{}$$

۱) در شکل زیر یک سلول می بینید. قسمت های مختلف آن را نام گذاری کنید.



۲) مسیر غذایی را که می خورید را مشاهده کنید و نام اندام های مختلفی را که در این مسیر نقشی دارند را در تصویر نشان دهید.



۳) غذا چگونه و در چه بخشی از دستگاه گوارش وارد سلول ها می شود؟

۴) پس از ورود غذا به سلول ها چه اتفاقی می افتد؟

۵) الف) واحد ساختمانی بدن موجود زنده می باشد.

ب) واحد ساختمانی دیوار می باشد.

۱) پاسارگاد در حدود کیلومتر شهر قرار دارد.

۲) کوروش مردی از قوم بود او پس از جنگ با آن ها را شکست داد و حکومت را به وجود آورد و آرامگاه او در شهر قرار دارد.

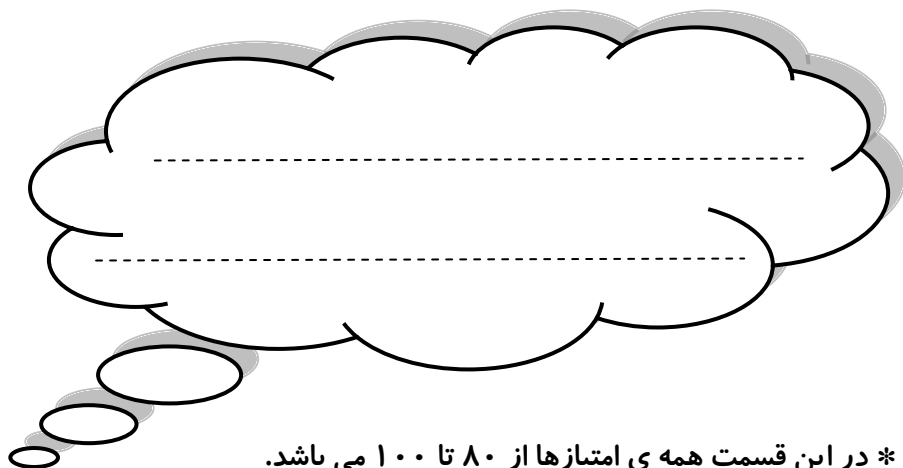
۳) از کارهای مهم داریوش چهار مورد نام ببرید.

۴) مهم ترین و طولانی ترین راه ها در زمان داریوش راه نام داشت و در کنار این راه ها محل هایی به نام ساخته شده بود.

۵) تمدن ایلام در کنار رود و تمدن مصر در کنار رود به وجود آمد.



ولی محترم لطفاً نظر خود را در رابطه با پیک این هفته برایمان بنویسید.



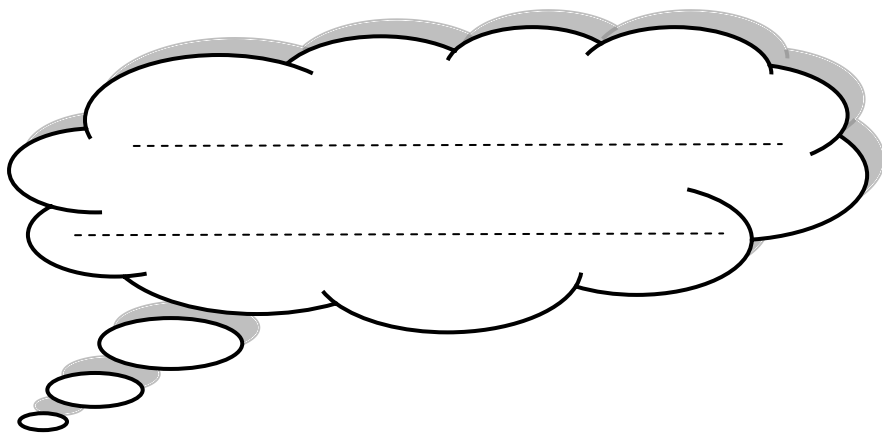
* در این قسمت همه ی امتیازها از ۸۰ تا ۱۰۰ می باشد.

- نازنینم، به زیبانویسی خود در پیک چه امتیازی می دهی؟

- مهربونم، در حل آن به خودت چه امتیازی می دهی؟

- عزیزدلم، مطالب را به خوبی فراگرفته ای؟

* نظرت درباره پیک:



افراد برتر هفته ...

