



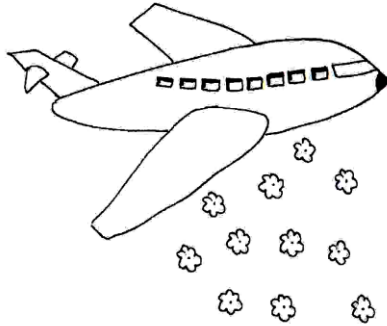
پیک آدینه

شماره: هفته دوم بهمن




پایه: دوم

نام و نام خانوادگی:



دهه ی فجر مبارک



دستان و پیش دستان غیردولتی و تحرانہ صدرا



۵) در کدام جمله ی زیر غلط املائی وجود دارد؟

الف) او برای جمعیت زیادی صحبت کرد.

ب) فردوسی اثر بسیار عظیم در شعر پدید آورد.

ج) مادر و خواهرم برای زیارت به حرم امام رضا (ع) رفتند.

۶) چهار هم خانواده و ۴ مخالف از درس (۹ و ۱۲) بنویسید.

.....  
.....

۷- به کلمه های زیر ((گار)) اضافه کن سپس با هر یک جمله ی زیبا بنویسید.

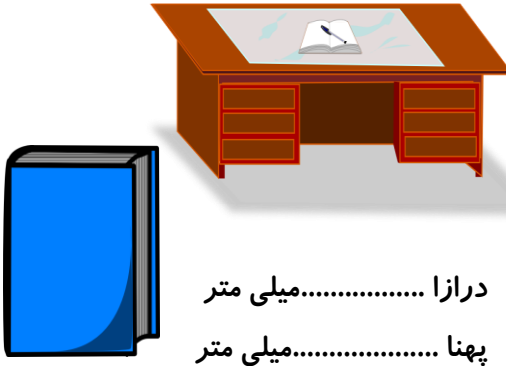
پرورد + ..... : .....

یاد + ..... : .....

۸- نام سه شاعر نامدار ایران به همراه نام کتابشان را بنویسید.

.....  
.....

۱) اندازه ی درازا و پهنا ی هر شکل را حدس بزنید.



درازای ..... میلی متر


پهنا ..... میلی متر

درازای ..... میلی متر

پهنا ..... میلی متر

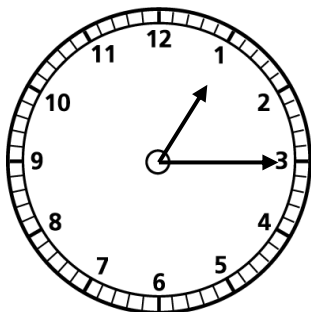
۲) ستایش و آوا برای تزئین کاردستی خود نوار صورتی رنگ که ۹۶ میلی متر بود را انتخاب کردند. ۳۰ میلی متر از این نوار را برای کاردستی بریدند. اکنون چند میلی متر از نوار صورتی باقی مانده است؟ (راه حل و جلونویسی)

۳) اندازه ی مداد بین ..... و ..... سانتی متر است.



۴) با توجه به شکل، عقربه ی بزرگ چند دقیقه باید بچرخد تا روی ضلع دیگر

مثلث قرار بگیرد و در آن لحظه ساعت چند می شود؟



الف) ۵۰ دقیقه - ۵۰:۱

ب) ۴۵ دقیقه - ۵۰:۲

ج) ۵۰ دقیقه - ۵:۲

۵) سارا، عسل و سوین سه چوب در جنگل پیدا کردند. چوب سارا ۳۸

سانتی متر، چوب عسل ۴۲ سانتی متر و چوب سوین ۶۴ سانتی متر است.

- اندازه ی کوتاه ترین چوب ..... سانتی متر و ..... میلی متر است.

۶) ساعت ۲۵:۴ دقیقه است یک ساعت و ربع دیگر ساعت چند است؟

(با کشیدن هر دو ساعت)

۷) سارینا و پریا می خواهند از طنابی که ۶۸ سانتی متر است ۹ سانتی متر کم کنند، چند میلی متر و چند سانتی متر باقی می ماند؟

حالا این دو ..... سانتی متر و ..... میلی متر طناب دارند.

۸) یک شکل که سه گوشه دارد با رنگ آبی، و یک شکل که ۶ ضلع دارد با رنگ قرمز بکشید. (هر شکل چند گوشه و چند ضلع دارد؟)

۹) جای خالی عدد مناسب بگذارید.

$$۷۰۷ - ۹ = \dots\dots$$

$$\dots\dots + ۲۲ = ۷۴$$

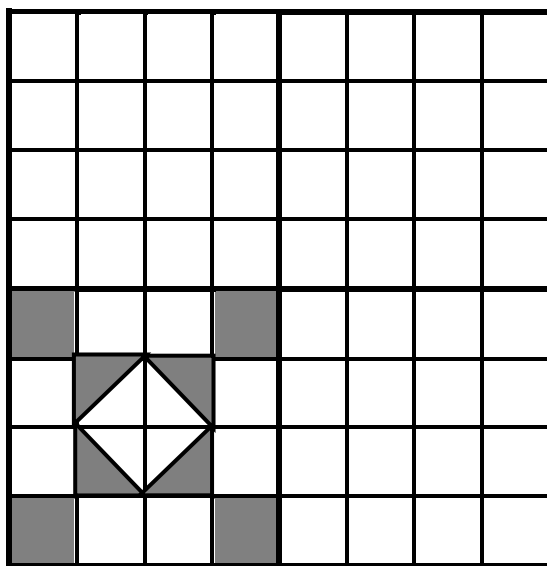

$$۴۳ - \dots\dots = ۲۶$$

$$۹۰۰ - \dots\dots = ۶۰۰$$

$$۲۲۱ + \dots\dots = ۲۳۵$$

$$۱۰۰ + \dots\dots = ۱۸۶$$

۱۰. گلم سه قسمت دیگر هر شکل را با توجه به خط های تقارن کامل کن.



۱) برای هر سوال نام یک میوه را بنویسید.

\* میوه ای که دانه هایش زیاد باشد. .... ، میوه ای که دانه اش سفت باشد. ....

\* میوه ای که دانه اش خوراکی باشد. ....

۲) یک دانه بکش و قسمت های مختلف آن را نام ببرید.

۳) چهار دانه ی روغنی نام ببرید.

.....

۴) دانه ها را چگونه طبقه بندی می کنند؟

الف) رنگ، شکل، اندازه


ب) بو، مزه - خوراکی و غیر خوراکی  ج) هر دو مورد

۵) کدام یک از جانوران غذایشان میوه است و میوه ها را جابه جا می کنند؟

الف) عنکبوت  ب) خفاش  ج) سنجاب



# جدول



(۱) نام میوه ای خوشمزه و چند دانه

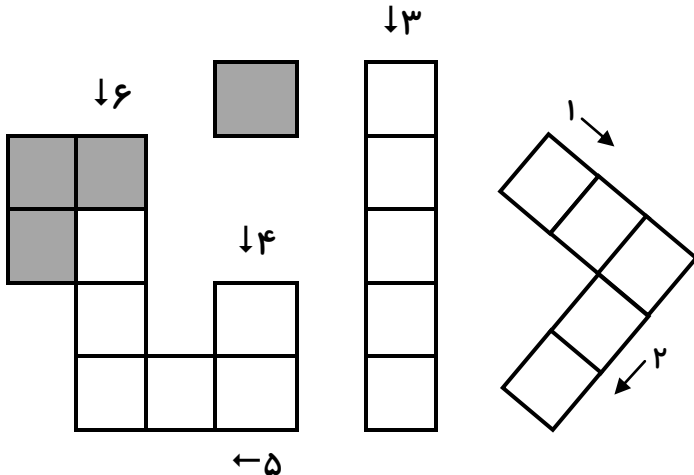
(۲) قسمتی از گیاه

(۳) از اندوخته ی دانه استفاده می کند تا رشد کند.

(۴) نام یک میوه

(۵) میوه ای تک دانه که دانه ی آن خوراکی نیست.

(۶) میوه ای که هم ترش است و هم شیرین.



۱) نام شاعرو شعر این بیت را بنویسید.

می دهد او مهربانی»

«می برد او غصّه ها را

.....

۲) حضرت علی (ع) بعد از نگاه کردن به جمعیت به امام حسین (ع) چه

گفتند؟

.....

۳) امام حسین (ع) چه دعای می کردند؟

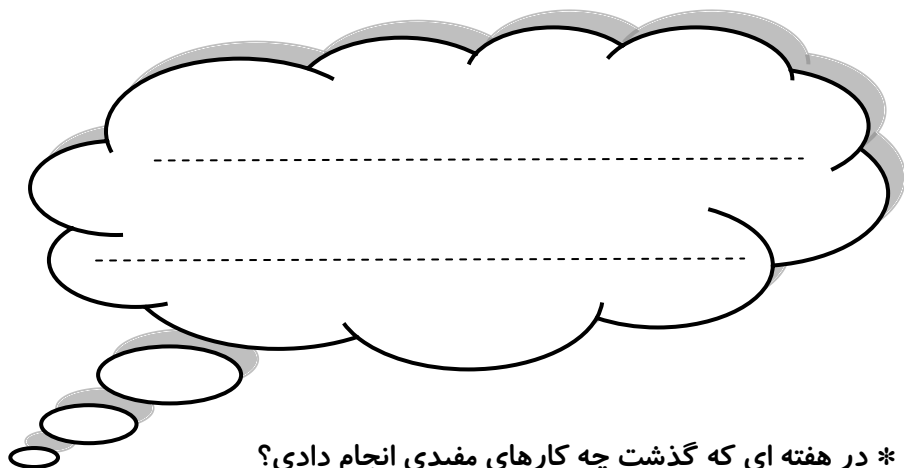
.....

۴- نام پدر و مادر امام حسین (ع) و روز شهادت ایشان را بنویسید.

.....



ولی محترم لطفاً نظر خود را در رابطه با پیک این هفته برایمان بنویسید.



\* در این هفته چگونه به خانواده ی خودکمک کردی؟

\* چگونه متوجه اشتباه کارهایت در کلاس شدی؟



# افراد برتر هفته ...

