



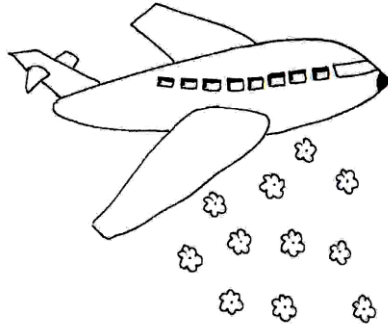
پیک آدینه




شماره: هفته دوم بهمن

پایه: پنجم

نام و نام خانوادگی:



دهه ی فجر مبارک



دستان و پیش دستان غیر دولتی و تحرانه صدرا

۱) چند واژه ساده و غیرساده بنویسید.

۲) معنی واژه های زیر را بنویسید.

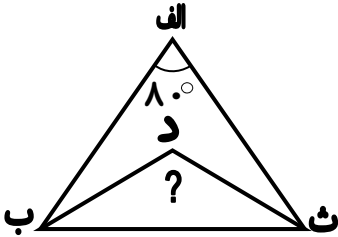
خوش نویس:

پاک نویس:

۳) سه بیت به دلخواه از غزل های حافظ را با خط زیبا بنویسید.

A large decorative frame with a wavy top and bottom edge, containing three horizontal dotted lines for writing.

۱) مثلث (الف، ب، ث) متساوی الساقین است و پاره خط های (ث د) و (ب د) نیمساز زاویه های (ث) و (ب) هستند اندازه زاویه (ث د ب) را بیابید.



۲) به سؤالات زیر پاسخ دهید.

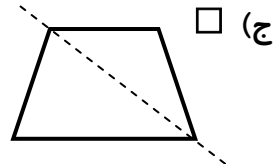
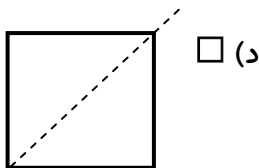
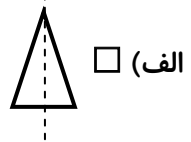
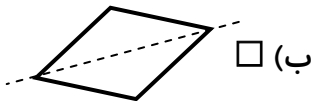
\* زاویه ی نیم صفحه چند درجه است؟  $\frac{۴}{۶}$

- الف)  $۱۲۰^\circ$    
  ب)  $۵۰^\circ$    
  ج)  $۴۵^\circ$    
  د)  $۱۴۵^\circ$

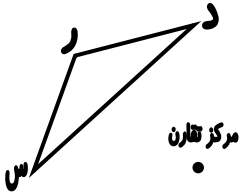
\* خمس زاویه قائمه چند درجه است؟

- الف)  $۴۵^\circ$    
  ب)  $۲۰^\circ$    
  ج)  $۱۸۰^\circ$    
  د)  $۲۵^\circ$

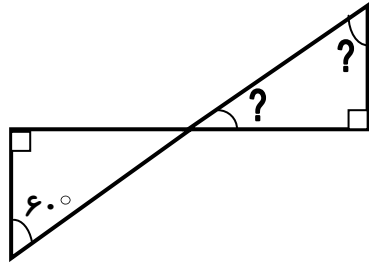
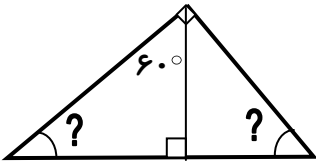
\* در کدام یک از شکل های زیر، خط چین خط تقارن است؟



۳) شکل زیر را دوران دهید.



۴) اندازه های خواسته را بیابید.



۵) جمعیت یک روستا در سال قبل ۱۷۰۰ نفر بود. اگر جمعیت در سال جاری

۱۸۷۰ نفر شده باشد چند درصد به آن اضافه شده است؟

\* ویژه دانش آموزان علاقه مند به ریاضی

(۱) حاصل عبارت  $\frac{۲۰۰۳+۲۰۰۳+۲۰۰۳+۲۰۰۳+۲۰۰۳}{۲۰۰۳+۲۰۰۳}$  برابر است با:

(ب)  $\frac{۲}{۳}$

(الف) ۲۰۰۳

(د)  $\frac{۵}{۲}$

(ج) ۳

(۲) حاصل عبارت زیر در کدام گزینه آمده است؟

$$\left( \frac{۱۷ \times ۲۹ \times ۱۹۵}{۵۱ \times ۸۷ \times ۵۷} \right) \times ۲۷ =$$

(الف) ۱

(ب) ۳

(ج) ۸

(د)  $\frac{۱}{۷}$

۱) شغل هایی را نام ببرید که با حس های زیر سرو کار داشته و حساس اند؟

\* شنوایی:

\* بویایی:

\* چشایی:

۲) پوست چه وظایفی را بر عهده دارد؟

۳) کلمات مناسب را انتخاب و جملات را کامل کنید.

چربی - مزه - پایین - بینایی - بالایی - پوست - شنوایی

- اندام حس لامسه ..... است.

- برای هر ..... ، یک گیرنده ی حسی شخصی در زبان وجود دارد.

- لایه ی زیرین پوست را، سلول های ..... تشکیل می دهند.

- حس ..... ، برای ارتباط با محیط نیاز به تماس ندارد.

۴) چگونه از گوش خود مراقبت می کنید؟

۱) یک حدیث زیبا به دلخواه از امام علی (ع) پیدا کنید و بنویسید.

.....

.....

.....

۲) یک تصویر زیبا درباره ی تولّد امام زمان (ع) نقاشی کنید.



۱) کامل کنید.

\* رود آمودریا به دریاچه ی ..... می ریزد.

\* صحرای بزرگ کشور ترکمنستان ..... نام دارد.

\* پایتخت کشور ترکمنستان ..... است.

۲) صحیح یا غلط بودن جمله های زیر را مشخص کنید.

- کم وسعت ترین کشور همسایه ایران، پاکستان است. ( )


- کشور افغانستان در شرق ایران است. ( )

- قوه ی قضاییه بر اجرای درست قوانین نظارت می کند. ( )

۳) مردم ترکمنستان به کدام ورزش علاقه ی زیادی دارند؟ چرا؟


۴) صنایع مصرفی چه کالاهایی تولید می کنند؟

۵) روز و شب چگونه به وجود می آید؟





ولی محترم لطفاً نظر خود را در رابطه با پیک این هفته برایمان بنویسید.



A large thought bubble with a dashed line for writing. It has three smaller circles leading to it from the bottom left.

خودارزیابی:


دختر گلم به نظر خودت این پیک را چگونه انجام دادی؟

خوب

خیلی خوب

من این پیک را در مدّت ----- انجام دادم.

نظر من:



A large thought bubble with a dashed line for writing. It has three smaller circles leading to it from the bottom left.

# افراد برتر هفته ...

