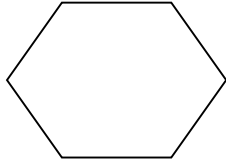


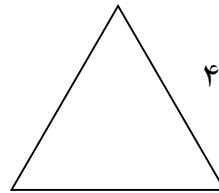
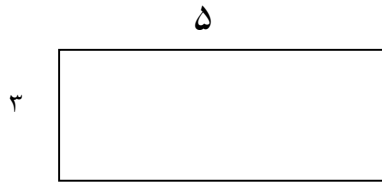


۱- پسرم شکل مقابل را نام گذاری کن و سپس بنویس از چند پاره خط تشکیل شده است؟

تعداد پاره خط:



۲- محیط شکل های زیر را بدست آورید.



۳- مادر حسین می خواهد دور یک رومیزی را نوار بدوزد. این رومیزی به شکل مربع است. اگر هر ضلع این مربع ۵ متر باشد، مادر حسین چقدر نوار باید به دور این رومیزی بدوزد؟

۴- جاهای خالی را کامل کن.

الف: مثلی که دو ضلع مساوی داشته باشد نام دارد.

ب: مساحت مستطیل برابر است با

ج: به اندازه ی دور هر شکل می گویند.

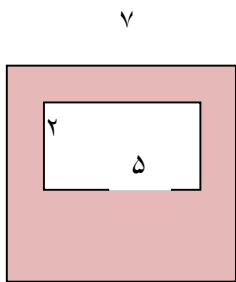
د: مساحت مربع برابر است با

۵ - جمع و تفریق زیر را از راه مرحله ای انجام بده .

$$\begin{array}{r} + 3546 \\ \hline \end{array} \quad \begin{array}{r} - 6489 \\ \hline \end{array}$$
$$\begin{array}{r} 2321 \\ \hline \end{array} \quad \begin{array}{r} 2358 \\ \hline \end{array}$$

۶ - علی ، داخل کیفش ۲ اسکناس ۵۰۰ تومانی ، یک اسکناس ۱۰۰۰ تومانی و ۳ اسکناس ۲۰۰ تومانی دارد. علی چه قدر پول دارد ؟

۷ - مساحت قسمت رنگی را حساب کن .



۸ - محیط یک مثلث متساوی الاضلاع ۲۷ سانتی متر است . هر ضلع این مثلث چند سانتی متر است ؟

۹ - مساحت یک مستطیل ۲۰ سانتی متر مربع است . اگر عرض این مستطیل ۴ باشد ، طول آن چندانست ؟

۱۰ - برای مقایسه ی دو عدد رقیمی ، چه باید کرد ؟

