



۱. برای شکل زیر یک ضرب بنویسید.



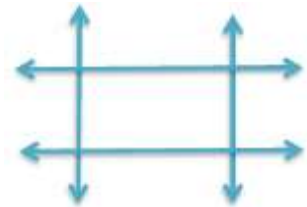
$$(\dots \times ۶) + (\dots \times ۶) = \dots \times \dots = \dots$$

۲. دامداری ۵ عدد گاو دارد اگر هر گاو روزی ۶ کیلو شیر بدهد.

الف) او هر روز چقدر شیر می دوشد؟

ب) او هر هفته چقدر شیر می دوشد؟

۳. در این شکل هر چند تا خط که می شناسی پیدا کن و نام گذاری کن.



۴. پسر هر قطر هر شکل را بکش و جدول را کامل کنید.

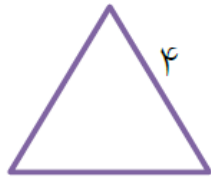
			شکل
			نام شکل
			تعداد گوشه
			تعداد قطر





آدینه‌ی هفته اول بهمن

۵. محیط این شکل‌ها را به دست آورید.



فارسی

۱. معنای کلماتی که زیر آن‌ها خط کشیده شده است را بنویسید.

مناظر چشم نواز


تنگ ماهی

نغمه‌ی پرندگان

۲. روی گلبیگ‌ها مانند نمونه کلمه‌ی مناسب بنویسید و با آن‌ها جمله بسازید.

دل نشین: آواز دل نشین پرنده‌ها به گوش می‌رسد.

.....
.....
.....
.....



۳. این جمله‌ها را مرتب کن.

برادر - گرفتند - یاد - بگیرند - تازه‌ای - دو - تصمیم - چیزهایی

کتاب‌ها - هستند - مفید - برخی - از

پاکی‌ها - سرزمین - دلیری‌ها - و - تو - هستی - ای ایران.

را - بیاموز - راز - ای - خوشبختی - و - حکیم - پیروزی - به - من

۴. دور کلمه‌هایی که زمان آینده را نشان می‌دهند خط بکش.



آدینه‌ی هفته اول بهمن

می خورم - خواهم می نویسم - نوشتم - خواهم نوشت - خواهی شنید.

۵. با کلمه های زیر جمله بسازید.

امرا :

برزگر :

فداکار :

آلودگی صوتی :

علوم.

۱. به چه طریق از آب های زیر زمینی می توان استفاده کرد؟

الف : بستن سد ب: کندن چاه ج: ساختن استخر د: ایجاد غار

۲. آب های زیر زمینی چگونه تشکیل می شوند؟

.....

۳. رود ها چگونه به وجود می آیند؟

.....

۴. آینه فرو رفته و برآمده را تعریف کنید.

.....