



۱. با توجه به عدد سمت چپ، شکل‌ها را دسته بندی کن و در جاهای خالی عدد مناسب بنویس.

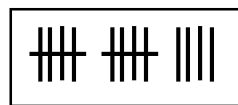
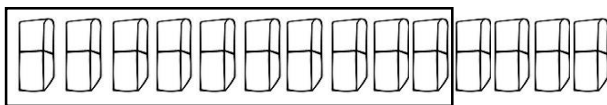
..... دسته ی پنج تایی و ..... یکی

..... دسته ی هفت تایی و ..... یکی


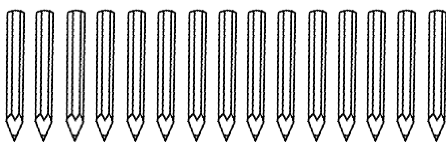
..... دسته ی هشت تایی و ..... یکی

۲. مانند نمونه با کشیدن خط، دسته های ده تایی درست کن. با چوب خط، بشمار و در


جدول، عدد مناسب بنویس.



یکی	ده تایی

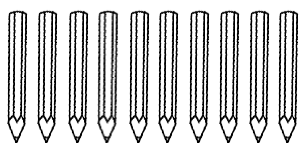


یکی	ده تایی



یکی	ده تایی

۳. در جاهای خالی عدد بنویس.



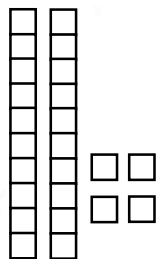
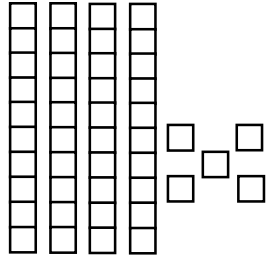
یکی	ده تایی



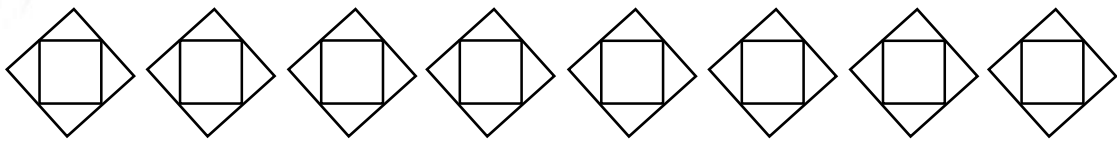
یکی	ده تایی



۴. تعداد دسته های ده تایی و یکی ها را بشمار و در جدول بنویس.

	<table border="1"> <tr> <td>یکی</td> <td>ده تایی</td> </tr> <tr> <td></td> <td></td> </tr> </table>	یکی	ده تایی		
یکی	ده تایی				
	<table border="1"> <tr> <td>یکی</td> <td>ده تایی</td> </tr> <tr> <td></td> <td></td> </tr> </table>	یکی	ده تایی		
یکی	ده تایی				

۵. شکل ها را با الگوی مشخص رنگ کن.




فارسی

۱. هر تصویر چند بخش دارد؟ اسم هر کدام را در جای خالی بنویس.



چهاربخشی	سه بخشی	دو بخشی	یک بخشی



۲. جمله ها را کامل کن.

ریشه ی درخت ، .....  
 اگر فردا برف بیارد، .....  
 من در دفترم، .....



۳. در جاهای خالی بخش دوم را بنویس تا نام یک رنگ به دست بیاید.

..... = ..... + ک	..... = ..... + س	..... = ..... + ب
-------------------	-------------------	-------------------

۴. مخالف کلمه ها را بنویس.

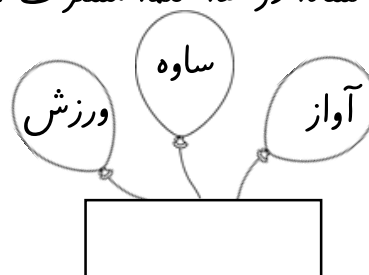

..... ≠ خنده	..... ≠ زشت
..... ≠ خیس	..... ≠ سخت

۵. برای هر تصویر دو کلمه با " - " ربط ، " ی " میانجی بنویس.




.....  
 .....



۶. کدام نشانه در سه کلمه مشترک است؟



۱. آب در انجام چه کارهایی به ما کمک می‌کند؟ آن را نقاشی کن. ( ۳ نمونه)



۲. سنگ‌ها از کجا به دست می‌آیند؟



۳. انواع سنگ را نقاشی کن.



۴. برای ساختن میز و نیمکت چه چیزهایی لازم است؟ تصویر آن را بکش و با فکر خلاق خود چند وسیله دیگر اختراع کرده و به آن‌ها اضافه کن.