




پیک آدینه



شماره: هفته اول بهمن

پایه: ششم

نام و نام خانوادگی:



دستان و پیش دستان غیر دولتی و احترام صدر

۱) نقش واژه های زیر را مشخص کنید.

«پدر مهر ببرید و بفکنند خوار      جفا کرد بر کودک شیر خوار»

۲) درباره ی «دهخدا» به اختصار توضیح دهید.

.....

.....

.....

.....

۳) درباره ی ضرب المثل «کار نیکو کردن از پر کردن است» توضیح دهید.

.....

.....

.....

الف) به سوالات زیر پاسخ دهید.

۱) عدد  $۱۴۶/۵۷$  را با تقریب کم تر از  $۱۰$  قطع می کنیم عدد برابر است با:

.....

۲) عدد  $۵۷/۶۷$  را با تقریب کم تر از  $۰/۱$  برابر است با: .....

۳) گرد شده کسر  $\frac{۸}{۹}$  با تقریب کم تر از  $۱$  برابر است با: .....

۴) مقدار عبارت روبه رو برابر است با:  $\left(۴/۲۵ + ۲\frac{۳}{۴}\right) \times ۳\frac{۲}{۸} =$

۵) مقدار تقریبی عبارت زیر با یک تقریب مناسب، برابر است با .....

$$۴/۹۵ \times ۱/۰۱ \times ۲/۹ =$$

۶) حاصل عبارت زیر برابر است با .....

$$\left(\frac{3}{1} + \left(\frac{4}{2} - \left(\frac{3}{8} - \frac{2}{9}\right)\right)\right) \times \frac{2}{1} =$$

۷) در عبارت روبه رو، اعداد را با تقریب ۰/۱ گرد کرده و سپس حاصل را بیابید.

$$13/65 + 1/87 - 2/38 =$$

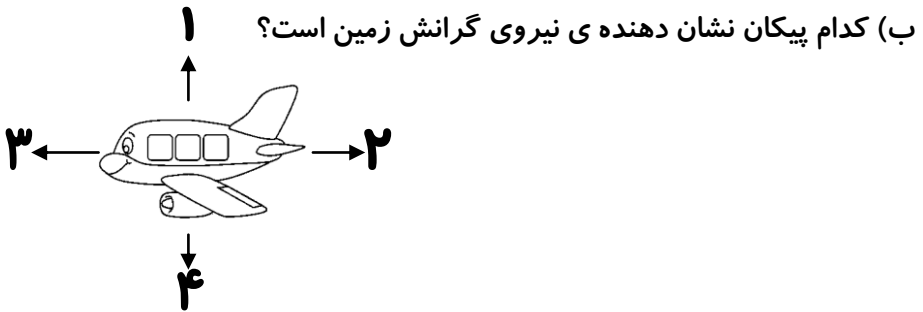
۸) اختلاف قطع شده و گرد شده ی عدد داده شده با تقریب کم تر از ۰/۱ برابر

$$425/75$$

است با .....

۱) چهار پیکان در شکل، نشان دهنده ی چهار نیرویی است که بر هواپیما اثر می کنند.

الف) کدام پیکان نشان دهنده ی نیروی مقاومت هوا است؟



پ) هنگامی که هواپیما در یک ارتفاع ثابت حرکت می کند، کدام نیرو اثر هم را خنثی می کنند؟

۲) در جدول زیر برای هر نوع نیرو یک مثال بنویسید و جدول را کامل کنید.

نوع نیرو	مثال
الکتریکی	
مغناطیسی	
مقاومت هوا	

۳) کدام عبارت درست است؟

الف) هیچ نیرویی بر کودکی که در گهواره خوابیده وارد نمی شود.

ب) نیرو اثر متقابل دو جسم است.

ج) نیرو بر اتومبیل در حال حرکت وارد می شود ولی بر اتومبیل ساکن وارد نمی شود.

د) نیرو همیشه به صورت هل دادن اثر می کند.

۴) دانش آموزی روی دیوار نشسته است. آیا نیرویی بر بدن او وارد می شود؟ توضیح دهید.



## هدیه های آسمان

۱) ولی فقیه جانشین ..... در حکومت اسلامی می باشد.

۲) غیبت صغری امام زمان (ع) را توضیح دهید.

.....

.....

## مطالعات اجتماعی

۱) جمله را کامل کنید.

..... اوقات فراغت زمانی است که .....  
.....

۲) پویا و مریم در تعطیلات تابستان می خواهند از اوقات فراغت خود به خوبی استفاده کنند. شما پنج فعالیت به آن ها پیشنهاد کنید که مفید و جذاب باشند.


۳) برنامه ی زندگی متعادل چه نوع برنامه ای است؟ توضیح دهید.

۴) چگونه صفویان توانستند حکومت قدرتمند و یکپارچه ای به وجود آورند؟

توضیح دهید.


۵) نامه دو پُل تاریخی را که بر روی رودخانه ی زاینده رود ساخته شده و

گردشگران از آن بازدید می کنند، بنویسید.





ولی محترم لطفاً نظر خود را در رابطه با پیک این هفته برایمان بنویسید.



خودارزیابی:


دختر گلم به نظر خودت این پیک را چگونه انجام دادی؟

خوب

خیلی خوب

من این پیک را در مدت ----- انجام دادم.

نظر من:



# افراد برتر هفته ...

