



پیک آدینه



شماره: هفته اول بهمن

پایه: پنجم

نام و نام خانوادگی:



دستان و پیش دستان غیر دولتی و تحران صدر ۱

۱) کلمه های سخت از حکایت «بوعلی و بانگ گاو» را بنویسید.

.....

.....

.....

۲) چرا زال کودک را به کوه البرز برد؟

۳) در مورد واژه ی سیمرغ توضیح دهید. به نظر شما چه تصویری برای سیمرغ


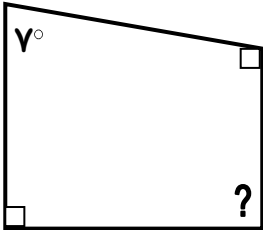
می توان طرح کرد؟

.....

.....

.....

۱) در شکل زیر اندازه زاویه های خواسته شده را بیابید.




۲) الف) مجموع زوایای داخلی مثلث ..... است.

ب) مجموع زوایای داخلی چهارضلی و پنج ضلعی را بیابید.

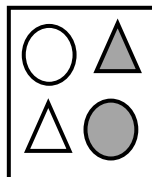
ج) آیا می توانی رابطه ای بین اضلاع و مجموع زوایای داخلی مثلث بیابی؟

۳) مرکز تقارن هر یک از شکل های زیر را بیابید.

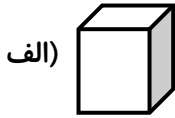
الف)



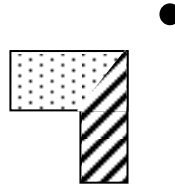
ب)



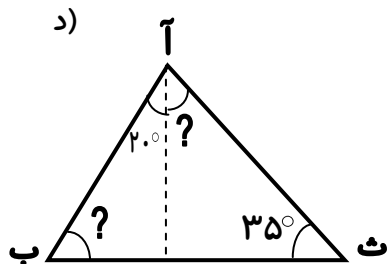
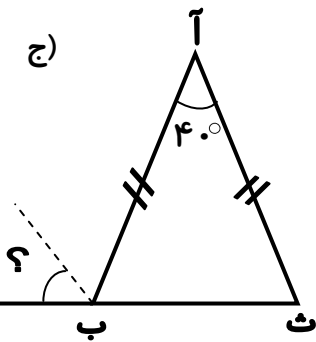
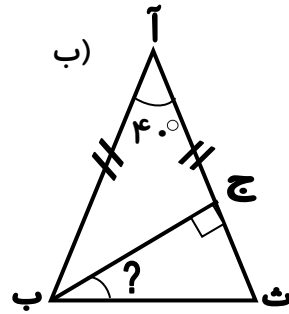
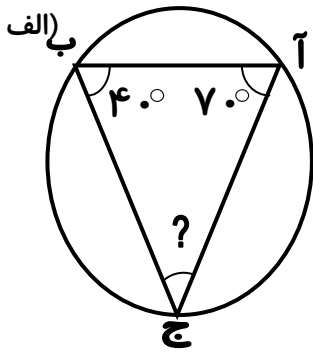
۴) شکل های زیر را نسبت به مرکز تقارن داده شده رسم کنید.



ب)



۵) در شکل های زیر اندازه زاویه های مجهول را بیابید.

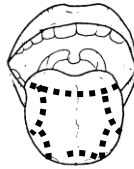


۱) متن زیر را بخوانید و به سؤال مربوط به آن پاسخ دهید.

چهار مزه ی اصلی عبارتند از: شیرینی، شوری، ترشی و تلخی

مزه ی بیش تر غذا نیز مخلوطی از این چهار مزه اند. تعداد گیرنده های مزه شیرینی در نوک زبان و مزه ی شوری در کناره های جلوی زبان و مزه ی ترشی در کناره های عقب زبان و مزه ی تلخی در عقب زبان بیش تر از سایر قسمت ها است.

با توجه به متن، بیش ترین گیرنده های مزه ی مربوط به هر کدام از خوردنی های زیر در کدام قسمت زبان قرار دارد؟ با خط آن ها را به محل مورد نظر وصل کنید.



۲) ستون مهره ها را در پشت خود لمس کنید و تعریف مناسبی از آن را بنویسید.

۳) مریم طعم گیللاس را خیلی دوست دارد. او می خواهد بداند چه اتفاقاتی باعث می شود او بتواند مزه ی گیللاس را حس کند و از آن لذت ببرد. حدس بزنید چه مراحل اتفاق می افتد. آن ها را به ترتیب بنویسید.

۱) له کردن و جویدن گیللاس در دهان ..... (۲)

۳) ..... (۴)

۴) سه وظیفه برای مغز بنویسید.

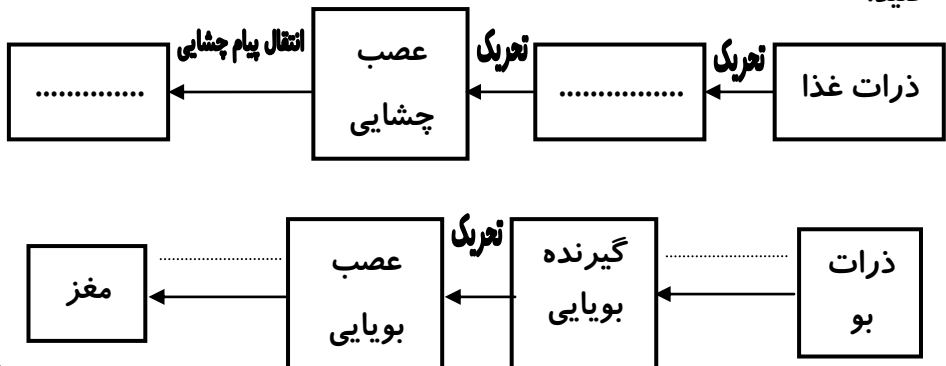
۵) کامل کنید.

\* زبان، اندام حس ..... است.

\* محل قرار گرفتن گیرنده های بو در قسمت ..... (بالایی-پایینی) بینی می باشد.

۶) بوی مواد گوناگون را چگونه احساس می کنیم؟

۷) بخش های مشخص شده در مدل های حس چشایی و بویایی زیر را کامل کنید.



## هدیه های آسمان


۱) به دلخواه یک حدیث از پیامبر اکرم (ص) بنویسید.

.....

.....

.....

۲) امام حسن عسگری (ع) هنگام تولد امام زمان (عج) به خواهر خود چه فرمودند؟



۱) همسایگان غربی و شرقی کشورمان را نام ببرید.

۲) جمهوری اسلامی پاکستان در ..... کشورمان واقع شده است.

۳) چرا بندر کراچی اهمیت زیادی دارد؟



۴) چرا قالی بافی از صنایع دستی عمده ی کشور ترکمنستان است؟

۵) چرا ماهیگیری در ارمنستان رونق ندارد؟


۶) صادرات و واردات را تعریف کنید.

۷) همسایه ی غربی ارمنستان چه نام دارد؟

۸) ارمنستان امکان استفاده از کدام یک از راه های حمل و نقل را ندارد؟



ولی محترم لطفاً نظر خود را در رابطه با پیک این هفته برایمان بنویسید.



خودارزیابی:


دختر گلم به نظر خودت این پیک را چگونه انجام دادی؟

خوب

خیلی خوب

من این پیک را در مدت ----- انجام دادم.

نظر من:



# افراد برتر هفته ...

