



پیک آدینه



شماره: هفته اول بهمن

پایه: چهارم

نام و نام خانوادگی:



دستان و پیش دستان غیر دولتی و تحران صدر ۱

۱) نازنینم، به هر کلمه «بان» اضافه کن و معنای آن را بنویس. (مانند نمونه)

الف) مرز+بان ← مرزبان یعنی کسی که از مرز محافظت می کند.

ب) جنگل + ←

ج) دروازه + ←

۲) قشنگم با هر فعل یک جمله بساز.

الف) نبود:

ب) ترسیده بود:

ج) فرستادم:

د) چیده است:

۳) دوست مهربانم، هر کدام را با یک فعل مناسب کامل کن.

الف) او در صف (ب) هر چه منتظر ماندم او

ج) تفاوت خورشید و ماه

د) امروز آسمان ابری

۴) گلم چند جمله می بینی؟

که سرمایه ی جاودانی است کار

برو کار می کن مگو چیست کار

(ب) ۳ جمله

(الف) ۲ جمله

(د) ۵ جمله

(ج) ۴ جمله

۵) فرزندانم، کدام فعل در گذشته صورت گرفته است؟

(ب) خواهد رفت

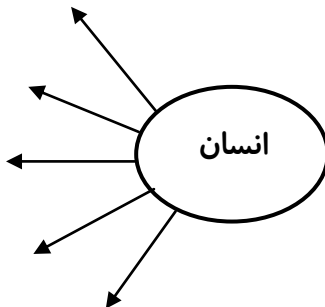
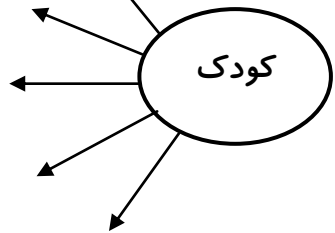
(الف) شکست خورد

(د) می خورم

(ج) می روم

۶) دوستم باوفایم، شاعر شعر همای رحمت کیست؟

۷) نازنینم، کامل کن.
باهوش



۸) مهربانم، به ترتیب شماره گذاری کن.

من هر چه قدر هم که تو بخواهی فرصت می دهم.

می توانی پنج هزار تومان به من قرض بدهی؟

سیاوش به دوستش گفت:

و شصت روز هم برای پرداخت او به من فرصت بدهی.

سیامک هم به او گفت:

اما پولی ندارم که به تو بدهم.

ریاضی

۱) مجموع پول های سه نفر ۳۵۰۰ تومان است. پول اولی ۱۴۰۰ تومان است و

دومی ۱۵۰ تومان بیش تر از اولی پول دارد. نفر سوم چند تومان پول دارد؟

۲۴۹×۱۲۰

۲) گلم در جدول ارزش مکانی ضرب کن.

هزارها			یکی ها		
ص	د	ی	ص	د	ی

۳) دلبندم، در بین اعداد زیر کدامیک بر ۲ بخش پذیر است؟

الف) ۲۲۱ ب) ۱۱۱۶ ج) ۴۴۸ د) ۲۶

۴) زمین در مسیر خود به دور خورشید در هر ثانیه ۳۰ کیلومتر طی می کند. در

۴۵ ثانیه زمین چند کیلومتر طی می کند؟

۵) عزیزم در جای خالی عدد مناسب بنویس.

..... و ۳۲ و ۲۰ و ۱۱ و ۵ و ۲

۶) قشنگم، حاصل ضرب های زیر را به دست آور.

$$\begin{array}{r} 110 \\ \times 404 \\ \hline \end{array}$$

$$\begin{array}{r} 204 \\ \times 505 \\ \hline \end{array}$$

$$\begin{array}{r} 777 \\ \times 200 \\ \hline \end{array}$$

$$\begin{array}{r} 101 \\ \times 105 \\ \hline \end{array}$$

۷) سرعت اتومبیلی ۱۰۰ کیلومتر در ساعت است. این اتومبیل در مدت ۴ ساعت و ربع چند کیلومتر طی می کند؟

۴۲۰ (ب)

۴۰۰ (الف)

۵۰۰ (د)

۴۲۵ (ج)

۸) نازنینم، تقسیم مقابل را انجام بده و امتحان درستی آن را بنویس.

$$\begin{array}{r} 7444 \\ 33 \overline{) } \\ \hline \end{array}$$

۱) هر کدام از ده کلمه ی زیر را در جای مناسب خود بنویسید.

چرخشی، انتقالی، مهتاب، مشتری، مریخ، بهرام،
ماه، زهره، زمین، زحل

* نزدیک ترین سیّاره به زمین است.

* نام دیگر سیّاره ی مریخ است.

* حرکت زمین باعث پیدایش شب و روز می شود.

* نوری است که ماه به طرف زمین بازتابش می کند.

* سیّاره ی را می توان صبح ها و عصرها نزدیک محل طلوع و
غروب خورشید دید.

* جنس از گاز است.

* سیّاره ی از دور آبی رنگ دیده می شود.

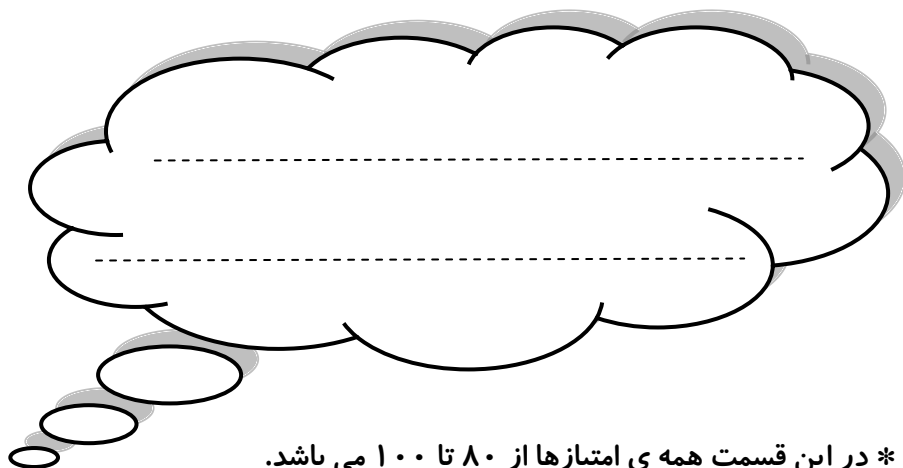
* حرکت زمین باعث پیدایش فصل ها می شود.

* در اطراف سیّاره ی حلقه های روشن زیادی وجود دارد.

۲) از میان جملات زیر کدام یک صحیح و کدام یک غلط است.

- غ ○ ص - دورترین سیاره منظومه ی شمسی اورانوس است.
- غ ○ ص - زحل همان کیوان است.
- غ ○ ص - حرکت زمین به دور خورشید حرکت انتقالی نام دارد.
- غ ○ ص - ماه از خود نوری ندارد.
- غ ○ ص - کره ی ماه یک ستاره است.
- غ ○ ص - جنس مریخ از گاز است.
- غ ○ ص - کره ی زمین از سیاره ی مریخ گرم تر است.
- غ ○ ص - سیاره ی مشتری بزرگ تر از کره ی زمین است.
- غ ○ ص - گردش کره ی ماه به دور زمین حدود ۴ هفته طول می کشد.
- غ ○ ص - جنس سیاره ی زحل مانند مریخ است.

ولی محترم لطفاً نظر خود را در رابطه با پیک این هفته برایمان بنویسید.



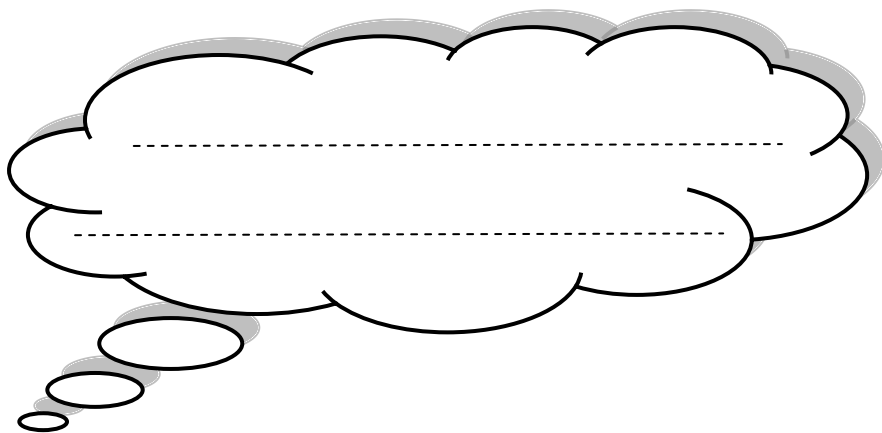
* در این قسمت همی امتیازها از ۸۰ تا ۱۰۰ می باشد.

- نازنینم، به زیبانویسی خود در پیک چه امتیازی می دهی؟

- مهربونم، در حل آن به خودت چه امتیازی می دهی؟

- عزیزدلم، مطالب را به خوبی فراگرفته ای؟

* نظرت درباره پیک:



افراد برتر هفته ...

