



پیک آدینه



شماره: هفته اول بهمن

پایه: سوم

نام و نام خانوادگی:



دستان و پیش دستان غیر دولتی و تحران صدر ۱

۱) حروف جا افتاده ی کلمه ها را بنویس.

بیا و منت بگذار و برسم..... من بنشین و با من چند ل.....مه ای غذا بخورتا تو را پس از مدت ها زیار..... کنم. مرا بهذای تواجت نیست. من خودم از امرایربم. حالا بیا و با خارکنی هم سفره شو، مگرکایت حا.....م و خارکن را نشنیده ای.

۲) جمع و مفرد کلمه ها را بنویس.

قطره: درختان: کودک:

قطعه: مجلات: زنان:

۳) شاعر «لحظه ی سبز دعا» کیست؟

ب) پروین اعتصامی

الف) قیصرامین پور

د) اسدالله شعبانی

ج) ناصر کشاورز

۴) کدام کلمات با پسوند «ستان» درست ترکیب شده، دور آن ها را خط بکش.

درختستان – شهرستان – کوهستان – باغستان – بیرستان

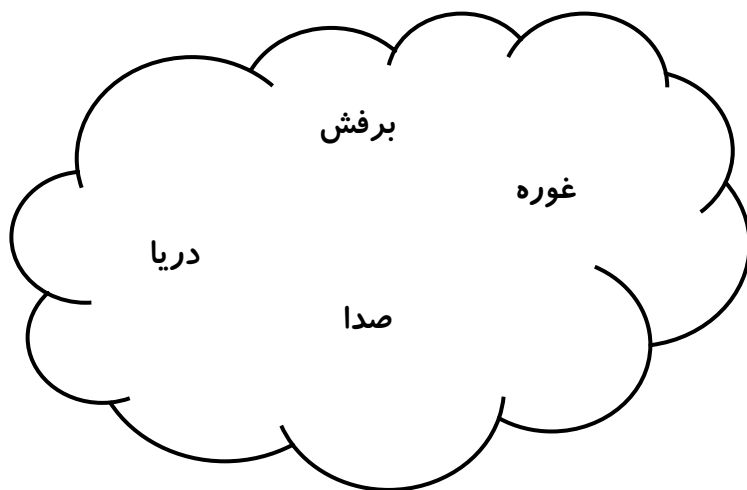
۵) ضرب المثل ها را بخوان و با کلمه های داده شده کامل کن.

* هر که بامش بیش بیش تر.

* قطره قطره جمع گردد عاقبت شود.

* گر صبر کنی ز حلوا سازی.

* یک دست ندارد.



۱) ضرب هایی که حاصل آن ها با هم برابر است، هم رنگ کن.

$$۹ \times ۲$$

$$۸ \times ۲$$

$$۳ \times ۴$$

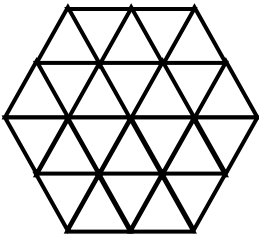
$$۲ \times ۶$$

$$۶ \times ۳$$

$$۴ \times ۴$$

۲) میترا خانم باغ گل دارد. در باغ او ۷ ردیف ۶ تایی گل بنفشه و ۴ ردیف ۶ تایی گل لاله وجود دارد. در باغ میترا خانم چند گل وجود دارد؟

۳) برای $(۷ \times ۳) + (۵ \times ۲)$ یک مسئله بنویس و حل کن.



۴) با دستور العمل های داده شده شکل را رنگ آمیزی کن.

* $\frac{1}{۲}$ شکل سبز شود. * $\frac{۲}{۲۴}$ نارنجی شود.

* $\frac{1}{۶}$ شکل را قرمز کن.

چه کسری از شکل رنگ نشده است؟

۵) با رسم شکل نشان دهید.

$$\frac{۳}{۵} = \frac{۶}{۱۰}$$

۱) کدام یک از کاربردهای انجماد نیست؟

- الف) نگه داری غذا ب) شمع سازی
- ج) ساخت بستنی د) ساخت کوزه سفالی

۲) در هوا همیشه مقداری وجود دارد.

۳) کدام یک از تغییر حالت های مواد در چرخه آب وجود ندارد؟

- الف) تبخیر ب) میعان ج) چگالش د) ذوب

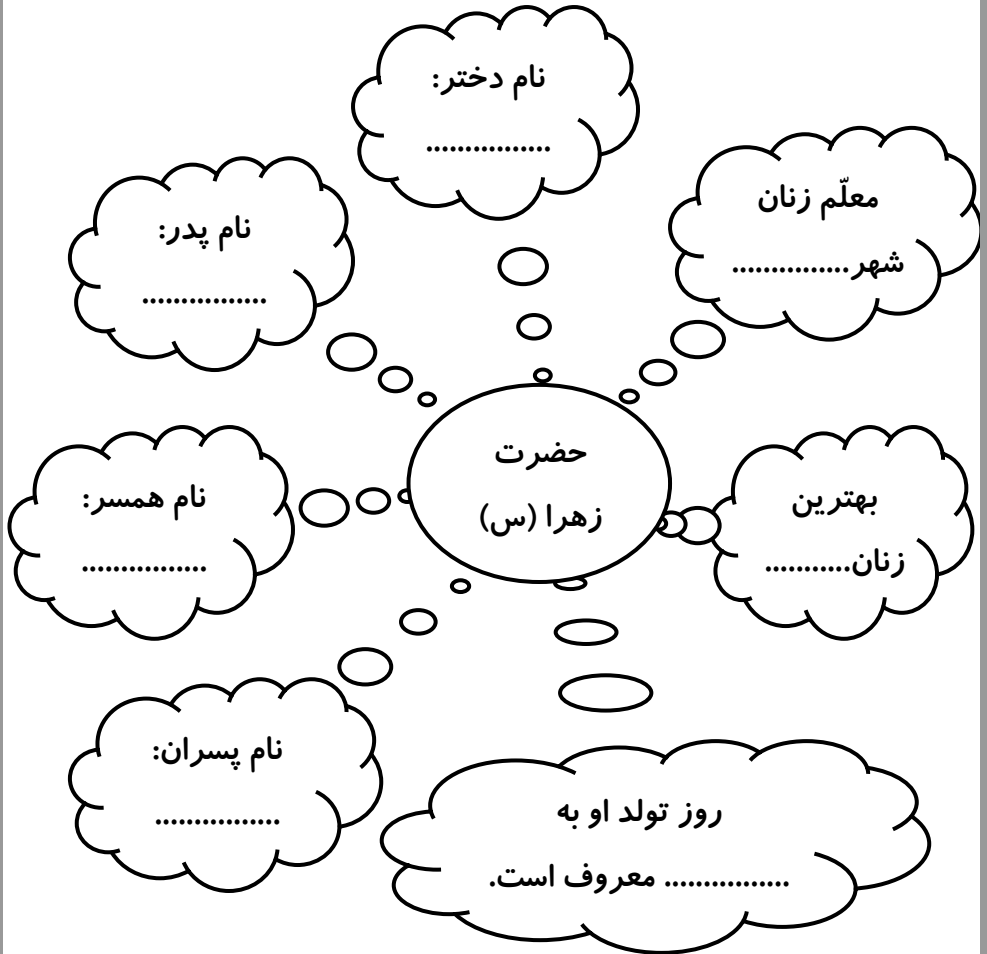
۴) در فروشگاه هایی که کنترل همه ی قسمت ها دشوار است معمولاً برای دیدن فضای بیش تر کدام آینه نصب می شود؟

۵) رود چگونه به وجود می آید؟



هدیه های آسمان

(۱) کامل کن.



۲) عید بزرگ مسلمانان چه نام دارد؟

۳) لقب حضرت فاطمه (س) چه بود و چرا پیامبر(ص) این لقب را به او داده بود؟

.....

.....

۴) چهار ویژگی حضرت فاطمه (س) را بنویس.

.....

.....

.....

.....

۵) شبی در ماه رمضان که ثواب زیادی دارد؟

۱) چرا سقف خانه های مناطق پر باران شیب دارد؟

.....

۲) در خانه چه نیازهای ما برآورده می شود؟

.....

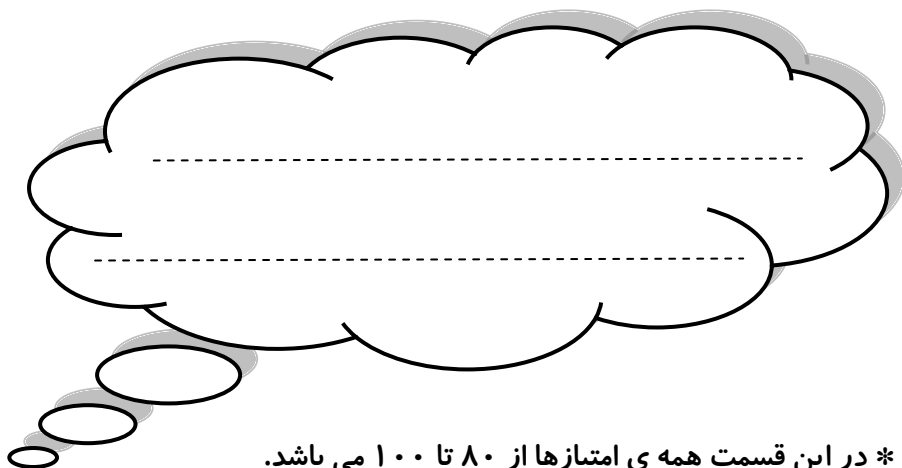
۳) به کسانی که برای یافتن علوفه برای دام های خود مجبور به کوچ کردن هستند می گویند.

۴) جدول زیر را کامل کن.

نساج - معلّم - خلبان - نانوا - خیاط - نجّار - رفتگر

شغل های خدماتی	شغل های تولیدی

ولی محترم لطفاً نظر خود را در رابطه با پیک این هفته برایمان بنویسید.



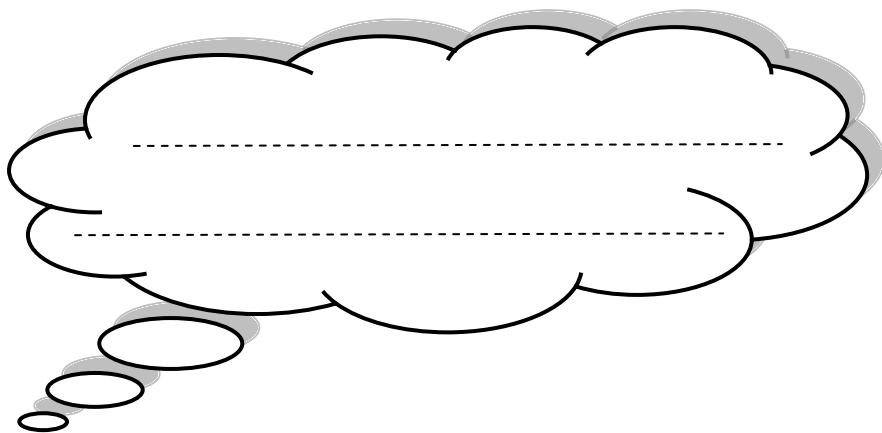
* در این قسمت همی امتیازها از ۸۰ تا ۱۰۰ می باشد.

- نازنینم، به زیبانویسی خود در پیک چه امتیازی می دهی؟

- مهربونم، در حل آن به خودت چه امتیازی می دهی؟

- عزیزدلم، مطالب را به خوبی فراگرفته ای؟

* نظرت درباره پیک:



افراد برتر هفته ...

