



پیک آدینه



شماره: هفته اول بهمن

پایه: دوم

نام و نام خانوادگی:

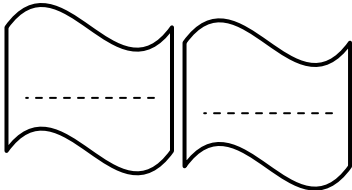


دستان و پیش دستان غیر دولتی و تحران صدر ۱

۱) مرتب کن.

در کارهایش صبر اگر موفق هنرمند داشته می شود باشد

۲) در درس «هنرمند» دو کلمه پیدا کنید که تشدید داشته باشد و جمله ای بسازید که آن کلمه ها در آن وجود داشته باشد.



۳) برای پاسخ زیر یک سؤال بنویسید.

سؤال:

پاسخ: به کسی که با گل چیزهای زیبا می سازد.

۴) املاي کدام کلمه درست است؟

ج) حوسله

ب) کلاق

الف) غصّه

۵) این کلمات را دسته بندی کن.

می دانی - می خندم - گفته ای - خوردم - نشستی
هستم - می بینی - رفتم

تو	من

ریاضی

۱) عددهای هر دسته را به نزدیک ترین عددی که یکان آن « ۰ » می باشد تبدیل کن و سپس جمع و تفریق آن را بنویس.

$$\begin{array}{r} \dots\dots\dots \\ ۱۷۲ \text{ و } ۳۱۹ \quad + \quad \dots\dots\dots \\ \hline \end{array}$$

$$\begin{array}{r} \dots\dots\dots \\ ۲۱۳ \text{ و } ۶۵۹ \quad - \quad \dots\dots\dots \\ \hline \end{array}$$

۲) الگوهای عددی زیر را ادامه بده.

۲۲۰-۳۲۰-۴۲۰- - -

۴۱۵-۴۳۵- - - -

۳) * دخترم، خط کش شما با چه واحدی مدرج شده است؟

* خط کش شما چند سانتی متر است؟

* طول مداد قرمز خود را با چه واحدی اندازه می گیری؟

* طول انگشت اشاره شما چند سانتی متر است؟

۴) با چند تا ۵۰ ریالی می شود ۴۰۰ ریال درست کرد؟ (با رسم شکل)

۵) جمع و تفریق های زیر را به صورت ذهنی حل کن.

$$۸۰+۲۰=$$

$$۴۰+۴۰=$$

$$۸۰۰-۵۰=$$

$$۷-۴=$$

$$۳۰۰+۲۰۰=$$

$$۷۰۰-۲۰۰=$$

$$۴۰۰+۱۰۰=$$

$$۳+۳=$$

۶) عددهای بسته را به صورت باز و عددهای باز را به صورت بسته بنویسید.

$$۷۸۹=$$

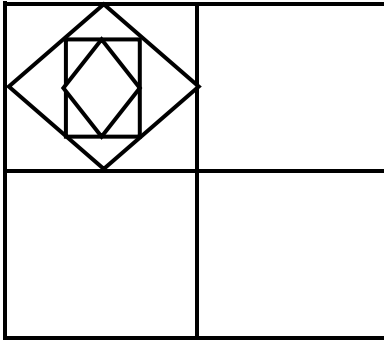
$$۴۰۰+۳۰۰=$$

$$۳۰۰+۷=$$

$$۶۴۵=$$

۷) جاهای خالی را کامل کن.

- ۱۷ سانتی متر، میلی متر است.
- ۵۰۷ ریال، ۱۰۰ ریالی، ۱۰ ریالی و ۱ ریالی است.
- ۷ صد ریالی و ۹ ده ریالی و ۲ ریالی می شود



۸) شکل را کامل کن و با سه رنگ (بنفش، صورتی، زرد) رنگ بزن.

۹) در یک پارکینگ روی هم ۶ دوچرخه و ماشین قرار دارد. آن ها روی هم ۱۸ چرخ دارند. در این پارکینگ چند ماشین و چند موتور قرار دارد؟

۱) فکر کن و بین با بطری خالی نوشابه چند چیز می توانی بسازی؟ (۵ مورد بنویس)

.....

۲) * یک میوه تک دانه نام ببر.

* دو میوه پردانه نام ببر.

* دو میوه که دانه اش را می خوریم نام ببر.

۳) چه عواملی باعث جابه جایی و پراکندگی دانه ها می شود؟

.....

۴) برای زیاد کردن یک گیاه کدام بخش برای کاشتن در زمین مناسب است؟

الف) دانه ب) پوست ج) اندوخته

۵) از کدام دانه ها می توان روغن گیاهی تهیه کرد؟

الف) لوییا و نخود ب) جو، برنج ج) زیتون و آفتابگردان

هدیه های آسمان

۱) امام حسن (ع) در چه شهری زندگی می کردند؟


۲) مرد خشمگین در چه شهری زندگی می کرد؟

۳) چه کار امام (ع) آن مرد خشمگین را که دشمنش بود تبدیل به یک دوست کرد؟
.....

۴) نام اولین امام ما است او پدر امام و امام
..... نام همسر ایشان است.

۵) به ترتیب بنویس.

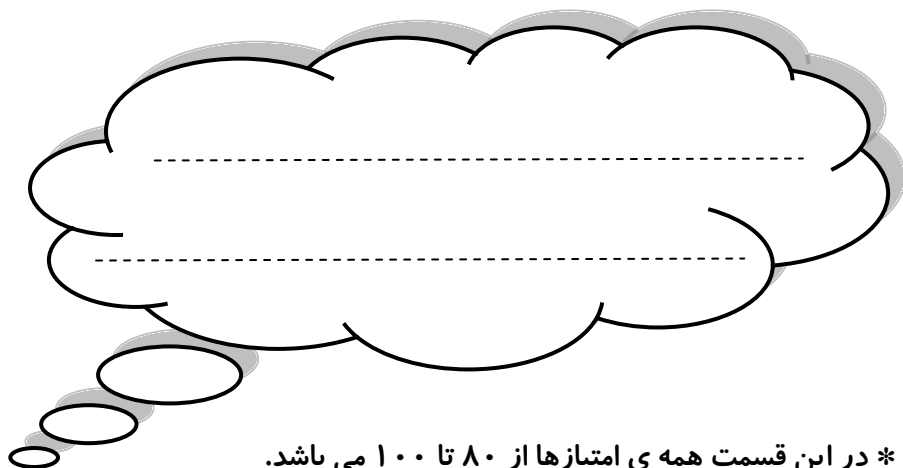
رکوع - سجده - خواندن حمد و سوره - نیت - سلام



۶) عزیزم از درس (۱۰، ۸ و ۶) کتاب فارسی، ۷ جمله که دوست داری بنویس.



ولی محترم لطفاً نظر خود را در رابطه با پیک این هفته برایمان بنویسید.



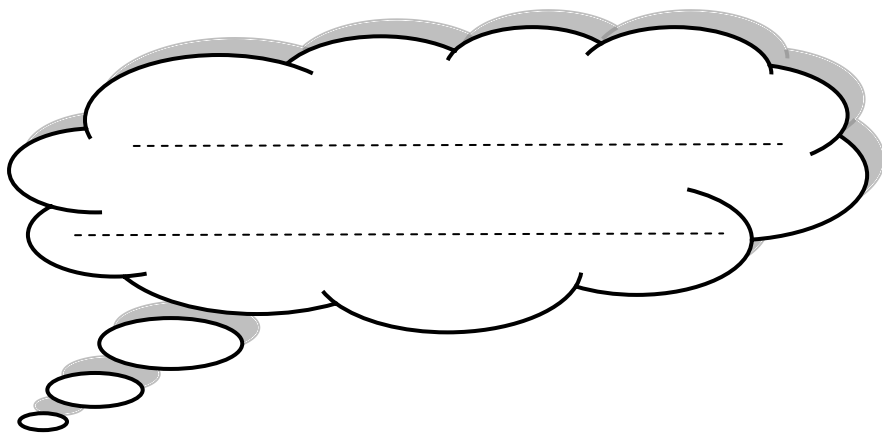
* در این قسمت همی امتیازها از ۸۰ تا ۱۰۰ می باشد.

- نازنینم، به زیبانویسی خود در پیک چه امتیازی می دهی؟

- مهربونم، در حل آن به خودت چه امتیازی می دهی؟

- عزیزدلم، مطالب را به خوبی فراگرفته ای؟

* نظرت درباره پیک:



افراد برتر هفته ...

