



پیک آدینه



شماره: هفته چهارم دی

پایه: دوم

نام و نام خانوادگی:

ولادت

امام حسن عسگری (ع)

مبارک



دستان و پیش دستان غیر دولتی و احترام صدر را

۱) هر کجا که لازم است، تشدید (ّ) یا تنوین (ً) بگذارید.

زحمت - مطمئناً - لذت - مثلاً - مدت - خاص - ذرت - اصلاً - ظهر - فوراً -  
مرتب - خواهشاً - منظمی

۲) مرتب کنید.

در / بودم / مشغول / روزی / کتاب / اتاق / خواندن / خود

.....

بهترین / است / خدا / هر / نام / سرآغاز / هر / برای / کار

.....

۳) عزیزم ۵ هم خانواده بنویسید.

..... ← .....

..... ← .....

..... ← .....

..... ← .....

..... ← .....

۴) جمله ها را با توجه به کلمه ی داخل کمانک تغییر بدهید و بنویسید.

من در کلاس سفالگری حوصله ی زیادی دارم. (او)

.....

شما می توانید مجله ها و کتاب های مربوط به خودتان را تهیه کنید. (ما)

.....

۵) دو بیت اول شعری را که «افشین اعلا» سروده را بنویسید.

.....
.....

۶) کلمات زیر را طبقه بندی کنید.

باحوصله - دانشمند - خواستن - نمازخانه - بااهمیت - خواستگاری -

هنرمند - هم فکر - گل خانه - دانا

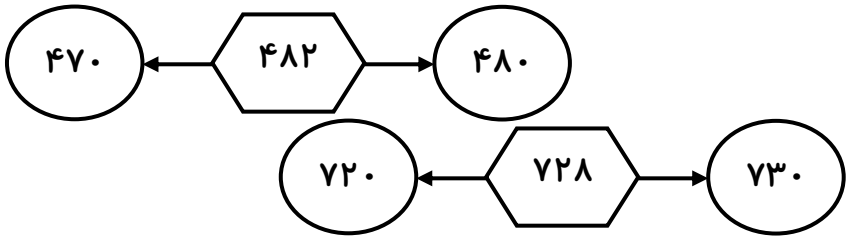
گروه ۴	گروه ۳	گروه ۲	گروه ۱

یک ضرب المثل که در آن دوستی به کار رفته باشد بنویسید.

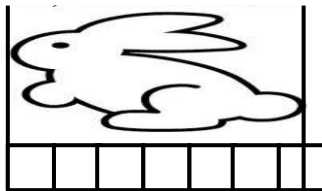
.....

ریاضی

۱) اعداد داخل شش ضلعی، به کدام عدد نزدیک تر است؟ آن را رنگ کنید.



۲) طول این خرگوش بین ..... چینه و ..... چینه است.



طول سنجاق بین ..... پاک کن و ..... پاک کن است.




۳) پول های هر ردیف چند ریال است؟

۵۰۰ ریال	۲۵۰ ریال	۱۰۰ ریال	۱۰ ریال	۱۰ ریال	۵ ریال	۱ ریال	..... ریال
۱۰۰ ریال	۱۰۰ ریال	۱۰۰ ریال	۵۰ ریال	۵۰ ریال	۲۰ ریال	۲۰ ریال	..... ریال
۲۵ ریال	۲۵ ریال	۲۰ ریال	۲۰ ریال	۵ ریال	۲ ریال	۱ ریال	..... ریال

بلندی، درازا و فاصله ها را طول می گویند که با واحدهای گوناگون مانند: متر، سانتی متر، میلی متر، کیلومتر و ..... اندازه می گیرند.

۴) اگر عقربه بزرگ ..... دقیقه حرکت کند، ساعت ۷ می شود.



اگر عقربه بزرگ ..... دقیقه حرکت کند، ساعت ۱۲:۱۵ می شود.



۵) اندازه ی قد خودت و پدرت را بنویس و بعد با هم مقایسه کنید.

اندازه قد خودم: ..... اندازه قد پدرم: .....

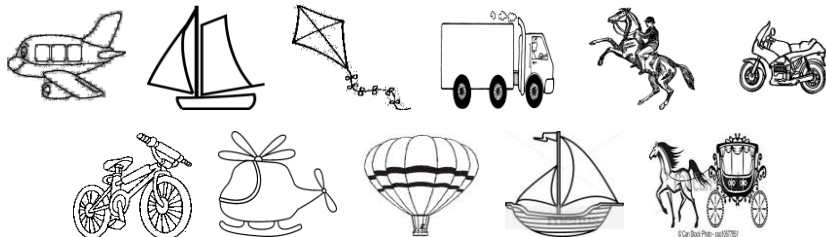
قد من از قد پدرم، ..... است.

۶) قورباغه در هر بار پرش ۱۰۰ سانتی متر می پرد. این قورباغه پس از ۶ بار پریدن چند سانتی متر راه را طی کرده است؟ (با رسم پرش ها)

۷) یک خط ۱۲ سانتی متری با خط کش بکشید. آن را به قسمت های ۲ سانتی متری قسمت کنید. این خط از ..... قسمت ۲ سانتی متری درست شده است.

۸) وقتی هانیه مدادش را خرید طول آن ۱۳ سانتی متر بود. بعد از دو هفته طول مدادش به ۷ سانتی متر رسید. مداد او چه تغییری کرده است. چگونه به این نتیجه رسیدی؟

۱) با توجه به تصویر جدول را کامل کنید.



	بدون سوخت
	با سوخت



۲) با توجه به تصویر سایه، خورشید را نقاشی کنید.

۳) شب و روز چگونه به وجود می آید؟

.....

۴) برای هر کدام از موارد خواسته شده یک مثال بنویسید.

	←	حیوانی که در شب شکار می کند.
	←	استفاده از باد
	←	یکی از راه های صرفه جویی
	←	یکی از راه های جلوگیری از آلودگی هوا

۶) با کلمات مناسب کامل کنید.

\* ..... یک منبع انرژی تمام نشدنی است. بدون هزینه در .....  
همه است و استفاده از آن، ..... را آلوده نمی کند.

\* موادی مثل: ..... ، ..... ، ..... را سوخت می گویند.

هدیه های آسمان

۱) درباره حضرت محمد(ص) بنویسید.

.....

۲) نام ۷ پیامبر که با زندگی آن ها آشنا شده اید را بنویسید.

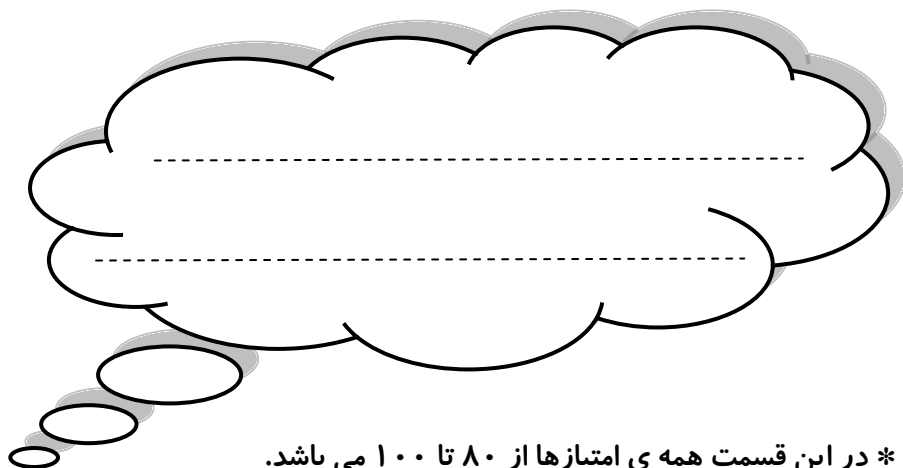
.....

۳) وقتی نماز می خوانی چه احساسی داری؟

.....



ولی محترم لطفاً نظر خود را در رابطه با پیک این هفته برایمان بنویسید.



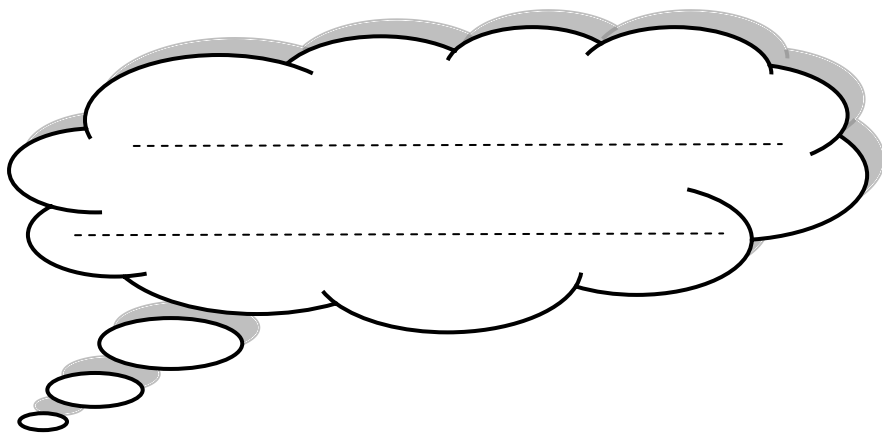
\* در این قسمت همه ی امتیازها از ۸۰ تا ۱۰۰ می باشد.

- نازنینم، به زیانویسی خود در پیک چه امتیازی می دهی؟

- مهربونم، در حل آن به خودت چه امتیازی می دهی؟

- عزیزدلم، مطالب را به خوبی فراگرفته ای؟

\* نظرت درباره پیک:



# افراد برتر هفته ...

