



پیک آدینه



شماره: هفته سوم دی

پایه: ششم

نام و نام خانوادگی:



دستان و پیش دستان غیر دولتی و تحرانہ صدر ا

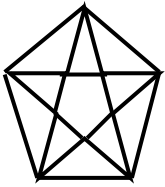
۱) نقش واژه های مشخص شده را بنویسید.

\* استاد امامی، بی صبرانه گفت.

\* سال ها بعد محمود فرشچیان، استادی هنرمند و نام آشنا در نقاشی شد.

۲) آرایه سجع را کامل توضیح دهید.

۳) چه چیزی قالب های شعر را در شعر سنتی مشخص می کند؟

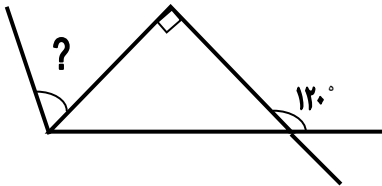


۱) در شکل داده شده چند پاره خط وجود دارد؟

- الف) ۳۰ □      ب) ۳۵ □      ج) ۴۰ □      د) ۴۳ □

۲) اندازه زاویه مشخص شده در شکل مقابل چند درجه است؟

نیمساز



- الف)  $60^\circ$  □      ب)  $150^\circ$  □  
ج)  $30^\circ$  □      د)  $75^\circ$  □

۳) جاهای خالی را با عدد مناسب کامل کنید.

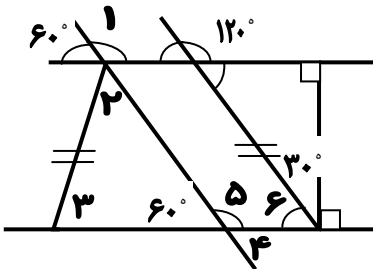
الف) ۶۳۰۰ میلی متر = ..... متر

ب) ۸۴۰ دسی متر = ..... متر = ..... میلی متر

ج)  $3/9$  کیلومتر = ..... متر = ..... دسی متر

د) زاویه ..... مکمل زاویه  $53^\circ$  است. متمم زاویه ..... درجه است.

۴) با توجه به شکل اندازه ی زاویه های خواسته شده را به دست آورید.



- $\hat{A} =$        $\hat{D} =$   
 $\hat{B} =$        $\hat{E} =$   
 $\hat{C} =$        $\hat{V} =$   
 $\hat{F} =$        $\hat{H} =$

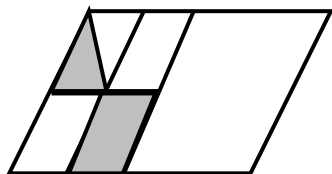
۵) حاصل عبارت های زیر را به دست آورید.

الف)  $6\frac{5}{3} + 3\frac{3}{4} + 1\frac{4}{6} =$

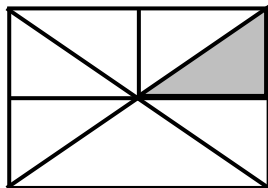
ب)  $5 - 1\frac{1}{12} + 2\frac{1}{9} =$

۶) چه کسری از شکل های زیر رنگ نشده است؟

الف)

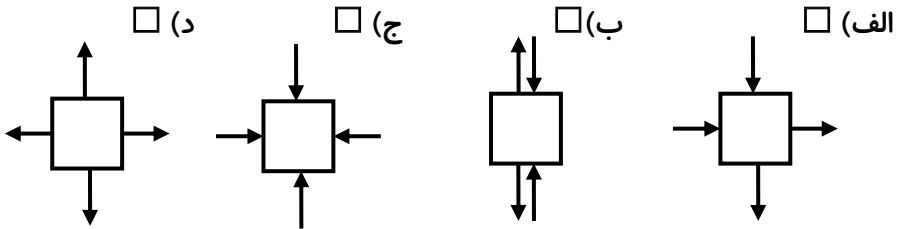


ب)



۱) گزینه ی صحیح را با علامت «X» مشخص نمایید.

- کدام جسم در جای خود ثابت نمی ماند؟ (همه ی نیروها هم اندازه ی هم هستند).



- وقتی کمدی را هل می دهیم ولی کمد از جای خود تکان نمی خورد، یعنی

الف) نیرویی که وارد شده به کمد صفر است

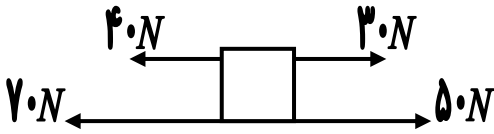
ب) نیرویی که برای به حرکت درآوردن کمد نیاز است بیش تر از نیروی وارد شده می باشد

ج) نیرویی که ما وارد می کنیم از نیرویی که کمد به ما وارد می کند بیش تر است

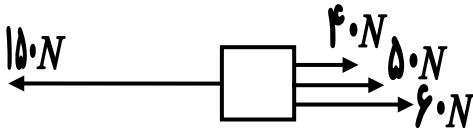
د) نیرویی که ما به کمد وارد می کنیم بیش تر از نیروی مقاوم کمد است

۲) نیروی خالص شکل های زیر را به دست آورید.

(الف)



(ب)



۳) تعریف کنید.

\* نیروی گرانشی زمین

\* نیروی الکتریکی

۱) حدیثی از پیامبر اکرم درباره ی امام زمان (ع) بنویسید.

Blank writing area with three horizontal dashed lines for text entry.

۲) چرا امام زمان (ع) تاکنون در دوران غیبت به سر می برند؟





۱) از ایوان کاخ عالی قاپو چه استفاده ای می شد؟

۲) شاه عباس در کاخ عالی قاپو به چه کارهایی می پرداخت؟

۳) کتیبه ها در مسجد امام در چه قسمت هایی دیده می شوند؟ و به خط کیست؟

۴) مناره های مسجد امام (مسجد جامع عباسی) چه ویژگی هایی دارند؟



۵) برای جواب های زیر سؤال طراحی نمایید.

\* .....؟ گنبد

\* .....؟ زاینده رود


۶) صحیح یا غلط بودن هر جمله را مشخص کنید.

- جمعیت شهر اصفهان حدود ۴ میلیون نفر است. ( )

- کاخ عالی قاپو در ۶ طبقه ساخته شده است. ( )



ولی محترم لطفاً نظر خود را در رابطه با پیک این هفته برایمان بنویسید.




خودارزیابی:

دختر گلم به نظر خودت این پیک را چگونه انجام دادی؟

خیلی خوب  خوب  قابل قبول  نیاز به آموزش و تلاش بیشتر

من این پیک را در مدت ----- انجام دادم.

نظر من:



# افراد برتر هفته ...

