



پیک آدینه



شماره: هفته چهارم دی

پایه: سوم

نام و نام خانوادگی:



ولادت

امام حسن عسگری (ع)

مبارک

دستان و پیش دستان غیر دولتی و احترام صدررا

۱) کلمه های وارونه را درست بنویس و با دو تا از آن ها جمله هایی مربوط به حال و آینده بنویس.

هدرزا

شیوخ

نابرض

متاح



.....

.....

.....

.....

.....:

.....:

۲) با توجه به متن درس نویسنده ی بزرگ جمله ها را شماره گذاری کن.

ابتدا به بغداد رفت و در آن جا تحصیلات خود را ادامه داد.



او دوران کودکی و نوجوانی را در شیراز گذراند.



سعدی اهل شیراز بود.



بعد به جاهای دیگر مانند سوریه، لبنان و روم رفت.



سرانجام پس از سی و پنج سال سفر به شیراز برگشت.



برای زیارت خانه ی خدا به مکه رفت.



۳) کلماتی را که با پسوند «مند» ترکیب درستی ساخته اند جدا کن و بنویس.

شادمند، هوامند، دریامند، ارجمند، قانونمند،
هنرمند، اثرمند، مهربانمند

۴) کلمات مخالف را هم رنگ کن.

زشت	نزدیک	غایب	سخت
حاضر	راحت	زیبا	دور

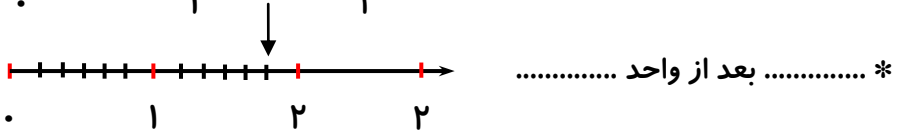
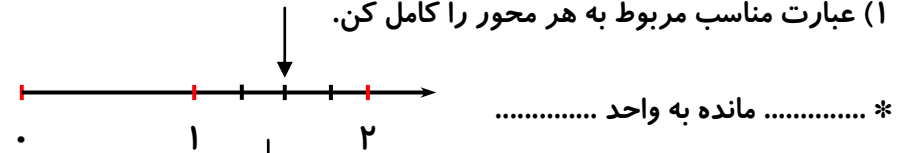
۵) برای هر کلمه دو هم خانواده پیدا کن.

عطر: و

لطیف: و

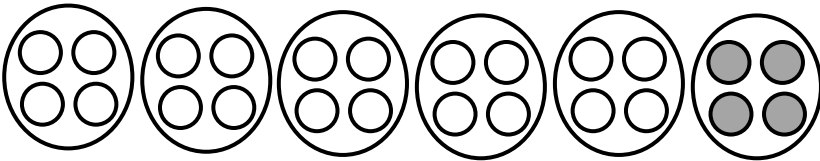
لطیفه	عطر	لطفات
عطار	ملاطفت	عطر آگین

۱) عبارت مناسب مربوط به هر محور را کامل کن.

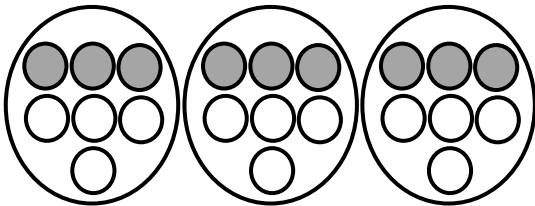


۲) با رسم شکل نشان بده که $\frac{2}{4} = \frac{4}{8} = \frac{6}{12}$

۳) با استفاده از شکل داده شده عبارت را کامل کن.



$6 \times 4 = (\dots \times 4) + (1 \times \dots) = \dots + \dots = \dots$



$3 \times 7 = (3 \times \dots) + (\dots \times 3) = \dots + \dots = \dots$

۴) داور فوتبال ۲ جیب دارد. در هر جیب او ۴ کارت زرد است. داور چند کارت زرد دارد؟

۵) در جای خالی علامت مناسب بگذار.

$$25 \bigcirc 7 \times 3$$

$$\frac{2}{6} \bigcirc \frac{2}{3}$$

$$2 \times 9 \bigcirc 9 + 9$$

$$\frac{2}{6} \bigcirc \frac{2}{3}$$

۶) شکل را یک بار ۲ تا ۲ و یک بار ۳ تا ۳ و یک بار ۴ تا ۴ دسته بندی کن و برای هر کدام یک ضرب بنویس.















$$\dots \times \dots = \dots$$


$$\dots \div \dots = \dots$$

$$\dots \div \dots = \dots$$


۱) برای پیدا کردن رمز، هر حرف را از جدول راهنما پیدا کن و بالای هر شکل بنویس.

											
ی	ه	ن	م	س	ر	د	خ	چ	ت	ب	آ

.....



.....




۲) در هوا همیشه مقداری وجود دارد.

۳) سرعت نفوذ آب به ترتیب در کدام خاک کم تر است؟ (از کم تر به بیش تر مقایسه کنید.)


سنگ  رس  ماسه و شن

۴) جهت تابش و بازتابش نور خورشید را با کشیدن ← از خورشید به ماه و به زمین نشان بده.

ماه



خورشید



زمین



۵) برای هر کدام از آیینه ها ۱ مثال بنویس.

آینه فرورفته:

آینه تخت:

آینه برآمده:

هدیه های آسمان



۱) ام اییها لقب کیست؟

۲) کتاب آسمانی ما مسلمانان چیست؟

۳) سه ویژگی حضرت زینب (س) را بنویس.

.....

۴) روز تولد حضرت فاطمه (س) است.

مطالعات اجتماعی

۱) چرا در شهرها خانه ها به شکل آپارتمان نیز وجود دارد؟

.....

۲) چادر خانه ی کدام انسان هاست؟ چرا؟

.....

.....

۳) در کنار خانه های روستایی چه چیز دیگری هم وجود دارد؟

.....

۴) مقررات چیست؟

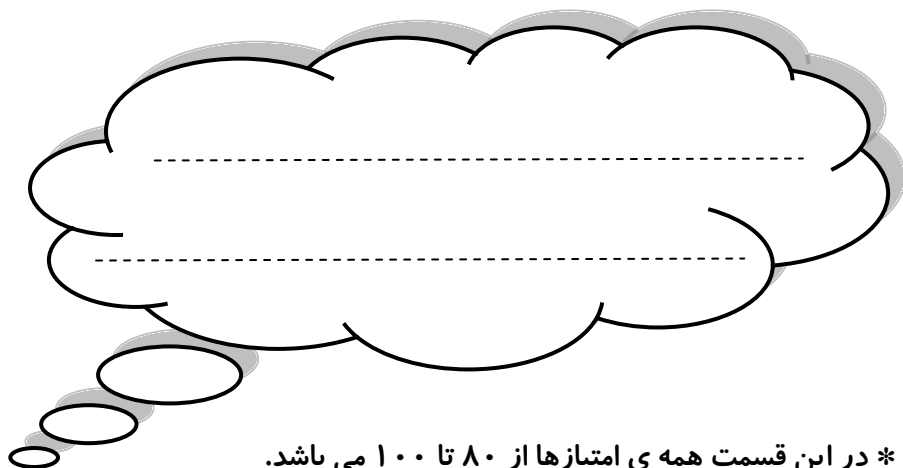
.....

.....

۵) برای دامپروری به چه چیزهایی نیاز داریم؟

.....

ولی محترم لطفاً نظر خود را در رابطه با پیک این هفته برایمان بنویسید.



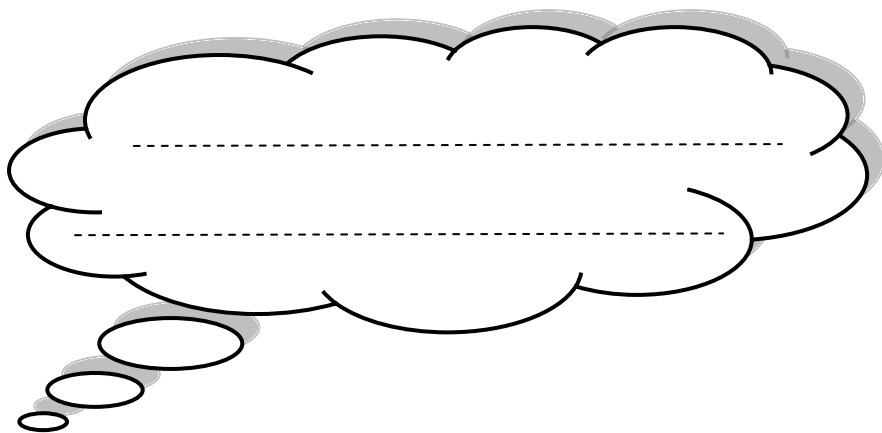
* در این قسمت همه ی امتیازها از ۸۰ تا ۱۰۰ می باشد.

- نازنینم، به زیبانویسی خود در پیک چه امتیازی می دهی؟

- مهربونم، در حل آن به خودت چه امتیازی می دهی؟

- عزیزدلم، مطالب را به خوبی فراگرفته ای؟

* نظرت درباره پیک:



افراد برتر هفته ...

