



مقطع: دبستان

درس: ریاضی

استان:

دوره: اول

نوع آزمون: ارزشیابی مهرماه

شهرستان:

پایه: سوم

زمان آزمون: ۵۵ دقیقه

آموزشگاه:

WwW.MoallemYar.IR

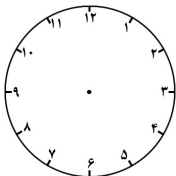
۱ الگوهای عددی زیر را ادامه بدهید.

۹-۱۱-۱۳-.....-.....-.....-.....

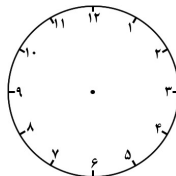
۴۷۳-۴۸۳-۴۹۳-.....-.....-.....-.....

۱۲۱-۲۲۱-۳۲۱-.....-.....-.....-.....

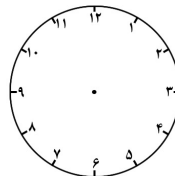
۲ هر یک از زمان‌های داده شده را روی صفحه ی ساعت نشان بدهید.



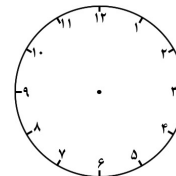
۲۴:۰۰



۱۴:۲۰



۲۰:۳۰



۱۷:۵۰

۳ حاصل جمع‌های زیر را به دست بیاورید.

$$۶+۵+۳+۴+۵+۲= \bigcirc$$

$$۷+۵+۳+۱+۴= \bigcirc$$

$$۸+۵+۵+۲+۷+۱= \bigcirc$$

$$۹+۱+۲+۱+۷+۹= \bigcirc$$

۴ در جاهای خالی عدد مناسب بنویس.

۲	۳۶	۵۰۸	۷۲	۶۹۸	۴۸۶	۴۳
---	----	-----	----	-----	-----	----

$$\boxed{\phantom{000000}} + ۳۰۰$$

--	--	--	--	--	--	--

۵ به سؤالات زیر پاسخ بدهید.

الف: باز شده‌ی مکعب از چند مربع تشکیل شده است؟.....

ب: سومین عدد در شمارش ۵ تا ۵ تا بعد از ۸۵، کدام عدد می‌شود؟.....

پ: سی دقیقه بعد از ساعت پانزده و بیست دقیقه، چند می‌شود؟.....

ت: اگر به عدد ۶۶ سی و سه تا اضافه کنیم، چه عددی به دست می‌آید؟.....



مقطع: دبستان

درس: ریاضی

استان:

دوره: اول

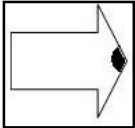



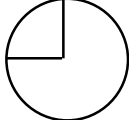
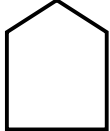
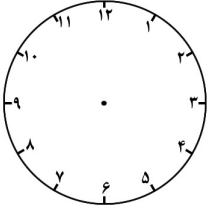
نوع آزمون: ارزشیابی مهرماه

شهرستان:

پایه: سوم

زمان آزمون: ۵۵ دقیقه

آموزشگاه:

۶	<p>زمان‌های داده شده را بطور مناسب به همدیگر وصل کنید.</p> <table style="width: 100%; border: none;"> <tr> <td style="text-align: center;">●</td> <td style="text-align: center;">●</td> <td style="text-align: center;">ساعت ۱۹ و ۲۰ دقیقه</td> </tr> <tr> <td style="text-align: center;">●</td> <td style="text-align: center;">●</td> <td style="text-align: center;">ساعت ۱۴ و بیست دقیقه</td> </tr> <tr> <td style="text-align: center;">●</td> <td style="text-align: center;">●</td> <td style="text-align: center;">ساعت ۱۳ و بیست دقیقه</td> </tr> <tr> <td style="text-align: center;">●</td> <td style="text-align: center;">●</td> <td style="text-align: center;">ساعت ۲۰ و بیست دقیقه</td> </tr> </table>	●	●	ساعت ۱۹ و ۲۰ دقیقه	●	●	ساعت ۱۴ و بیست دقیقه	●	●	ساعت ۱۳ و بیست دقیقه	●	●	ساعت ۲۰ و بیست دقیقه
●	●	ساعت ۱۹ و ۲۰ دقیقه											
●	●	ساعت ۱۴ و بیست دقیقه											
●	●	ساعت ۱۳ و بیست دقیقه											
●	●	ساعت ۲۰ و بیست دقیقه											
۷	<p>جدول زیر را کامل کنید. (مربوط به زمان)</p> <table border="1" style="width: 100%; border-collapse: collapse; text-align: center;"> <tr> <td style="width: 15%;"></td> <td style="width: 15%;"></td> <td style="width: 15%;">۲۳:۴۵</td> <td style="width: 15%;">۲۱:۰۰</td> <td style="width: 15%;"></td> <td style="width: 20%;">بصورت دیجیتالی</td> </tr> <tr> <td>یک و ربع</td> <td>هفت و ده دقیقه</td> <td></td> <td></td> <td>دو و نیم</td> <td>خواندن ساعت</td> </tr> </table>			۲۳:۴۵	۲۱:۰۰		بصورت دیجیتالی	یک و ربع	هفت و ده دقیقه			دو و نیم	خواندن ساعت
		۲۳:۴۵	۲۱:۰۰		بصورت دیجیتالی								
یک و ربع	هفت و ده دقیقه			دو و نیم	خواندن ساعت								
۸	<p>خط تقارن‌های شکل‌های زیر را رسم کن.</p> <div style="display: flex; justify-content: space-around; align-items: center;">       </div>												
۹	<p>سیاوش با دوستش قرار گذاشته اند که هر دو نفر امشب راس ساعت ۸:۲۰ شروع به مطالعه کردن نمایند. عقربه‌های ساعت در این زمان روی چه عددهایی قرار گرفته‌اند؟ روی شکل نشان بدهید.</p> 												
۱۰	<p>شهرزاد ۴ بسته آدامس خریده است که هر بسته ۵ عدد آدامس دارد، اگر او ۴ عدد از این آدامس‌ها را به دوستانش داده باشد چند عدد آدامس دیگر هنوز برایش باقی مانده است؟</p>												

نتیجه ی ارزشیابی : خیلی خوب ○ خوب ○ قابل قبول ○ نیاز به تلاش بیشتر ○