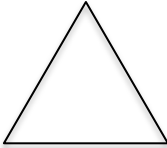
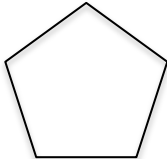
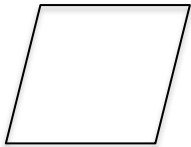
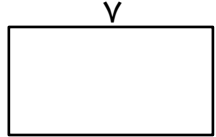
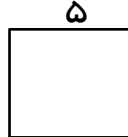
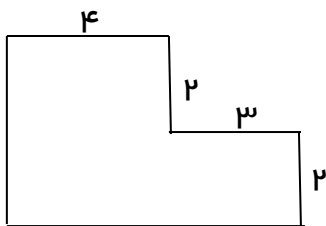
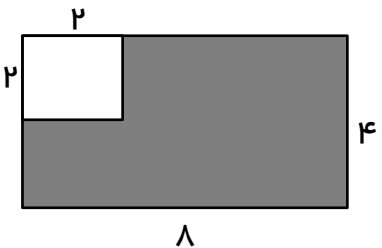



<p>تاریخ آزمون:</p> <p>وقت آزمون: ۴۰ دقیقه</p>	<p>آزمون ریاضی سوم ابتدایی از فصل ۵</p> <p>مدرسه:</p>	<p>«به نام خدا»</p> <p>نام و نام خانوادگی:</p>
<p>۱ علی ۱۲ عکس ماشین دارد. برادرش ۶ عکس ماشین کمتر از او دارد. این دو برادر روی هم چند عکس ماشین دارند؟</p>		
<p>۲ این شکل ها را نام گذاری کنید و نام هر شکل را زیر آن بنویسید.</p> <div style="display: flex; justify-content: space-around; align-items: center;"> <div style="text-align: center;">  </div> <div style="text-align: center;">  </div> <div style="text-align: center;">  </div> </div>		
<p>۳ محیط و مساحت شکل های زیر را حساب کنید.</p> <div style="display: flex; justify-content: space-around;"> <div style="text-align: center;">  <p>محیط:</p> <p>مساحت:</p> </div> <div style="text-align: center;">  <p>محیط:</p> <p>مساحت:</p> </div> </div>		
<p>۴ ابتدا اندازه ی ضلع هایی را که داده نشده است، پیدا کنید. سپس ، محیط و مساحت شکل را به دست آورید.</p> <div style="display: flex; justify-content: space-around;"> <div style="text-align: center;">  <p>محیط:</p> <p>مساحت:</p> </div> </div>		
<p>۵ مساحت قسمت رنگی شکل زیر را به دست آورید.</p> <div style="text-align: center;">  </div>		

<p>مساحت مستطیلی ۴۸ سانتی متر مربع است. اگر یک ضلع آن ۶ سانتی متر باشد، ضلع دیگرش چند سانتی متر است؟ (با رسم شکل)</p>	۶
<p>پدر علی یک فرش ۷ در ۹ متر خریده است. مساحت این فرش چند متر مربع است؟ (با رسم شکل)</p>	۷

خودسنجی:

من از این آزمون یاد گرفتم



وضعیت من در این آزمون:

بازخورد آموزگار:
