

بسمه تعالی

دبستان:

کلاس:

نام و نام خانوادگی:

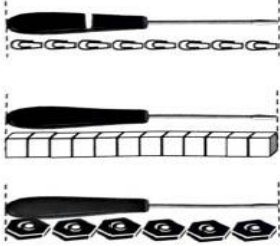
آزمون ریاضی دوم ابتدایی

(فصل ۵)

تاریخ:

مدت آزمون:

سوال ۱: اندازه طول پیچ گوشتی با وسایل مختلف اندازه گیری شده است با توجه به تصویر جای خال هارا کامل کنید .



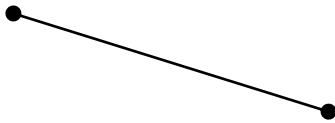
الف) طول پیچ گوشتی به اندازه ی گیره است .

ب) طول پیچ گوشتی به اندازه ی چینه است .

ج) طول پیچ گوشتی به اندازه ی مهره است .

د) برای اینکه طول پیچ گوشتی فقط با یک عدد مشخص شود چه راهی پیشنهاد می دهید ؟

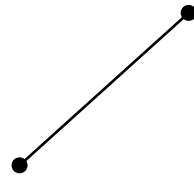
سوال ۲: اندازه هر پاره خط را با خط کش اندازه بگیرید و بنویسید .



ج) سانتی متر



ب) سانتی متر



الف) سانتی متر

سوال ۳: به ساعت مقابل نگاه کنید :



الف) عقربه بزرگ چند دقیقه حرکت کند تا ساعت ۲:۳۰ شود ؟

ب) عقربه بزرگ چند دقیقه حرکت کند ساعت ۳:۱۰ می شود ؟

سوال ۴: در یک مزرعه روی هم ۴ مرغ و بره هستند آن ها روی هم ۱۴ پا دارند . در این مزرعه چند تا مرغ و چند تا بره وجود دارد ؟

سوال ۵: دو پاره خط یکی به اندازه ۷ سانتی متر و دیگری به اندازه ۵ سانتی متر رسم کنید .

بسمه تعالی

دبستان:

کلاس:

آزمون ریاضی دوم ابتدایی

تاریخ:

نام و نام خانوادگی:

(فصل ۵)

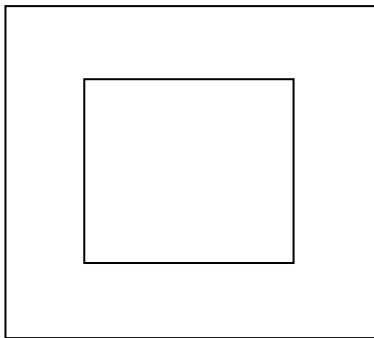
مدت آزمون:

سوال ۶: با خط کش خود درازا و پهناي کتاب ریاضی را اندازه بگیرید و جمله هارا کامل کنید .

الف) درازای کتاب ریاضی بین و سانتی متر است .

ب) پهناي کتاب ریاضی بین و سانتی متر است .

سوال ۷: اندازه ضلع های مربع هارا با خط کش بگیرید و بنویسید .



سوال ۸: ابتدا اندازه هارا حدس بزنید سپس با استفاده از خط کش اندازه را بنویسید .



حدس :

حدس :

اندازه سانتی متر و میلی متر

اندازه : سانتی متر و میلی متر

..... میلی متر

..... میلی متر

بسمه تعالی

پاسخنامه

آزمون ریاضی دوم ابتدایی

(فصل ۵)

سوال ۱: الف (۸) ب (۱۲) ج (۶) د) با خط کش یا سانتی متر اندازه بگیریم .

سوال ۲: با خط کش اندازه گیری شود

سوال ۳: الف) ۱۰ دقیقه ب) ۵۰ دقیقه

سوال ۴: یک مرغ و سه بز وجود دارد . $۴ + ۴ + ۴ + ۲ = ۱۴$

۷ سانتی متر

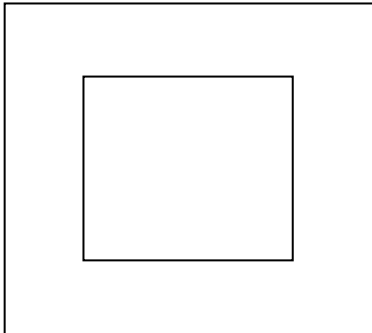


۵ سانتی متر



سوال ۵:

سوال ۶: الف) ب با خط کش اندازه گیری شود ب) ب با خط کش اندازه گیری شود .



سوال ۷: با خط کش اندازه گیری شود

سوال ۸: با خط کش اندازه گیری شود