

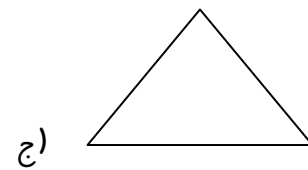

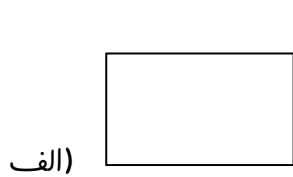


نام و نام خانوادگی:

۱) برای جمع زیر یک خط بکشید و جواب را بنویسید. برای کشیدن چوب خط از دو مداد رنگی استفاده کنید.

$6 + 7 = \dots\dots\dots$

۲) کدام شکل خط تقارن زیادی دارد؟

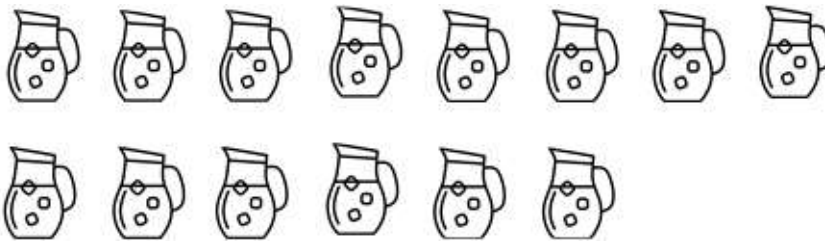


.....

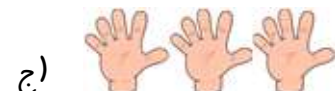
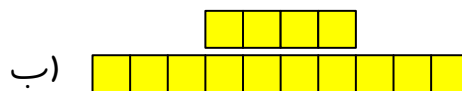
.....

.....

۳) با عدد و چوب خط نشان دهید.



۴) هر شکل را به عددش وصل کنید.



14

15

12

۵) عددی بنویسید که یکی‌ها و ده‌تایی‌های آن مثل هم باشند.

۶) از علامت $< = >$ استفاده کنید و یا عدد مناسب بنویسید.

الف) $>$

ب) $5 + 10$ ۱۵

ج) ۱۱ ۱۴

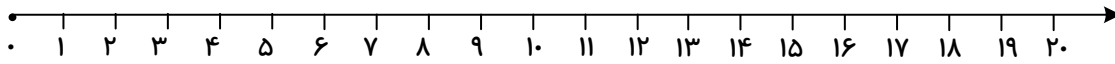
د) ۱۲ نه



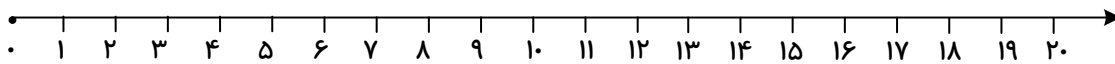
نام و نام خانوادگی:

۷) جمع و تفریق را محور نشان دهید.

$$۳ + ۷ = \dots\dots\dots$$



$$۱۲ - ۷ = \dots\dots\dots$$



۸) برای شکل زیر تفریق بنویسید.

